


2018~2019 学年度第一学期

一年级数学科期中测试卷 (B)

内容包括: 至第一册练习十三

| 题次 | 一 | 二 | 三 | 四 | 五 | 六 | 评分 |
|----|---|---|---|---|---|---|----|
| 评分 | | | | | | | |

一、写一写, 比一比。(10分)



把上面各数按从大到小的顺序排列:

() > () > () > () > ()

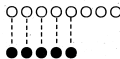
二、填空。(第5题4分, 其余每空1分, 共37分)

- 8 后面的数是 (), 前面的数是 ()。
- 比 5 大比 10 小的数有 () () () ()。
- 和 6 相邻的两个数是 () 和 ()。



- 一共有 () 个图形。
- 从左数, 圆柱排在第 (); 从右数, 圆柱排在第 ()。
- 球的左边有 () 个图形, 右边有 () 个图形。

5、填一填, 比一比。



○有 () 个, ●有 () 个。

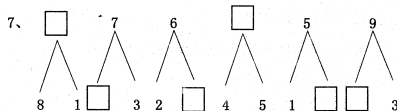
() > ()

() < ()

6、

| | | | | | |
|--|---|--|---|--|--|
| | 8 | | 6 | | |
|--|---|--|---|--|--|

| | | | | | | |
|---|--|---|--|---|--|--|
| 0 | | 2 | | 4 | | |
|---|--|---|--|---|--|--|







8、按得数的大小将算式排一排。

10-9 3+4 9-5 1+8 0+6

() < () < () < () < ()

三、数一数，填一填。(12分)



| | | | |
|---|---|---|---|
|  |  |  |  |
| () 个 | () 个 | () 个 | () 个 |


2、



四、判断。(对的画“√”，错的画“×”)(5分)

1、能滚动又能立起来的是球。

()

2、 图中的小女孩举起来的是右手。

()

3、比3多7的数是10。

()

4、用4个相同的小正方体能拼成一个大正方体。

()

5、 $9 - \square = 6$ 中， \square 应填9。

()

五、计算。(12+6=18分)

1、口算。

| | | | |
|--------|--------|--------|--------|
| $6-1=$ | $5+2=$ | $8-3=$ | $6-4=$ |
| $4+3=$ | $7-1=$ | $5-1=$ | $0+3=$ |
| $9-6=$ | $8-8=$ | $4-0=$ | $6+4=$ |

2、在○里填上“>”“<”或“=”。

$9+0 \bigcirc 0+2$

$8-4 \bigcirc 9-4$

$7 \bigcirc 9-7$

$2+3 \bigcirc 5+0$

$2+6 \bigcirc 6+2$

$5+4 \bigcirc 8$

六、看图列式计算。(4+3+3+5=18分)

1、



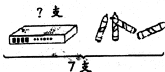
$\square + \square = \square$

$\square - \square = \square$

$\square + \square = \square$

$\square - \square = \square$

2、



$\square \bigcirc \square = \square \text{ (支)}$

3、



$\square \bigcirc \square = \square \text{ (条)}$


4、一共有10只小鸟。






小房子里还剩几只小鸟?

$\square \bigcirc \square = \square \text{ (只)}$

5、



左边有 \square 个 , 右边有

\square 个 , 一共有几个 .

$\square \bigcirc \square = \square \text{ (个)}$

一年级语文科期中测试卷 (B)

一、拼音过关题。(41分)

1、我会按要求写出韵母。(9分)

前鼻韵母: an en in un ün

后鼻韵母: ang eng ing ong

2、我会看图, 给下面的音节标声调。(8分)

ā ī à ō ú é ì ě

3、我会拼一拼, 再填空。(13分)

ún j ué

ǔn lüè

zh uǐ d ié

xuǎn h u ǎng

4、我会整体认读音节后在括号里打“√”。(10分)

yé √ yuè √ yín √

yún √ rì √ wǔ √

二、字词过关题。(54分)

1、我会看拼音, 写词语。(10分)

日子 山头 手里 可是 东西

2、我会辨字组词。(8分)

开口 八月 大家 好了

日子 大人 天上 儿子

3、我会填量词。(12分)

④ ⑥ ③ ⑤ ② ①

4、我会连。(12分)

大 上 南 男 开 正
北 小 下 关 女 反

5、我会连词成句。(填序号)(6分)

(1) ②①④⑤③ (2) ②①③④

6、我会按课文内容填空。(6分)

(1) 一 一 日 (2) 可 田 田

三、我会看图写句子。(不会写的字用拼音代替)(6分)

zài kàn bào zhǐ
在 看 报 纸

zài fàng fēng zhēng
在 放 风 筝

一年级数学科期中测试卷 (B)

一、写一写, 比一比。(10分)

4 10 5 2 7

(10)(7)(5)(4)(2)

二、填空。(第5题4分, 其余每空1分, 共37分)

1、(9)(7)

2、(6)(7)(8)(9)

3、(5)(7)

4、(1)(6) (2)(5)(2) (3)(2)(3)

5、(8)(5) (8)(5) (5)(8)

6、9 7 5 4 1 3 5 6 7

7、9 4 4 9 4 6

8、10-9 9-5 0+6 3+4 1+8

三、数一数, 填一填。(12分)

1、(4)(4)(3)(2)

2、(5)(3)

四、判断。(对的画“√”, 错的画“×”)(5分)

1、× 2、√ 3、√ 4、× 5、×

五、计算。(12+6=18分)

1、口算。

5 7 5 2

7 6 4 3

3 0 4 10

2、在○里填上“>”“<”或“=”。

> < > = = >

六、看图列式计算。(4+3+3+3+5=18分)

1、2 4 6 6 2 4

4 2 6 6 4 2

2、7-4 3

3、0+3 3

4、10-4 6

5、3 7

3+7 10