



期中复习(A)

(时间:60 分钟 满分:100 分)

班级 _____ 姓名 _____ 成绩 _____

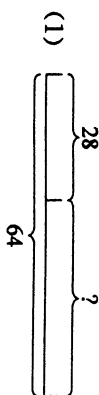
1. 直接写出得数. (21 分)

$$\begin{array}{llll} 16+20= & 49-30= & 3\times 4= & 5\times 9= \\ 18\div 2= & 7\times 9= & 20\div 10= & 7\times 8= \\ 5\times 5= & 10\times 8= & 42\div 7= & 24\div 6= \\ 2\times 3=36\div () & 3+4=42\div () & 40\div 5=48\div () & \end{array}$$

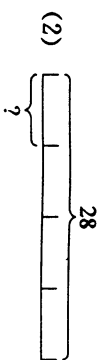
2. 把口诀写完整, 写出两道乘法和除法算式. (15 分)

() 九得九 五() 二十 () () 四十五

3. 根据线段图写算式: (4 分)



算式: _____



算式: _____



4. 填空题. (24 分)

(1) ① ☆☆☆☆☆ ☆☆☆☆☆

?个

() 个() 相加

加法算式: _____

乘法算式: _____ 或 _____



表示: () 个() 是() 的() 倍是() .

乘法算式: _____

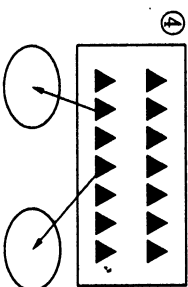


◇◇◇◇◇◇◇◇◇◇

◇◇◇◇◇◇◇◇◇◇

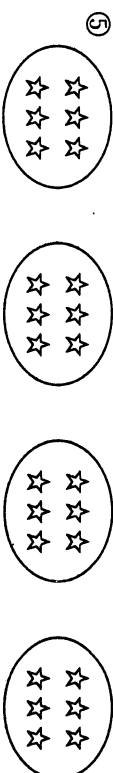
() 里面有() 个() .

除法算式: _____



把() 平均分成() 份, 每份是() .

除法算式: _____



() \times () = () 颗

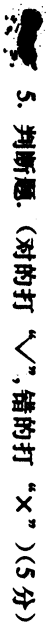
() \div () = () 圈

() \div () = () 颗

(2) ① 一盒 8 支装的和路雪雪糕与() 盒 4 支装的和路雪雪糕同样多.


② $6+6+6+6=24$ 可以表示() 个() 或() 的() 倍.

③ 3, 6, 9, (), (), (), (), (), (), (), () .



5. 判断题。(对的打“√”，错的打“×”)(5分)

- (1) 2×5 读作 2 乘 5, $6 \div 2$ 读作 6 除 2. ()
- (2) $2 + 2$ 可以写成 2×2 , $3 + 3$ 可以写成 3×3 . ()
- (3) $6 + 6$ 表示 2 个 6 相加. ()
- (4) 3 个 7 相加可以写成 3×7 . ()
- (5) 8 个 $\frac{1}{2}$ 分给 4 个小朋友, 每人一定有 2 个. ()



6. 列式计算。(8分)

- (1) 两个因数分别是 8 和 6, 积是多少? _____
- (2) 6 是 2 的几倍? _____
- (3) 比 24 少 8 的数是几? _____
- (4) 被除数和除数都是 10, 商是多少? _____



7. 应用题。(9分)

- (1) 小胖每天要写两页毛笔字, 一周能写几页毛笔字?
- (2) 二(1)班同学一起去划船, 每条船坐 4 人, 刚好需要 7 条船, 二(1)班有多少人?
- (3) 有一包鲜花, 6 朵扎一束, 可以扎 7 束, 还多 3 朵, 这包鲜花有多少朵?



8. 统计题。(14分)

长星小学低年级学生元旦文艺演出类别人数统计表

	小品	唱歌	舞蹈	朗诵
一年级(人)	15	12	20	8
二年级(人)	22	15	25	2

- (1) 一年级参加()演出的人数最多,()人数最少。
- (2) 二年级参加舞蹈演出的人数比一年级参加舞蹈演出的多()人。
- (3) 二年级参加小品和朗诵的一共有()人, 一年级参加小品和朗诵的一共有()人。
- (4) 你还能提出什么数学问题?



附加题。(10分)

- (1) $3 + 4 = 3 \times () + ()$ $3 + 4 = 4 \times () - ()$
- (2) 如果 $\bigcirc = \blacklozenge + \blacklozenge + \blacklozenge + \blacklozenge + \blacklozenge + \blacklozenge$, $\bigcirc \times \blacklozenge = 20$, 那么 $\bigcirc = ()$, $\blacklozenge = ()$ 。
- (3) 在每题的空格里填入相同的数。

$$\begin{array}{ccccccc}
 () \times () & = & () & \div & () & & \\
 () + () & = & () \times () & & & & \\
 () + () & < & () \times () & & & & \\
 () + () & > & () \times () & & & &
 \end{array}$$



期中复习(B)

(时间:60 分钟 满分:100 分)

班级 _____ 姓名 _____ 成绩 _____

1. 直接写出得数。(20 分)

$$\begin{array}{lll} 36-8= & 3 \times 5= & 4 \times 6= \\ 4 \div 4= & 87-27= & 56 \div 8= \\ 69-26= & 5 \times 4= & 1 \times 1= \\ 2 \times 4= & 26-17= & 45 \div 9= \\ 7 \times 8= & 36 \div 4= & 0 \times 9= \\ & & 24+60-7= \\ & & 6+2 \times 6= \\ & & 6 \times 3-5= \\ & & 13+5 \times 5= \\ & & 20-10 \div 5= \end{array}$$

2. 填空题。(20 分)

- $2 \times 3 = ()$, 它表示()个()是()。
- 根据三四十二这句口诀写出两道乘法算式()和()。
- $4+4+4+4$ 改写成乘法算式是(), 用口诀()计算。
- 3 只青蛙有 3 张嘴, 6 只眼睛, ()条腿。

- 除法算式: _____ (份) 表示: () 里面有()个()。

- 表示: 把()平均分成()份, 每份是()个。

黄花	6 朵	黄花的朵数是绿花的()倍,
红花	24 朵	红花的朵数是黄花的()倍,
绿花	3 朵	绿花的()倍是红花的朵数。

(8) 有 12 颗糖, 分装在一些盒子里。

每个盒子里的颗数	2	3		
盒子个数			3	2
				12

3. 填() (7 分)

$$\begin{array}{lll} 30 \div 5 = () \div 9 & () - 3 = 3 \times 9 & 8 + 4 \times 4 = () \times 8 \\ 4 \times 6 + () = 28 & 6 \times 10 - () = 54 & () + 3 \times 4 = 28 \\ () - 18 \div 2 = 9 & & \end{array}$$

4. 在○里填上“>”、“<”或“=”。(18 分)

$$\begin{array}{lll} 9 \times 5 \bigcirc 50 - 5 & 18 + 6 \bigcirc 18 \div 6 & 15 \div 3 \bigcirc 12 - 9 \\ 20 \div 4 \bigcirc 20 \div 5 & 27 \div 3 \bigcirc 32 - 4 & 21 - 7 \bigcirc 24 \div 8 \\ 6 \times 2 \bigcirc 6 + 6 & 5 \times 3 \bigcirc 20 - 6 & 4 + 4 \bigcirc 4 \times 4 \end{array}$$

5. 根据给你的三个数, 写出两道乘法算式和两道除法算式。(12 分)

- 24 3 8 (2) 8 48 6 (3) 8 72 9


_____	_____	_____
_____	_____	_____
_____	_____	_____
_____	_____	_____

6. 统计题。(8 分)

二年级参加运动会各项比赛的人数统计表

	跳绳	踢毽子	跳高	跑步	投篮
人数(人)	7	6	12	19	16

二年级参加运动会各项比赛的人数统计图



- (1) 根据统计表在统计图中涂色。
 (2) 参加跳高的人数比参加跳绳的人多几人?

(3) 参加跳高的人数是参加踢毽子人数的几倍?

(4) 参加比赛共有多少人?

7. 应用题. (15分)

- 蜡笔: 7支
 (1) 铅笔: 有几句?

(2) 王老师去书店买书, 用去 24 元, 还剩 6 元, 她一共带了多少元?

(3) 公路边种了两排树, 每排 12 棵, 一共种了多少棵?

(4) 一本书共 30 页, 小兰每天看 5 页, 小红每天看 6 页, 你知道小兰和小红看完这本书各要多少天?

附加题. (5分)

(1) 找一找规律, 然后在 () 内填上合适的数.

$$9 \times 1 = 10 - 1$$

$$9 \times 2 = 20 - 2$$

$$9 \times 3 = 30 - 3$$

.....

$$9 \times 6 = 60 - ()$$

$$9 \times 7 = () - ()$$

.....

$$9 \times 20 = () - ()$$

(2) 操场上有 5 棵树, 每两棵树之间的距离是 5 米, 冬冬从第一棵树跑到第 5 棵树, 一共跑了多少米?