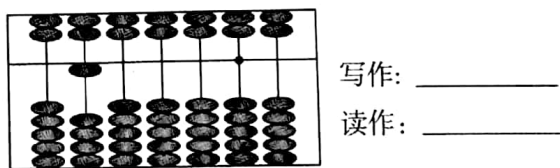
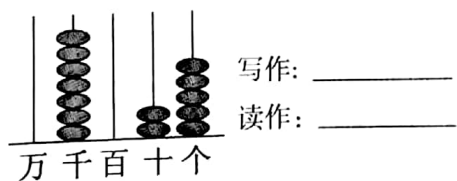


题号	一	二	三	四	五	六	七	总分
得分								

## 一、想一想,填一填。(26 分)

- 5708 是( )位数,它是由( )个千,( )个百和( )个一组成的。
- 最小的五位数减 1 得( ),这个数是最大的( )位数。
- 希望小学有学生二千七百零六人。横线上的数写作:( ),它的近似数是( )。
- $\square 26 \div 5$ ,如果商是两位数, $\square$ 中最大能填( );如果商是三位数, $\square$ 中最小能填( )。
- 旋转木马的运动属于( )现象,汽车在公路上奔驰属于( )现象。
- 一箱牛奶 58 元,买 5 箱这样的牛奶大约需要( )元。
- 每 4 根火柴可以摆出一个正方形,50 根火柴可以摆出( )个独立的正方形,还剩( )根火柴。
- 看图写数,读数。



## 9. 找规律,填一填。

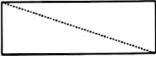

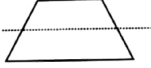
- (1) 1997, 1998, 1999, ( ), ( ), ( )。
  - (2) 4380, 4340, 4300, ( ), ( ), ( )。
10. 在池塘的四周每隔 7 米栽一棵树,一共栽了 298 棵,池塘的一周长( )米。



## 二、小法官,巧判断。(5分)

1. 一个三位数乘9,积一定是四位数。( )
2. 3个百,6个千合起来是3600。( )
3.  $785 \div 8$ 的商是三位数。( )
4. 乘数的中间有一个0,积的中间也一定有一个0。( )
5. 997接近1000,不接近10000。( )

## 三、择优录取。(10分)

1. 在  $48 \square 5 \approx 4800$  中,  $\square$ 里可以填( )。  
A. 4                                      B. 5                                      C. 6
2. 商是32,余数是6,被除数最小是( )。  
A. 197                                      B. 230                                      C. 192
3. 下面( )中的虚线是图形的对称轴。  
A.                       B.                       C. 
4. 估一估:积大于160的算式是( )。  
A.  $78 \times 2$                                       B.  $45 \times 4$                                       C.  $39 \times 4$
5. 一个皮球15元,一个篮球的价钱比皮球的6倍少一些,篮球的价钱可能是( )元。  
A. 86                                      B. 90                                      C. 95

## 四、计算天地。(20分)

### 1. 直接写得数。(8分)

$48 \times 2 =$	$96 \div 3 =$	$0 \div 9 =$	$64 \div 2 =$
$160 \div 2 =$	$80 \times 3 =$	$306 \div 3 =$	$300 \times 4 =$
$32 \times 5 =$	$48 \div 4 =$	$550 \div 5 =$	$804 \div 2 =$
$21 \times 8 \approx$	$102 \times 7 \approx$	$8 \times 512 \approx$	$800 - 216 \approx$

### 2. 列竖式计算。(6分)

$804 \div 2 =$	$3 \times 215 =$	$380 \times 6 =$
----------------	------------------	------------------

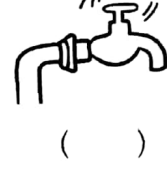
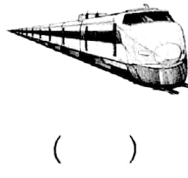

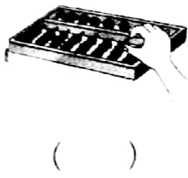



3. 错题门诊。(6 分)

$$\begin{array}{r} 248 \\ \times \quad 6 \\ \hline 1248 \\ ( \quad ) \end{array} \quad \text{改正:}$$

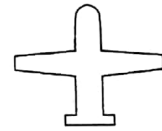
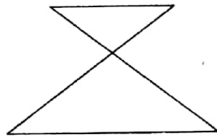
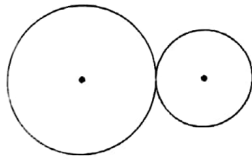
$$\begin{array}{r} 105 \\ 7 \overline{) 841} \\ \underline{7} \phantom{00} \\ 41 \\ \underline{35} \\ 6 \\ ( \quad ) \end{array} \quad \text{改正:}$$

五、下面物体的运动,是旋转的画“○”,是平移的画“□”。(8 分)





六、动手操作。(10 分)

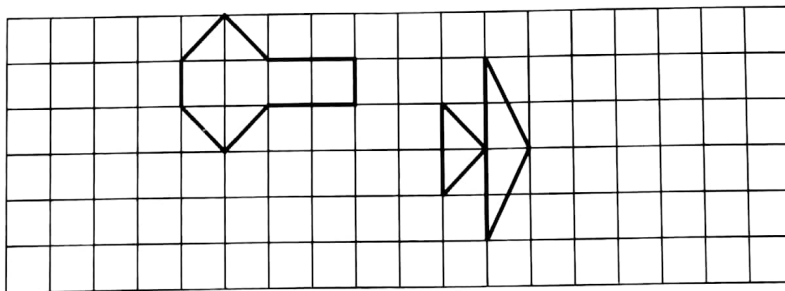
1. 画出下面图形的对称轴。(4 分)



2. 按要求画一画。(6 分)

(1) 画出  把向右平移 6 格后的图形。

(2) 画出  把向下平移 3 格后的图形。



## 七、解决问题。(21 分)

1. 小明剪了 1040 个贴纸,张老师比小明多剪了一点。

张老师大约剪了多少个? 画“√”(4 分)

1033 个	1050 个	1038 个

2. 水果超市周六卖出水果 565 千克,周日卖出的水果数量是周六的 2 倍,水果超市周六、日一共卖出水果多少千克?(5 分)

3. 学校食堂运来 500 千克白糖,平均每天吃 6 千克,这些白糖最多够吃多少天?(5 分)

4. 三位妈妈到超市给 3 个宝宝买奶粉,计划给每个宝宝买 2 桶,请你帮她们算算怎样买合算? 每位妈妈需要花多少元钱?(7 分)

活动一	活动二
奶粉零售 160 元一桶	奶粉三桶套装卖 420 元

