

贴条码处

二年级数学 (A) 冀教版

满分: 100分

题号	一	二	三	四	五	六	七	八	九	总分	等级
得分											

请在各题目的答题区域内作答, 超出黑色矩形边框限定区域的答案无效

评卷人 得分

zǐ xì kàn rèn zhēn tián
一、仔细看, 认真填。(8分)

- 1、() 在牛的前面, ()
在牛的后面。

- 2、() 看不见牛的尾巴。

- 3、() 可以看见牛身体的一半。





评卷人 得分

wǒ huì xuǎn
二、我会选。(10分)

小强

- 1、小强看到的是 ()。



- 2、一个数加上43, 再减去43, 结果是46, 这个数是 ()。

A、43

B、46

C、0

- 3、下面算式中, 得数大于50的算式是 ()。

A、 $40 + (65 - 35)$

B、 $80 - 65 + 35$

C、 $65 + 35 - 80$

请在各题目的答题区域内作答, 超出黑色矩形边框限定区域的答案无效

请在各题目的答题区域内作答，超出黑色矩形边框限定区域的答案无效

4、与算式 $76 - 20 - 17$ 计算结果相同的是()。

A、 $76 - 20 + 17$ B、 $76 - (20 - 17)$ C、 $76 - (20 + 17)$

5、小朋友站队，红红的前面有12人，后面有17人，这队小朋友共有()人。

A、29 B、30 C、28

评卷人	得分

wǒ shì xiǎo fǎ guān
三、我是小法官。(10分)

- () 1、计算 $80 - (37 + 25)$ 时，应先算 $80 - 37$ 。
- () 2、玩具超市购进52个皮球，卖出46个后，又购进57个，现在还有63个。
- () 3、猴妈妈摘了59个桃子，吃了18个，又摘回16个桃子，现在有多少个桃子？列算式是： $59 - (18 + 16)$ 。
- () 4、在一道减法算式中，被减数是70，两个减数都是25，差是55。
- () 5、看到图形的一个面是圆形，这个图形一定是球。

评卷人	得分

kāi xīn suàn yì suàn
四、开心算一算。(20分)

1、直接写得数。(8分)

$$25 + 13 = \quad 57 - 16 = \quad 34 + 29 = \quad 64 - 30 =$$

$$43 + 38 = \quad 68 - 22 = \quad 56 - 36 = \quad 37 + 23 =$$

2、列竖式计算。(12分)

$$35 + 17 + 29 = \quad 80 - 31 - 17 =$$

请在各题目的答题区域内作答，超出黑色矩形边框限定区域的答案无效

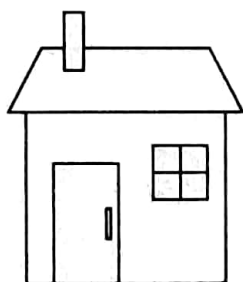
请在各题目的答题区域内作答，超出黑色矩形边框限定区域的答案无效

$$83 - (26 + 35) =$$

$$39 + 40 - 28 =$$

评卷人	得分

qǐng shuō chū xià miàn sì zhāng zhào piàn fēn bié shì zài
五、请说出下面四张照片分别是在
fáng zi de nǎ yí miàn pāi de
房子的哪一面拍的？（8分）



() () () ()

评卷人	得分

zài lǐ tián shàng huò
六、在○里填上“>”“<”或“=”。（8分）

$$36 + 22 + 19 \bigcirc 74$$

$$80 - 29 - 15 \bigcirc 42$$

$$86 - 36 - 17 \bigcirc 33$$


$$35 + 19 + 37 \bigcirc 84$$

评卷人	得分

qǐng nǐ lián yī lián xià miàn fēn bié shì shuí kàn dào de
七、请你连一连，下面分别是谁看到的？
（6分）



小东



小红



小明



小红



小东



小明

请在各题目的答题区域内作答，超出黑色矩形边框限定区域的答案无效

请在各题目的答题区域内作答，超出黑色矩形边框限定区域的答案无效

评卷人	得分

zài lǐ tián shàng huò shǐ děng shì
八、在○里填上“+”或“-”，使等式
chéng lì
成立。(6分)

1、 $84 \bigcirc 36 \bigcirc 22 = 70$

2、 $49 \bigcirc (38 \bigcirc 12) = 23$

3、 $24 \bigcirc 56 \bigcirc 22 = 58$

评卷人	得分

jiě jué wèn tí
九、解决问题。(24分)

1、公共汽车上原有42名乘客，有9名乘客在活动中心站下车，有12名乘客上车。现在有多少名乘客？

2、买三件商品，最多花多少元钱？



32元



29元



35元



19元

3、大猴子摘了28个桃子，小猴子摘了27个桃子，两只猴子吃了19个桃后，还剩多少个桃子？

4、一本书有100页，明明第一天看了14页，第二天看了19页，还剩多少页？

请在各题目的答题区域内作答，超出黑色矩形边框限定区域的答案无效