

2019 学年小学教学中质量检测卷


三年 数学 学科

得分: _____

①考生要写清校名、姓名和班级
②不在试卷上做任何标识
③字迹要清楚,卷面要整洁

一、细心填空。(每空 1 分,共 22 分)

- 在算式 $72-48\div 8$ 中,应先算(除)法,再算(减)法;在算式 $27\div (18-9)$ 中,应先算(减)法,再算(除)法。
- 一个数是 25 的 5 倍,这个数是(125);400 是一个数的 8 倍,这个数是(50)。
- 39 比 2 个 16 多(7);50 减去 14 的差再除以 6,商是(6)。
- 下面各图分别是谁看到的? 填名字。



- 王阿姨拿 40 元买 8 个面包,用 6 元钱买一杯果汁。一杯果汁比一个面包贵(1)元,列综合算式是($6-(40\div 8)$)。
 - 在 \bigcirc 里填上“>”“<”或“=”。
- $48\div 2$ \bigcirc 12×3 16×8 \bigcirc 18×6 $48-18\div 6$ \bigcirc $(48-18)\div 6$
- 一个数是 719,比另一个数多 28,这两个数的和是(1410)。
 - \bigcirc 里应填几?
- $\bigcirc \times 6 = 30$ $\bigcirc \div 3 = 31$ $\bigcirc \div 4 = 20$
- (南平市延平区)从 720 里连续减去(80)个 9,正好等于 0。

二、仔细判断。(对的画“√”,错的画“×”)(5 分)

- 9 个 12 的和与 9 的 12 倍并不相等。 (×)
- 一个数乘任何一个非 0 的数,所得的积一定比原来的数大。 (×)
- 站在同一个位置观察一个物体,最少能看到 2 个面,最多能看到 3 个面。 (×)

姓名 _____

班级 _____

年级 _____

学校 _____

4. 一盒彩笔 18 元,买 3 盒付 100 元应找回 46 元。 (☒)

5. 同学们分成 6 组去植树,每组 28 人,一共 34 人。 (☒)

三、认真选择。(将正确答案的序号填在括号里)(5 分)

1. 下面算式中,应先算减法的是(☒)。

① $210+180-80$

② $450-90\times 2$

③ $360+(250-187)$

2. 爸爸从窗内看到的情景是图(☒)。



3. 与 $900-699-101$ 结果不相等的是(☒)。

① $900-699+101$

② $900-101-699$

③ $900-(699+101)$

4. (成都市新都区)甲数是 90,是乙数的 3 倍,乙数是(☒)。

① 30

② 270

③ 93

5. 把 $65-30=35$ 和 $35\div 5=7$ 合并成一个综合算式是(☒)。

① $65-30\div 5$

② $(65-30)\div 5$

③ $65-35\div 5$

四、准确计算。(共 32 分)

1. 直接写得数。(5 分)

$42\times 2=84$

$42\div 2=21$

$60\div 3=20$

$60\times 3=180$

$48+48=96$

2. 列竖式计算。(9 分)

$468+317-589=196$

$850-391-362=97$

$413+237+255=905$

$$\begin{array}{r} 468 \\ + 317 \\ \hline 785 \end{array} \quad \begin{array}{r} 785 \\ - 589 \\ \hline 196 \end{array}$$

$$\begin{array}{r} 850 \\ - 391 \\ \hline 459 \end{array} \quad \begin{array}{r} 459 \\ - 362 \\ \hline 97 \end{array}$$

$$\begin{array}{r} 413 \\ + 237 \\ \hline 650 \end{array} \quad \begin{array}{r} 650 \\ + 255 \\ \hline 905 \end{array}$$

3. 脱式计算。(18 分)

$$\begin{aligned} &82+3\times 70 \\ &=82+210 \\ &=292 \end{aligned}$$

$$\begin{aligned} &69-7\times 8 \\ &=69-56 \\ &=13 \end{aligned}$$

$$\begin{aligned} &9\times 8-47 \\ &=72-47 \\ &=25 \end{aligned}$$


$$\begin{aligned} &364+72\div 9 \\ &=364+8 \\ &=372 \end{aligned}$$

$$\begin{aligned} &275+246-146 \\ &=521-146 \\ &=375 \end{aligned}$$

$$\begin{aligned} &784-(215+485) \\ &=784-700 \\ &=84 \end{aligned}$$

五、联系实际。(共 6 分)


1. 下面四幅照片分别是谁拍摄的? 把他们的名字填在照片下面的括号里。
(4 分)



(小力)



(小云)





(刘阿姨)




(李叔叔)

2. 站在窗外看到的是哪幅图?(在括号里画“√”)(2 分)



(√)



()

六、解决问题。(共 30 分)

1. 买水果。

- (1) 买 15 千克菠萝多少元?(3 分)

$$7 \times 15 = 105 \text{ (元)} \quad \dots\dots\dots 2 \text{ 分}$$


答: 买 15 千克菠萝 105 元。 \quad \dots\dots\dots 1 \text{ 分}



5元/千克



4元/千克



6元/千克



7元/千克

- (2) 妈妈拿 50 元买了 1 千克香蕉, 用剩下的钱买梨, 能买多少千克?(4 分)

$$(50 - 6) \div 4 \quad \dots\dots\dots 2 \text{ 分}$$

$$= 44 \div 4$$

$$= 11 \text{ (千克)} \quad \dots\dots\dots 1 \text{ 分}$$

答: 能买 11 千克。 \quad \dots\dots\dots 1 \text{ 分}

2. (亳州市涡阳县) 王奶奶家白鸽的数量是灰鸽数量的 3 倍还多 4 只, 王奶奶家养白鸽多少只?(5 分)

$$28 \times 3 + 4 \quad \dots\dots\dots 2 \text{ 分}$$

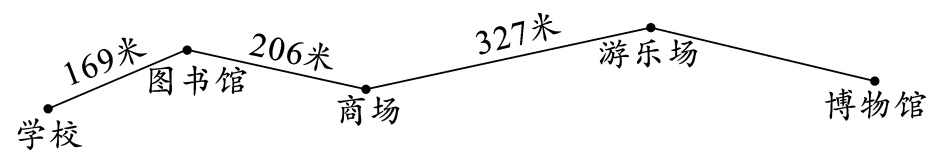
$$= 84 + 4$$

$$= 88 \text{ (只)} \quad \dots\dots\dots 2 \text{ 分}$$

答: 王奶奶家养白鸽 88 只。 \quad \dots\dots\dots 1 \text{ 分}



3. 从学校到博物馆一共 960 米,游乐场到博物馆有多少米?(5 分)



$169+206+327=702$ (米) 2 分

$960-702=258$ (米) 2 分

答: 游乐场到博物馆有 258 米。 1 分

4. 明明家今年上半年用电量如下。(单位:千瓦时)

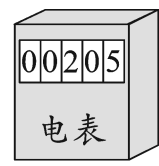
1 月份	2 月份	3 月份	4 月份	5 月份	6 月份
75	82	74	75	78	80

(1)明明家上半年总的用电量是多少?(3 分)

$75+82+74+75+78+80=464$ (千瓦时) 2 分

答: 明明家上半年总的用电量是 464 千瓦时。 1 分

(2)去年 12 月底明明家的电表读数是 205 千瓦时,算一算今年 6 月底明明家的电表读数是多少? 在表上填一填。(4 分)



..... 1 分

去年12月底电表读数 今年6月底电表读数

$464+205=669$ (千瓦时) 2 分

答: 今年 6 月底明明家的电表读数是 669 千瓦时。 1 分

5. (驻马店市新蔡县)李阿姨用 100 元买了一些相同的商品,还剩 60 元。她可能买的是什么? 买了多少?(6 分)

$100-60=40$ (元) 1 分

$40 \div 8=5$ (条) 1 分

$40 \div 10=4$ (盒) 1 分

$40 \div 5=8$ (双) 1 分

答: 可能买了 5 条毛巾, 或 4 盒牙膏, 或 8 双袜子。 2 分



每条8元



每盒10元



每双5元



每个7元