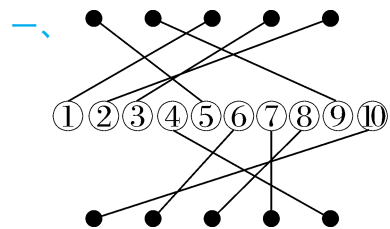


参考答案

第一周测评卷



二、1. ② 2. ④ ⑨ 3. ⑤ ⑧

三、1. $\triangle \triangle \triangle \triangle$ 2. $\triangle \triangle \triangle \triangle \triangle$ 3. $\triangle \triangle$

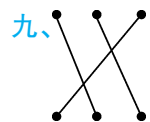
四、略

五、1. 多2个 少2个 2. 少1个 多1个

六、1. ☐ 2. ☒ 3. ☒ 4. ☒ 5. ☐
☒ ☐ ☐ ☐ ☒

七、(答案不唯一) $\triangle \star \square \triangle \square \star \star \triangle$

八、1. $\bigcirc \bigcirc \bigcirc \bigcirc \bigcirc$ 2. $\square \square \square$ (答案不唯一)



十、 $\times \checkmark \checkmark \times \checkmark \times$

附加题：略

第二周测评卷

一、1. 上 下 上 下 2. (1)后 前 (2)蜗牛

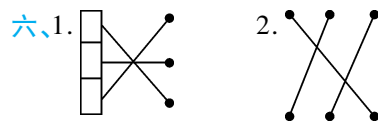
兔子 (3)2 3 3. (1)下 (2)后

二、 $\square \triangle \square \triangle \triangle \square \triangle \square$

三、1. \checkmark 2. \checkmark 3. \times 4. \checkmark 5. \times \checkmark 6. \times

四、(从左到右) ④ ③ ⑥ ① ② ⑤

五、1. 上 下 2. 前 3. 略

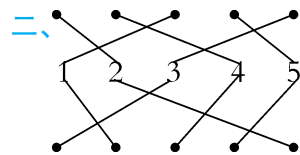


七、略

附加题：小兰 小玉 小花 小明

第三周测评卷

一、1.3 2.2 3.4 4.5 5. $\bigcirc \square$



三、 $3 > 2$ $4 < 5$ $2 = 2$ $1 < 3$

四、略

五、2 2或1 2(或3,4,5) 3(或2,1)

1 4(或3,2,1)

六、略

七、 $5 > 4$ $3 = 3$ $1 < 3$

八、1. 不能 ☒ 2.3 4 蓝 3. 够 ☒

附加题： \bigcirc 5 4

第四周测评卷

一、1. (1)5 (2)1 (3)2 2. (1)4

(2) 4 (3)2

二、1. ② 2. ②

三、4 5 2 3 2 4

四、3 2 2 3 5 1

五、略

六、略

七、1. 有3种,分别是1,3;2,2;3,1

2. 有5只大雁,第二只

3. 有4种住法。

第一种:1只住① 4只住②

第二种:2只住① 3只住②

第三种:3只住① 2只住②

第四种:4只住① 1只住②

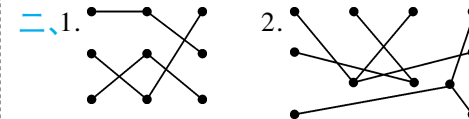
附加题:2 3 1 2 4 5

第五周测评卷

一、1. $3 + 2 = 5$ $2 + 3 = 5$ $2.1 + 3 = 4$ $3 + 1 = 4$

$3.4 - 1 = 3$ $4 - 3 = 1$ $4.5 - 1 = 4$ $5 - 4 = 1$

$5.5 - 3 = 2$ $5 - 2 = 3$ $6.3 - 2 = 1$ $3 - 1 = 2$



三、+ + + - - + + -

四、5 2 4 0 5 0 4 0 0 3 2 2 4

5 4 5

五、< > < > < = = = >

六、3 2

七、 $2 + 2 = 4$ $5 - 3 = 2$ $5 - 2 = 3$ $2 + 3 = 5$

$1 + 4 = 5$

八、1.3 2 $3 + 2 = 5$

2. (1) $5 - 4 = 1$ (2) $5 - 3 = 2$

3. (1) $4 - 3 = 1$ (2) $4 - 2 = 2$ (3) $5 - 4 = 1$

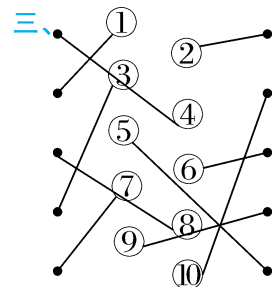
附加题:2 0 0 4 5

月考综合测试卷(一)

一、3 1 4 5

二、1. $5 > 4$ $4 < 5$ $2.3 = 3$ $3.4 > 2$ $2 < 4$

4. $4 = 4$ $5 > 4$ $4 < 5$ $4 = 4$



四、上 下 右 左

五、1. 右 下 2. 上 左 3. 上 右

六、4 5 3 5 2 5 1 5 0 5

七、1. $4 + 1 = 5$ $2.4 - 3 = 1$ $4 - 1 = 3$

3. $4 + 1 = 5$

八、1. $4 + 1 = 5$ (顶) $2.5 - 4 = 1$ (把)

3. $5 - 2 = 3$ (只)

附加题: 4 3 画图略

第六周测评卷

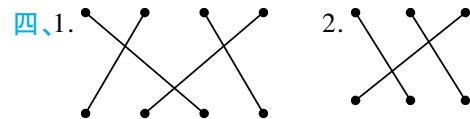
一、长方体: ① ② ④ ⑦ ⑩ 正方体: ③ 圆柱: ⑥

球: ⑤ ⑧

二、1. 3 2 2 4 2. (1) 2 (2) 2 (3) 5 (4) 1

三、1. (○) (√) (√) (○) (○)

2. (√) (√) (○) (√) (○)



四、1. ② 2. ② 3. ② 4. (1) ① ④ (2) ③

① (3) ② ④ 5. ④

六、1. ① ③ 2. ② ③

七、1. 4 1 5 2. 3

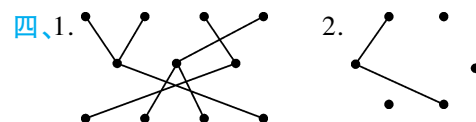
附加题: 1. 长方体 2. 正方形 3. 圆柱 4. 圆柱

第七周测评卷

一、6 9 7 10 8

二、3 4 6 8 9 10

三、4 4 8 6 9 5 10



五、1. + - - - - + - + -

- - +

2. 5 4 5 10 2 3 4 1

3. $> = < < > <$

六、1. $\triangle \triangle \triangle \triangle \triangle$ 2. $\star \star \star \star$

3. $\bigcirc \bigcirc \bigcirc$ 4. $\square \square \square \square \square$

七、1. $5 + 2 = 7$ 2. $6 - 2 = 4$ 3. $8 - 6 = 2$

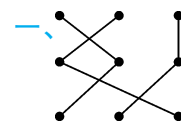
4. $10 - 2 = 8$

八、1. (1) $5 + 2 = 7$ (2) $4 + 4 = 8$

2. (1) 鸡和鸭一共有多少只?

(2) 鸭比鸡多多少只?

附加题: 2 5 1 7



第八周测评卷

二、1. 6 10 7 2. 7 0 4 3. 3 7 1

三、1. \times $3 + 1 + 4 = 8$ 2. $\sqrt{\quad}$ 3. \times $10 - 2 - 6 = 2$

4. \times $9 + 1 - 5 = 5$ 5. \times $4 + 2 + 3 = 9$

四、1. $> > < < < =$

2. - + + + - - + - + -

五、9, 5 5, 7 10, 8 9, 8 4, 9 6, 2 7, 9

5, 10 5, 9

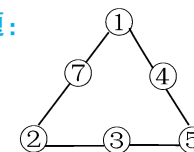
六、9 10 9 0 5 9 6 3

七、1. $2 + 4 + 3 = 9$ $2.7 - 3 - 1 = 3$ $3.3 + 3 + 2 = 8$

4. $9 - 2 - 3 = 4$

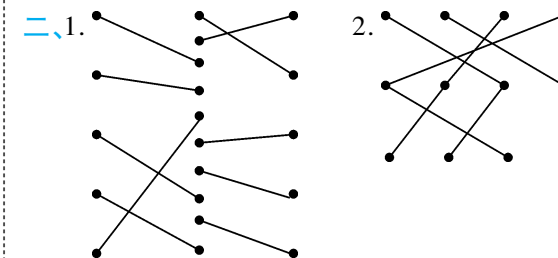
八、1. $2 + 1 + 6 = 9$ $2.4 - 1 + 2 = 5$ $3.9 - 3 - 1 = 5$

附加题:



期中综合测试卷

一、2 1 4 2 3 4 5 6 0 5 4 8



三、1. + - + - + - + -

2. $> = < < > = > >$

3. 5 8 7 6 4 1

四、略

五、1. (○) 2. (△) 3. (○)
(△) (○) (△)

六、1. $2 + 6 = 8$ $6 + 2 = 8$ $8 - 2 = 6$ $8 - 6 = 2$

2. $4 + 5 = 9$ $5 + 4 = 9$ $9 - 5 = 4$ $9 - 4 = 5$

3. $10 - 3 = 7$

4. $9 - 3 - 2 = 4$

七、1. 7 2 $7 + 2 = 9$ 9

2. $1 + 3 + 1 = 5$ (人)

$3. 6 + 4 - 7 = 3$

附加题: 9 8 7 6 5 4 3 2 1 0 (或 9 4

8 3 7 2 6 1 5 0)

第九周测评卷

一、16 11 20 12 13 14 15 10

二、1. 个 十 2. 1 6 3. 3 3 — 1 1 十

4. 17 18 19 5. 18 6. (1) 11 13 (2) 11

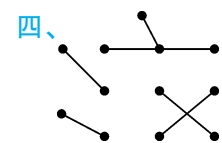
13 14 15 16 17 19 20 7. 7 10

11 12 13 14 ; 16 14 12 10 8 6

8. + + - + 9. < = > > = <

< > > =

三、1. 十三 2. 二十 3. 19 4. 14



五、略

六、1. $12 + 3 = 15$ (根) 2. $12 + 7 = 19$ (块)

3. $2 + 8 + 5 = 15$ (只)

七、1. (1) $14 - 4 = 10$ (2) $10 - 4 = 6$

2. 20 3. $10 + 1 + 3 = 14$ (人)

附加题: 略

第十周测评卷

一、1. 13 15 19 16 14 12 2. 14 16 3. 16

4. 16, 17, 18, 19 5. 6 2 0 8 4 6. 1 9

2 7. 1 4 十 — 8. 15 18

二、1. \checkmark 2. \times 3. \times 4. \checkmark 5. \times

三、1. $11 > 7$ 2. $20 > 2$

四、18 17 19 5 5; 10 1 15 6 15

五、17 14 16 19

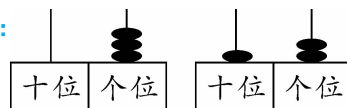
六、1. $10 + 5 = 15$ 2. $17 - 3 = 14$ 3. $13 + 3 = 16$

$18 - 3 = 15$

4. $10 + 3 = 13$ 5. $6 + 4 + 8 = 18$

七、1. 25 — 2. 4 3. 8 日

附加题:



月考综合测试卷(二)

一、1. 13 20 15 20 2. (1) 8 6 4 (2) 6 7

3 2 3. (1) 8 4 4 (2) 19 4 (3) 20 4

(4) 6 7 (5) 3 4 6 9 11 15 19 20

4. 17 19 5. 14 6. 15 16 7. 15 17 8. 19

二、1. \checkmark 2. \checkmark 3. \times 4. \checkmark 5. \times

三、1. ② 2. ① 3. ② 4. ② 5. ③

四、- - + - + -

五、1. 20 2. 7 12 3. 略 4. 略

六、1 6

七、1. $3 + 10 = 13$ 2. $16 - 4 = 12$

4. $14 + 2 = 16$ (或 $14 - 2 = 12$) 3. $12 + 4 + 2 = 18$

八、1. 4 11 $15 - 4 = 11$

2. 17 2 $17 - 2 = 15$ 15

3. $15 - 5 + 4 = 14$

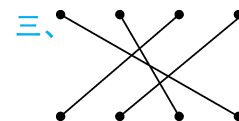
附加题: 16 14

第十一周测评卷

一、2 时 2:00 7 时 7:00 5 时 5:00 3 时

3:00 6 时 6:00 10 时 10:00

二、 \checkmark \checkmark \times 6:00 \times 12:00



四、6 时过一点儿 快 3 时了 快 2 时了

8 时过一点儿

五、略

六、2. 8:00 8 时 3. 12:00 12 时 4. 4:00

4 时 5. 7:00 7 时 6. 9:00 9 时

七、1. 8 时 3 时 1 时 2. 6 时 9 时 3 时

八、① ② ④ ③

附加题: ☒ ☐

第十二周测评卷

一、圈一圈略 1. 2 1 11 2. 3 2 12 3. 1 4

14 4. 4 2 12 5. 2 5 15 6. 1 1 11

二、1. 6 5 8 8 9 7 7 6

2. (1) 12 13 14 15 16 17 (2) 15 14

13 12 11

3. = > < > = <

4. $6 + 7$ $10 + 3$ $5 + 7$ $6 + 6$



四、17 15 15 12 11

五、1. $8 + 4 = 12$ (个) 2. $7 + 6 = 13$ (个)

3. $6 + 5 = 11$ (个) 4. $9 + 7 = 16$ (个)

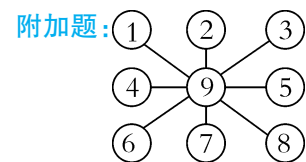
六、1. 8 10 11 12 14 15 16 17

2. 7 8 10 12 13 14 15 16

七、 $1.8+5=13$ (辆)

$2.6+5+4=15$ (元)

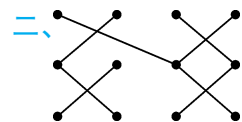
3. (1) $9+7=16$ (2) $8+9=17$



第十三周测评卷

一、 $1.4+8=12$ $2.5+6=11$

$3.3+8=11$ $4.2+9=11$



三、 10 13 11 12 11 ; 10 12 11 11 13

四、 11 12 14

五、 8 8 7 7 9 9 9 8

六、 $1.3+8=11$ (朵) $2.5+7=12$ (片)

$3.2+9=11$ (只) $4.4+8=12$ (个)

七、 1.3 9 $3+9=12$ (只)

$2.4+8=12$ (人)

$3.2+9=11$ (棵)

4. (1) 3 8 $3+8=11$ (只)

(2) 5 6 $5+6=11$ (只)

附加题: $2+9=3+8=4+7=5+6$

第十四周测评卷

一、 11 11 11 17 14 12 15 15 19 16

15 16

二、 1.3 6 16 5 3 13 6 3 13

$2.<$ $=$ $<$ $>$ $>$ $=$ $<$ $<$

3.7 6 8 6 9 7 4 8

三、 11 12 13

四、 $1.③$ $2.③$

五、 $6+6<7+6<9+5<8+8$

六、画图略 $1.8+4=12$

$2.6+5=11$

$3.7+5=12$

$4.5+8=13$

七、 1.7 8 $7+8=15$ 10 5 $10+5=15$

$2.(1)6+5=11$ $(2)5+8=13$

$3.6+6=12$ 12

$4.(1)5+7=12$ 12

(2) $5+7=12$ $4+8=12$ 12

附加题: ☒ ☐ ☒

期末综合测试卷

一、 1.15 20 13 10 11 15

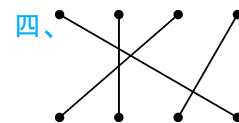
2.15 14 3.8 1 4.17 8 5.12 $6.右$

$7.(1)3$ 4 2 2 (2)少 (3)球 圆柱

$8.>$ $<$ $=$

二、 $1.②$ $2.②$ $3.①③$ $4.②$

三、略



五、 9 14 2 1 15 0

六、 $1.10-6-1=3$

$2.13+5-4=14$

$3.(1)6+5=11$ 11

(2) $5+8=13$ 13

(3)(答案不唯一) 比 便宜多少元?

$8-6=2$

附加题: 18 4