

期中综合测试卷

时间:90 分钟 总分:110 分

题号	一	二	三	四	五	六	七	附加题	总分
得分									

tián yì tián


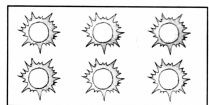
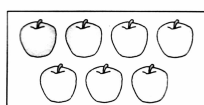
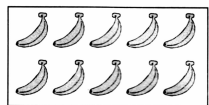

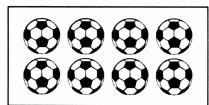

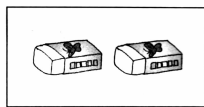

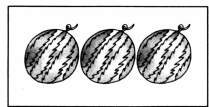
一、填一填。(12 分)

$3 + () = 5$ $6 - () = 5$ $() - 2 = 2$ $() + 4 = 6$
 $6 + () = 9$ $8 - () = 4$ $5 + () = 10$ $() + 4 = 10$
 $7 + () = 7$ $() - 3 = 2$ $9 - () = 5$ $2 + () = 10$

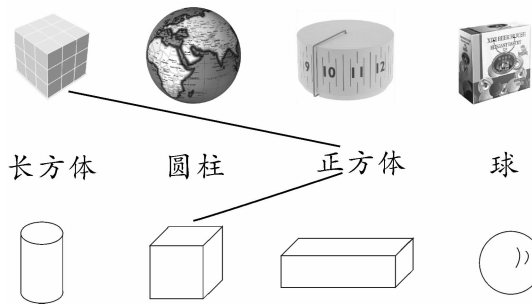
lián yì lián

二、连一连。(16 分)

1. 数一数,将同样多的连起来。(10 分)



2. 照样子连一连。(6 分)



àn yào qiú zuò tí

三、按要求做题。(22 分)

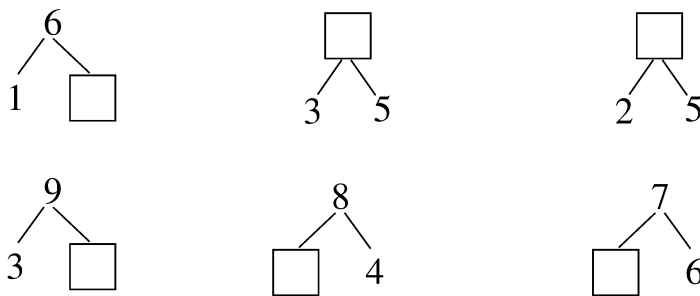
1. 在○里填上“+”或“-”。(8 分)

$4 \bigcirc 1 = 5$ $5 \bigcirc 5 = 0$ $4 \bigcirc 5 = 9$ $7 \bigcirc 1 = 6$
 $6 \bigcirc 3 = 9$ $8 \bigcirc 2 = 6$ $4 \bigcirc 6 = 10$ $10 \bigcirc 3 = 7$

2. 在○里填上“>”“<”或“=”。(8 分)

$7 - 2 \bigcirc 2$ $3 + 3 \bigcirc 6$ $0 \bigcirc 7 - 0$ $5 + 2 \bigcirc 8$
 $9 - 2 \bigcirc 6$ $9 - 4 \bigcirc 5$ $10 - 2 \bigcirc 7$ $4 + 5 \bigcirc 8$

3. 想一想,填一填。(6 分)


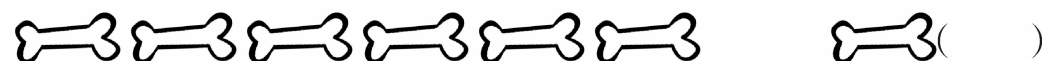

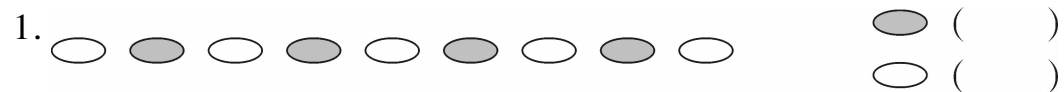


huà yí huà

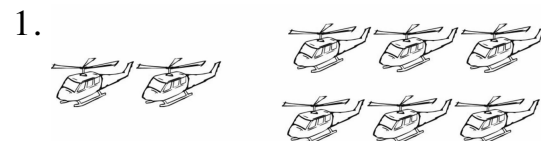
四、画一画。(10 分)

- 画 4 个“○”放在最下层。
- 画 3 个“□”放在“○”的上一层。
- 画 5 个“△”放在最上层。
- 画 2 个“☆”放在“□”的右边。
- 画 1 个“▲”放在“△”的左边。

zài duō de hòu miàn huà shǎo de hòu miàn huà
五、在多的后面画“△”，少的后面画“○”。(6分)



kàn tú xiě suàn shì
六、看图写算式。(10分)




$$\square \bigcirc \square = \square$$

$$\square \bigcirc \square = \square$$

$$\square \bigcirc \square = \square$$

$$\square \bigcirc \square = \square$$

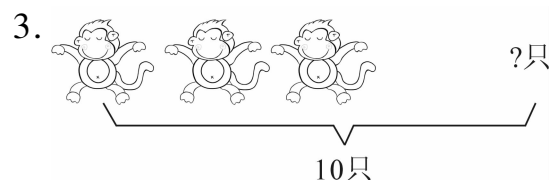


$$\square \bigcirc \square = \square$$


$$\square \bigcirc \square = \square$$

$$\square \bigcirc \square = \square$$

$$\square \bigcirc \square = \square$$

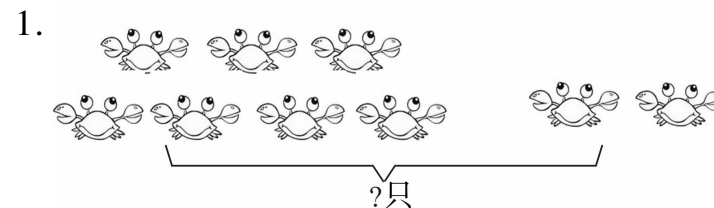


$$\square \bigcirc \square = \square$$



$$\square \bigcirc \square \bigcirc \square = \square$$

jiě jué wèn tí
七、解决问题。(24分)




左边有()只 , 右边有()只。

$$\square \bigcirc \square = \square \text{ (只)}$$

一共有()只螃蟹。(8分)


2. 小朋友起得早,排成一队来做操。欢欢前面3个人,欢欢后面1个人。(8分)

你知道这一队共有几个人吗?

3.  我给你买了6本书。
爸爸

我给你买了4本书。


妈妈

 我把这些书捐出7本给贫困山区的小朋友。
子春

子春还剩多少本?(8分)

$$\square \bigcirc \square \bigcirc \square = \square \text{ (本)}$$

fù jiā tí
附加题。(10分)

把0、1、2、3、4、5、6、7、8、9这十个数填在□里,使等式成立。(每个数只能用一次)

$$\square - \square = \square - \square = \square - \square = \square - \square = \square - \square$$