

期中测试卷

[illegible]

一、我会填。(12 分)

$20 + 50 =$

$6 \times 3 =$

$2 \times 6 =$

$$5 \times 4 - 20 =$$

$2 \times 4 =$

$4 \times 6 =$

$3 \times 5 =$

$$3 \times 5 + 15 =$$

$$7 \times 4 + 7 =$$

$50 - 6 =$

$2 \times 2 =$

$$2+2+16=$$

二、认真思考，谨慎填空。(每空 1 分，共 10 分)

1.图钉的长大约是 ()。

2.一支铅笔长约 16 (), 教室宽约 6 ()。

3.一个角有()个顶点,()条边,长方形有()

个角，它们都是（ ）角。

4.一个因数是 5, 另一个因数是 6, 积是 ()。

5. 4 个 2 相加的加法算式是 (), 乘法算式是 ()。

三、在 ○ 里填上“>”“<”或“=”。(9分)

$30+9 \bigcirc 90+3$

$5 \times 5 \bigcirc 5 + 5$

$$6 \times 4 \bigcirc 4 \times 6$$

$28+37 \bigcirc 70$

$65-8 \bigcirc 60$

$5 \times 3 \bigcirc 2 \times 6$

$$35+18 \bigcirc 45-18$$

$18+22 \bigcirc 40$

30 厘米 ○ 1 米

四、反复比较，对号入座。(6分)

1.估算，得数比 60 小的算式是（ ）。

A. $49+12$

B. $58+12$

C. 67-10

2.一个数加 (), 和还是原来的数。

A. 1

B. 0

C. 10

3.一个数乘 (), 积还是原来的数 ()。

A. 1

B. 0

C. 10

五、仔细辨析, 正确判断。(对的打“√”错的打“×”) (14 分)

1.一个因数是 6, 另一个因数是 4, 积是 42 。 ()

2.角的边越长, 角越大。 ()

3.黑板面的角比数学书上的角大得多。 ()

4. 2 1

 + 3 9 ()

 = 5 0

5. 5 个 3 相加的和是 8 。 ()

6. $5 \times 5 = 5 + 5$ ()

7. $5 \times 1 = 5 + 1$ ()

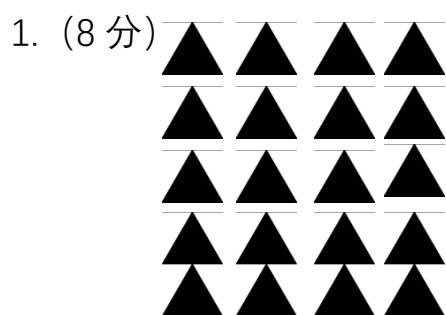
六、画一画。(9 分)

1.画一条比 4 厘米长比 5 厘米短的线段。(3 分)

2.画一个图形有 4 个直角, 并用直角符号标出直角。(3 分)

3.用三角板画一个 130° 的角。(3 分)

七、看图列式计算。(10 分)

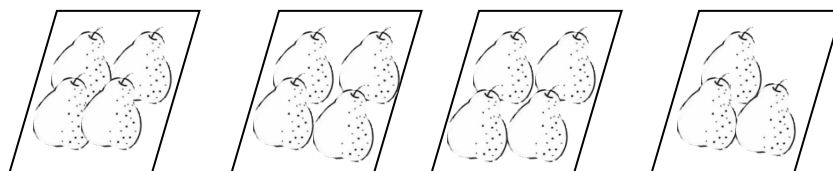


加法算式: _____

乘法算式: _____ 或 _____

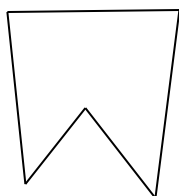
口诀: _____

2. (2 分)

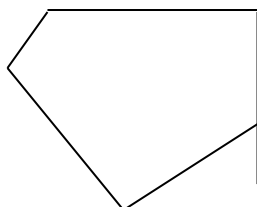


算式: _____

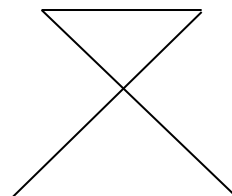
八、数数下面图形各有几个角。(12 分)



() 个角



() 个角



() 个角

九、解决问题。(18 分)

1. (8 分)

物品	饼干	汽水	果汁	点心
单价	5 元	2 元	4 元	3 元

(1) 买 5 盒饼干要花多少元钱?

(2) 买 2 盒点心盒 1 瓶果汁 10 元钱够吗? (3 分)

(3) 买 8 瓶汽水要花多少元钱?

2.二 (4) 班同学从图书室借来故事书、连环画、科技书各 5 本,
一共借来多少本书? (5 分)

3.张老师带着 4 位小朋友去看画展, 每张票 6 元, 他们一共要花
多少元钱? (5 分)

附答案：

一、 70 18 12 0 8 24 15 30 81 44 4 20

二、 1.厘米 2.厘米 米 3. 1 2 4 直 4. 30

5. $2+2+2+2=8$

三、 < > = < < > > = <

四、 1.C 2.B 3.A

五、 1.2.3.4.5.6.7.

六、略.

七、 1. $4+4+4+4+4=20$ $4\times 5=20$ $5\times 4=20$ 四五二十

2. $4\times 3+3=15$

八、 5 6 8

九、 1. (1) $5\times 5=25$ (元) (2) $2\times 3+4=10$ (元) 够 (3) $8\times 2=16$
(元)

2. $5\times 3=15$ (本)

3. $5\times 6=30$ (元)