

苏教版小学数学二年级上册期末试卷

(考试时间: 60 分钟 总分: 100 分)

一、直接写出得数。24 分

$3 \times 4 =$

$54 \div 6 =$

$42 + 26 =$

$9 \times 6 =$

$7 \div 7 =$

$80 - 17 =$

$1 \times 9 =$

$18 \div 3 =$

$35 + 5 =$

$2 \times 8 =$

$20 \div 5 =$

$8 \times 5 =$

$64 \div 8 =$

$6 \times 6 =$

$63 \div 9 =$

$41 - 9 =$

$2 \times 2 \times 2 =$

$72 \div 8 \div 3 =$

$9 \div 3 \times 5 =$

$17 + 13 + 8 =$

$6 \times 8 - 8 =$

$32 - 2 - 20 =$

$9 \times 4 \div 6 =$

$24 \div 4 + 50 =$

二、竖式计算。8 分

$35 + 29 - 18 =$

$25 + 36 + 39 =$

$90 - 9 - 23 =$

$81 - 40 + 48 =$

三、填空题。28 分

1. 5 米 = () 厘米

900 厘米 = () 米

2. 看图写算式。



$\square + \square = \square$

$\square \div \square = \square$

$\square \times \square = \square$

$\square \div \square = \square$

3. 在 () 里填“米”或“厘米”。

教室的门高大约 2 ()

一本《新华字典》大约厚 3 ()

一支铅笔长约 14 ()



一棵大树大约高 11 ()


4. 比 26 多 6 的数是 ()。 比 67 少 5 的数是 ()。

6 个 8 相加是 ()。 35 根小棒, 每 5 根一份, 可以分成 () 份。

5. 



(1)  添上 () 个, 就和  同样多。

(2) 从第二行拿 () 个  摆到第一行, 两行的方块就一样多了。

6. 在○里填上“>、<或=”。

$54 \div 6 \bigcirc 10$

$5 \times 4 \bigcirc 10 + 10$

$3 \text{ 米} \bigcirc 3 \text{ 厘米}$

$3 \times 9 \bigcirc 4 \times 7$

$42 \div 6 \bigcirc 42 \div 7$

$2 \text{ 米} \bigcirc 28 \text{ 厘米}$


7. 算一算，填一填。

乘数	5	8	
乘数	9		7
积		32	42

被除数	54	30	
除数	6		9
商		6	9

四、在正确的答案下面打“√”。4分

1. 下面哪种是平均分？




2. 谁每天看得多一些？

35页




小红



我7天看完。

小兰



我5天看完。

小红	小兰

3. 妈妈带了8张5元的人民币，能买下面哪种玩具？

 42 元	 57 元	 38 元

4. 笑笑买一样东西，正好用去27元，她买的是什么？




(反面还有)

五、动手操作。8 分


1. 量一量，下面的线段长（ ）厘米，再画一条比它长 2 厘米的线段。



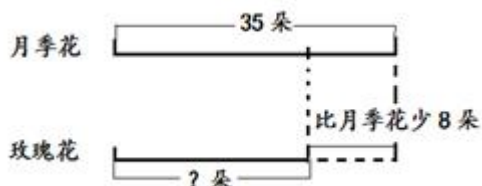
2. 在方格纸上画一个平行四边形、一个五边形和一个六边形。



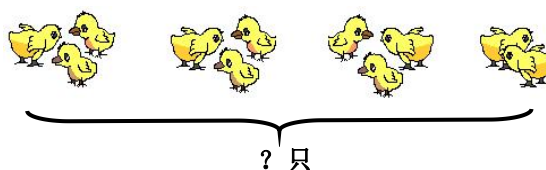
3. 这些图分别是谁看到的，连一连。



六、看图列式。4 分



$$\square \bigcirc \square = \square \text{ ()}$$



$$\square \times \square + \square = \square \text{ ()}$$

或 $\square \times \square - \square = \square \text{ ()}$

七、解决实际问题。24 分

1.



(1) 一只螃蟹 8 只脚，7 只螃蟹有多少只脚？

$$\square \bigcirc \square = \square \text{ ()}$$

(2) 几只螃蟹有 24 只脚？

$$\square \bigcirc \square = \square \text{ ()}$$

2. 学校食堂有 45 袋大米，已经吃了 5 天，平均每天吃 4 袋。


(1) 已经吃了多少袋大米？ $\square \bigcirc \square = \square$ ()

(2) 还剩下多少袋大米？ $\square \bigcirc \square = \square$ ()

3. 2008 年北京奥运会上，美国队获得 36 枚金牌，中国队比美国队多 15 枚。中国队获得了多少枚金牌？

$$\square \bigcirc \square = \square \text{ ()}$$

4. 一共有 36 根跳绳，平均分给 4 个小组。



(1) 每组分得几根？

$$\square \bigcirc \square = \square \text{ ()}$$

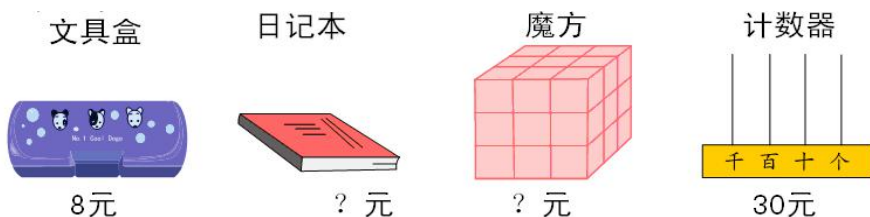
(2) 平均每人分得几根？

$$\square \bigcirc \square = \square \text{ ()}$$

5. 一辆公共汽车上原来有 43 人，到达王庄站，下去 15 人，又上来 9 人，现在车上有多少人？

$$\square \bigcirc \square \bigcirc \square = \square \text{ ()}$$

6.



(1) 小飞买 2 个文具盒，一共用去多少元？

$$\square \bigcirc \square = \square \text{ ()}$$

(2) 老师买一个计数器，都用 5 元的来付，要付多少张？

$$\square \bigcirc \square = \square \text{ ()}$$

(3) 妈妈买 3 个魔方，一共用去 15 元。每个魔方多少元？

$$\square \bigcirc \square = \square \text{ ()}$$

(4) 你还能提出什么问题？并解答。

_____？ $\square \bigcirc \square = \square \text{ ()}$