



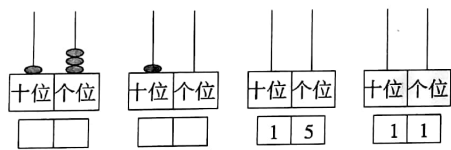
期末冲刺测试卷(二)

- 注意事项:1. 本试卷共2页,总分100分,考试时间60分钟。  
2. 答卷前将密封线左侧的项目填写清楚。  
3. 答案须用黑色字迹的钢笔、签字笔或圆珠笔书写。

题号	一	二	三	四	五	六	卷面分	总分
得分								

一、我会填。(18分)

1. 看珠子填数,看数画珠子。



2. 比13大,比16小的数是( )和( )。

3. ☆▶◆◇○◇◆□★♥♥♠

(1)一共有( )个图形,从左边起第5个图形是( ),从右边数第三个图形是( );◆从左边数是第( )个,从右边数是第( )个。

(2)◆前面的是( ),后面的是( )。

4. 有3个一和1个十,合起来的数字比16( )(填大或小)( )。

5. 把一根绳子对折两次剪开后,每段长5厘米,这根绳子全长( )厘米。


6. 找规律把图形补充完整。(只画一组)

☆△△☆△△☆△△( )

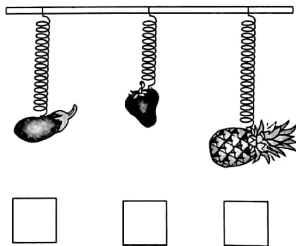
7. 已知 $\triangle + \triangle + \triangle = 9$ ,  $\diamond + \diamond = 8$ ,那么 $\triangle + \diamond = ( )$ 。

二、火眼金睛。(10分)

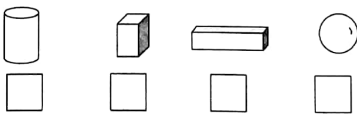
1. 在高的下面画“√”。



2. 在最重的下面画“△”,最轻的下面画“○”。



3. 在可以滚动的图形下面画“√”。



4. 在得数大于9的下面画“√”。

$4+2+2$   $4+3+3$   $4+3+2$

☐ ☐ ☐

5. 下面哪个数是由5个1,和1个十组成的在下面□画“√”。

14 15 16

☐ ☐ ☐

三、计算乐园。(30分)

1. 直接写得数。(8分)

$6+5+2=$   $2+6+11=$   
 $2+8-7=$   $4+13-2=$   
 $9+10-11=$   $13-5+6=$   
 $16-14+11=$   $20-7+6=$

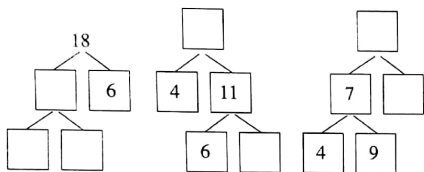
2. 在( )里填上合适的数。(8分)

$5+7=( )-2$   $4+12=8+( )$   
 $19-6=( )+8$   $7+7=( )-4$   
 $18-5=7+( )$   $12+3=( )+9$   
 $14-2=( )-7$   $6+8=( )+13$

3. 在□里填上合适的数。

$16 - 9 = \square$   $6 + 8 = \square$

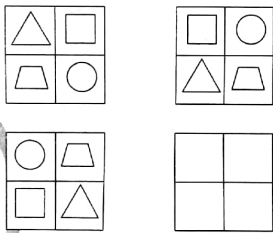




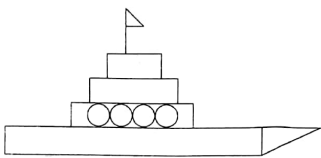
#### 四、心灵手巧。(19分)

1. 根据下面几幅图的规律,画出最后一幅图。

(4分)

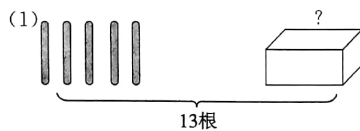


2. 数一数,填一填。(3分)

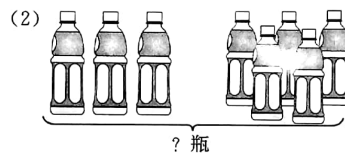


图形			
数量(个)			

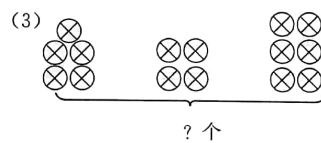
3. 看图列式计算。(12分)



$$\square \bigcirc \square = ? \text{ (根)}$$



$$\square \bigcirc \square = ? \text{ (瓶)}$$



$$\square \bigcirc \square \bigcirc \square = ?$$



$$\square \bigcirc \square \bigcirc \square = ?$$

六、解决问题。(23分)

1. 两个同学在做大红花,一人做5朵,另一名同学做了7朵,他们一共做了几朵?(7分)

2. 二(1)班同学一共收集树种20千克,其中男生收集了12千克,女生收集了多少千克?(8分)

3. 张大伯要给花圃施肥,先买了有8袋花肥,用去了5袋,又买来了12袋。张大伯家现在有多少花肥多少袋?(8分)

