



期末冲刺测试卷(三)

注意事项:1. 本试卷共2页,总分100分,考试时间60分钟。

2. 答卷前将密封线左侧的项目填写清楚。

3. 答案须用黑色字迹的钢笔、签字笔或圆珠笔书写。

题号	一	二	三	四	五	六	卷面分	总分
得分								

一、我会填。(32分)

1. 在□里填上合适的数。

3	6			
9		5		

2. $5+9$ 的得数是由()个十,()个一组成的。

3. ()是15和17共同的邻数,它比最小的两位数大()。

4. 根据图片回答问题。

b	a	ou	f	n
an	ong	d	t	

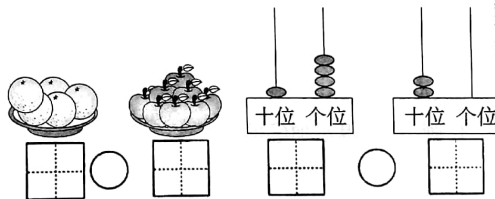
(1)上图一共有()张字母卡片,其中声母卡片有()张,韵母卡片有()张,声母卡比韵母卡多()张。

(2)字母f左边第二位是(),右边第二位是()。

(3)把从左边数第四个字母的□,涂上颜色。

5. 已知两个数的差是4,其中一个数是9,那么另一个数是()或()。

6. 填数,并比较大小。




7. ()最大能填几?

$$\begin{aligned} ()+3 < 9 & \quad ()-8 < 8 \\ ()+5 < 15 & \quad ()-3 < 9 \\ ()-6 < 4 & \quad ()+4 < 12 \end{aligned}$$


8. 桌上有20个苹果,分给6个小朋友,每人1个,桌上还剩()个。

二、我是聪明的小法官。(8分)

1. 在多的后面画“√”。



2. 在不同类的下面画“×”。



3. 在算式正确的后面画“√”。

$$\begin{aligned} 6+9 &= 5+8 \quad () & 4+3 &= 12-5 \quad () \\ 7+5 &= 18-6 \quad () \end{aligned}$$

4. 在最难叠放起来的图形下面画“×”。



三、计算乐园。(33分)

1. 直接写得数。(6分)

$$\begin{array}{lll} 20-5= & 2+4= & 5+6= \\ 13-9= & 15-5= & 20-4= \\ 2+15= & 16-9= & 10+4= \\ 10+9= & 5+3= & 0+9= \end{array}$$

2. 连线。(4分)

$$12-8+4 \quad 14+5-6 \quad 18-8+6 \quad 16+4-17$$

$$12+3+1 \quad 6+4-7 \quad 9+4-5 \quad 6+9-2$$


3. 在□里添上合适的数字。(11分)

$$\begin{array}{l} 6 + 8 = \square \\ \begin{array}{c} \square \\ \square \end{array} \\ 10 \end{array} \quad \begin{array}{l} 15 - 6 = \square \\ \begin{array}{c} \square \\ \square \end{array} \\ \square \end{array}$$


$$\begin{array}{l} 8 \quad \square \quad \square \quad \square \quad 14 \quad 7 \quad 6 \\ \swarrow \quad \searrow \quad \swarrow \quad \searrow \quad \swarrow \quad \searrow \\ 17 \quad 5 \quad 7 \quad 19 \quad \square \end{array}$$

4. 看图列式计算。(12分)

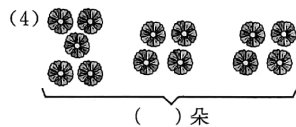
(1)



$$\square \bigcirc \square = \square \text{ (只)}$$



$$\square \bigcirc \square = \square \text{ (只)}$$



$$\square \bigcirc \square \bigcirc \square = \square$$



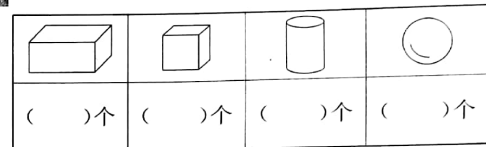
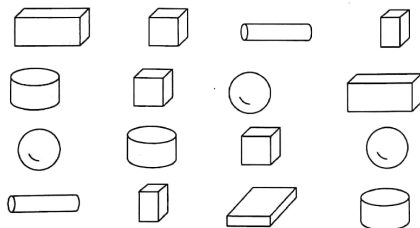
$$\square \bigcirc \square \bigcirc \square = \square$$

五、心灵手巧。(7分)

1. 画△,使得△加○的和是13。



2. 数一数。



六、解决问题。(20分)

1. 王大伯家养了5只母鸡和9只公鸡,王大伯一共养了几只鸡?(6分)

2. 学校乐队有20名成员,其中女同学13人,男有多少人?(7分)

3. 汽车上原来有16个人,到站后下车8人,然后上车4人,问现在车上有多少人?(7分)

