

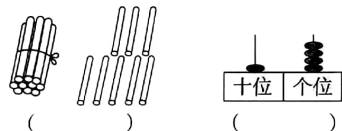
期末达标测试卷(四)

注意事项:1. 本试卷共2页,总分100分,考试时间60分钟。  
2. 答卷前将密封线左侧的项目填写清楚。  
3. 答案须用黑色字迹的钢笔、签字笔或圆珠笔书写。

题号	一	二	三	四	五	卷面分	总分
得分							

一、我会填。(35分)

1. 看图写数。

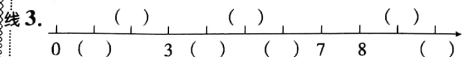


( ) ( ) ( )



( )

2. 11里面个位上的1表示1个( ),十位上的1表示( )个十。



4. 按规律填空。

(1) ☆○○☆○○☆○○( )( )



(2)



5. (1) 上图一共有( )只小狗。  
(2) 把从左边数第三只小狗图上颜色,把从右边数第三个圈起来。

6. 在○里填上“>”“<”或“=”。

$6-4$  ○  $12-8$        $3+9$  ○  $14-7$

$2+8$  ○  $20-10$        $7-5$  ○  $4+7$

$18+1$  ○  $12-6$        $8+6$  ○  $7+9$


7. 计算“ $6+8=?$ ”时,我们这样想6可以分成2和( ), $2+( )=( )$ ,然后再算( )+( )=( )。

8. 把下面数字按从小到大的顺序排一排。

14、2、6、4、8  
( ) < ( ) < ( ) < ( ) < ( )


二、比一比。(10分)

1. 在最短的绳子后面的□里打“√”。




- 7 -

2. 在个子最高的□里打“√”。




3. 在最小的下面的□里打“√”。



4. 在下面不属于同一类的□里打“√”。



5. 每个杯子里放同样的糖,在最甜的那杯的□里打“√”。



三、我会算。(25分)

1. 我是小小神算手。(6分)

$4+9=$        $15-6=$        $13+4=$   
 $6+8=$        $2+9=$        $12+4=$   
 $20-6=$        $16-8=$        $5+6=$   
 $20-7=$        $4+6=$        $17-9=$




2. 在○里添上合适的“+”或“-”。(8分)


$$\begin{array}{ll} 4+6 \bigcirc 9=1 & 20-4 \bigcirc 3=19 \\ 13+5 \bigcirc 12=6 & 5+6 \bigcirc 3=8 \\ 6-2 \bigcirc 4=8 & 16 \bigcirc 6+10=20 \\ 7 \bigcirc 4-5=6 & 8-3 \bigcirc 12=17 \end{array}$$


3. 填表。(3分)

	故事书	科技书	连环画
一班	5本	9本	7本
二班	8本	3本	9本
一共	( )本	( )本	( )本


4. 看图列式计算。(8分)

(1)   
 $\square + 2 = \square$

(2)   
 $\square - 5 = \square$

(3)   
 $\square \bigcirc \square = \square$

(4)

  
 $\square \bigcirc \square = \square$

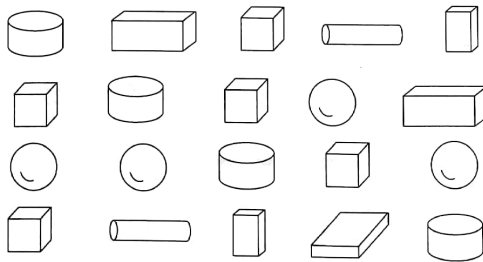
四、心灵手巧。(8分)





1. 画一画。(4分)

(1) 画比△少7个的○。  
 △△△△△△△△△△△

(2) 画比☆多3个的□。  
 ☆☆☆☆☆

2. 数一数,填一填。(4分)



			
( )个	( )个	( )个	( )个

五、解决问题。(22分)

1. 水果超市上午卖出5箱水果,下午又卖出12箱水果。这一天超市共卖出多少箱水果?(8分)

2. 妈妈带了一张20元的纸币去买食材。买完蘑菇还剩8元。

(1) 买蘑菇花了多少钱?(7分)

(2) 剩下的钱再买10元的香蕉,还剩多少钱?(7分)



扫描全能王 创建