

# 九年级历史 试题卷

(本试卷共两大题, 29 小题, 共 7 页; 满分 100 分, 考试用时 90 分钟)

## 注意事项:

1. 本卷为试题卷。考生必须在答题卡上解题作答。答案应书写在答题卡的相应位置上, 在试题卷、草稿纸上作答无效。
2. 考试结束后, 请将试题卷和答题卡一并交回。

## 第 I 卷 (选择题, 共 50 分)

一、选择题 (本大题 25 小题, 每小题 2 分, 共 50 分。每小题给出的四个选项中, 只有一项是最符合题目要求的)

1. 化石是研究人类起源的主要依据。图 1 是 1929 年我国考古学家裴文在北京房山周口店发掘的早期人类的头盖骨化石复原图。这个早期人类是



图 1

- A. 元谋人 B. 北京人 C. 山顶洞人 D. 蓝田人
2. 公元前 221 年, 秦始皇建立我国历史上第一个统一的、多民族的、中央集权的封建国家——秦朝, 为了加强中央集权在地方实行
  - A. 皇帝制度 B. 铸币制 C. 郡县制 D. 三公九卿制
3. 隋唐时期为了选拔优秀人才, 采取了一种较为合理的公平公正的考试制度, 这种制度在我国沿用了 1300 多年, 清末被废除, 但却是今天世界上欧美主要资本主义国家普遍使用的选拔人才的制度, 这种制度是
  - A. 禅让制 B. 世袭制 C. 科举制 D. 察举制
4. 为了进一步加强对西藏地区的管理, 1727 年清政府设置了进驻拉萨的办事大臣, 它是
  - A. 确立册封达赖、班禅制度 B. 设置参赞大臣 C. 金瓶掣签制 D. 驻藏大臣
5. 1895 年中国战败被迫签订割让辽东半岛、台湾全岛及其附属岛屿、澎湖列岛给日本; 日本可以在通商口岸设立工厂。该条约是
  - A. 《南京条约》 B. 《北京条约》 C. 《马关条约》 D. 《辛丑条约》
6. 在近代民族工业发展的历程中, 提出“实业救国”、“教育救国”的口号, 创办大生纱厂的清末状元实业家是
  - A. 张謇 B. 陈独秀 C. 李鸿章 D. 孙中山

7. 在新民主主义革命中, 中国共产党领导人民依据国情找到了一条农村包围城市的正确道路, 为中国革命的胜利奠定了基础。其中创建的第一个农村革命根据地是
  - A. 井冈山革命根据地 B. 中央革命根据地 C. 延安革命根据地 D. 左右江革命根据地
8. 图 2 是日本发动全面侵华战争的示意图, 该事件标志着中国全民族抗战开始, 它是
  - A. 九一八事变 B. 八一三事变 C. 七七事变 D. 西安事变

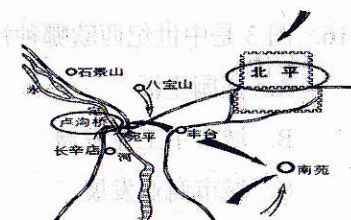

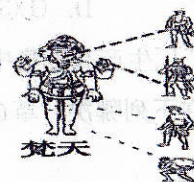


图 2

9. 1949 年 4 月 21 日至 23 日, 人民解放军从江苏江阴到江西湖口, 突破长江防线, 攻占南京, 推翻了统治中国 22 年的南京国民政府的战役是
  - A. 辽沈战役 B. 渡江战役 C. 淮海战役 D. 平津战役
10. 抗日战争结束后, 为了尽一切可能争取和平民主, 戳穿蒋介石假和平的阴谋, 毛泽东在周恩来等的陪同下与蒋介石进行谈判, 并签订了著名的“双十协定”。这次谈判是
  - A. 西安事变 B. 重庆谈判 C. 转战陕北 D. 挺进大别山
11. 1949 年新中国成立后, 为了巩固新生的人民政权, 中国共产党采取的保家卫国和废除两千多年的封建土地制度的措施是
  - ①全国大陆基本解放 ②抗美援朝 ③土地改革 ④镇压反革命运动
  - A. ①② B. ①④ C. ②③ D. ③④
12. 十一届三中全会是新中国成立以来党的历史上最具有深远意义的伟大转折, 大会制定的带领中国不断走向繁荣富强的战略决策是
  - A. 解放思想, 实事求是 B. 进行社会主义现代化建设 C. 形成以邓小平为核心的领导集体 D. 实行改革开放
13. 1999 年 12 月 20 日, 举国欢腾, 中华民族迎来了又一大盛事, 不仅洗刷了民族的耻辱, 而且是完成祖国统一大业的又一个重要里程碑。这一盛事和里程碑指的是
  - A. 香港回归 B. 重返联合国 C. 中美建交 D. 澳门回归
14. 大河流域是人类文明的摇篮, 下图属于古巴比伦文明的是



- A. 种姓制度 B. 金字塔 C. 圆形大剧场 D. 《汉谟拉比法典》



15. 当今世界上通用的公历是 1582 年由教皇十三世创立, 以耶稣诞生之年为公元纪年, 2 万年误差不超过 1 天的精确历法。该历法是
- A. 格里高利历      B. 儒略历  
C. 阴历      D. 太阳历
16. 图 3 是中世纪西欧哪种社会生活的场景
- A. 庄园生活  
B. 城市手工业发展  
C. 城市商业发展  
D. 大学出现
17. 1453 年, 强大的拜占庭帝国被奥斯曼土耳其帝国所灭, 留给我们的启示是
- A. 军事扩张和保守狭隘导致文明衰落  
B. 一个国家的发展不需要向外学习  
C. 战争不会给文明带来破坏  
D. 国家政策与国家兴衰成败无任何联系
18. 下列与穆罕默德有关的是
- ①在麦加创立伊斯兰教      ②622 年在麦地那建立政教合一的国家  
③632 年基本统一阿拉伯半岛      ④把阿拉伯建成一个地跨欧亚非三洲的大帝国
- A. ①②③      B. ②③④      C. ①③④      D. ①②④
19. 14 世纪西欧出现了资本主义生产关系的萌芽, 其标志是
- A. 大机器取代手工生产      B. 手工工场和租地农场的出现  
C. 人文主义思潮产生      D. 英国资产阶级革命爆发
20. 马克思说: “资本来到世间, 从头到脚, 每一个毛孔都滴着血和肮脏的东西”。给非洲带来了深重的灾难, 却促进了欧洲资本主义发展的历史事件是
- A. 文艺复兴      B. 新航路开辟      C. 三角贸易      D. 启蒙运动
21. 下列关于英、美、法三国资产阶级革命的相同点, 表述正确的是
- ①都是资产阶级性质的革命      ②都推翻了本国封建制度  
③都颁布了资产阶级性质的法律文献      ④都把国王送上了断头台
- A. ①②      B. ②③      C. ③④      D. ①③
22. 18 世纪晚期到 19 世纪中叶, 大机器生产取代手工工场; 使工厂生产高度集中、分工精细, 产品的产量和质量显著提高。这种现代工厂制度出现在下列哪次“革命”中
- A. 英国资产阶级革命      B. 法国大革命  
C. 第一次工业革命      D. 美国独立战争




图 3

23. “打破人类相对隔绝的状态, 世界开始连成一个整体, 世界市场开始初步形成; 促进了欧洲资本主义发展”的历史事件是
- A. 《独立宣言》的发表      B. 新航路的开辟  
C. 三角贸易      D. 《解放黑人奴隶宣言》的发表
24. 争取民族独立与解放一直是亚非拉国家奋斗的目标, 19 世纪初领导拉丁美洲独立运动, 打败西班牙、葡萄牙殖民者, 被称为“南美解放者”的人物是
- A. 圣马丁      B. 玻利瓦尔      C. 章西女王      D. 拿破仑
25. 17 世纪英国伟大的物理学家、天文学家、数学家, 在物理学方面提出运动三定律、建立经典力学体系; 在天文学方面发现万有引力定律; 在数学方面创立微积分, 被称为近代自然科学的集大成者的人物是
- A. 牛顿      B. 达尔文      C. 巴尔扎克      D. 贝多芬

第 II 卷 (非选择题, 共 50 分)

二、非选择题 (本大题共 4 小题, 第 26 题 12 分, 第 27 题 14 分, 第 28 题 12 分, 第 29 题 12 分, 共 50 分)

26. (12 分) 阅读下列材料, 回答问题。

材料一

要拥护那德先生, 便不得不反对孔教, 贞节, 旧伦理, 旧政治; 要拥护那赛先生, 便不得不反对旧艺术, 旧宗教; 要拥护德先生又要拥护赛先生, 便不得不反对国粹和旧文学。

——陈独秀 (《新青年》罪案之答辩书)

材料二

14-16 世纪, 欧洲资产阶级掀起了一场“人、神”较量的思想解放运动, 它使欧洲人从以神为中心过渡到以人中心, 从关注来世转移到关注今生, 唤醒人们积极进取、敢于创造和科学实验的精神, 为资本主义制度的胜利开辟了道路——是近代欧洲的一道曙光。

——摘自中华书局版《九年级历史》上册

材料三

1848 年, 两个德国人向全世界宣告了一种新的社会主义理论诞生。此后, 这一理论成为国际无产阶级无比锐利的思想武器, “哺育了世界西方和东方两个半球的无产阶级运动”, 对人类社会的进程产生了深远影响。

——选自高中历史岳麓版《政治文明历程》

(1) 材料一反映的是中国近代史上哪次思想解放运动? (2 分)

(2) 根据材料二, 概括 14-16 世纪欧洲资产阶级思想解放运动的核心思想及其作用。 (4 分)



(3)材料三中无产阶级革命的“无比锐利的思想武器”是什么?其诞生的标志是什么?  
(4分)

(4)根据上述材料,谈谈你对进步思想的认识。(2分)

27. (14分) 阅读下列材料, 回答问题。

材料一

伯利克里说:“我们的制度之所以被称为民主政治, 因为政权不是把握在少数人手里, 而是握在大多数人手中。每个人在法律上都是平等的……我们的城市是全希腊的学校”

——伯里克利在阵亡将士葬礼上的讲话



图4 公民在大会上自由发言图

材料二

凡未经议会同意, 以国王权威停止法律或停止法律实施之僭越权力, 为非法权力。凡未经议会准许, 借口国王特权, 为国王而征收, 或供国王使用而征收金钱, 超出议会准许之时限或方式者, 皆为非法。

——摘自中华书局版《九年级历史》上册

材料三

宣扬天赋人权, 提出“在权利方面, 人人生来是而且始终是自由平等的”。权利指的是自由、财产、安全和反抗压迫。为了维护人权, 就有必要实行法治。法律保护公民言论、出版、信仰等自由, 更保护人们神圣不可侵犯的财产。

——摘自中华书局版《九年级历史》上册

材料四

我们合众国人民, 为建立更完善的联邦, 树立正义, 保障国内安宁, 提供共同防务, 促进公共福利, 并使我们自己和后代得享自由和幸福, 特为美利坚合众国制定本宪法。

——1787年《合众国宪法》

(1)材料一中“我们的城市”指的是哪个城邦? 根据图4指出其最高的权力机关是什么?(4分)

(2)材料二内容出自哪部法律文献? 该法律文献的颁布使英国确立了怎样的政治体制?(4分)

(3)材料三出自哪部法律文献?(2分)

(4)根据材料四结合所学知识, 分析该宪法颁布在美国发展史上的作用是什么?(2分)

(5)根据上述材料谈谈你对民主法治的认识。(2分)

28. (12分) 阅读下列材料, 回答问题。

材料一

要坚持农业农村优先发展, 按照产业兴旺、生态宜居、乡风文明、治理有效、生活富裕的总体要求, 建立健全城乡融合发展体制机制和政策体系, 加快推进农业农村现代化。保持土地承包关系稳定并长久不变, 第二轮土地承包到期后再延长三十年。——确保国家粮食安全, 把中国人民的饭碗牢牢端在自己手中。

——党的十九大报告

材料二

这次改革虽然保留了大量封建残余, 但它却是俄国近代历史上的重大转折点。

——摘自人教版《世界历史》九年级上册

材料三

1868年, 日本的新统治者致力于日本社会的转型, 以获得同外国势力在政治和军事上的平等地位。……变革使日本成为东亚的政治、军事和经济强国。

——摘自杰里·齐格勒《新全球史》下

(1)材料一中土地承包制度是哪一农村经济体制改革政策的继续?(2分)

(2)根据材料二并结合所学知识, 指出俄国近代历史上具有重大转折点地位的历史事件是什么? 这一历史事件的进步作用是什么?(4分)

(3)材料三的“变革”指的是哪一历史事件? 根据材料指出这次“变革”的积极作用。(4分)



材料四(4) 结合上述材料,谈谈你对改革的认识。(2分)

29. (12分) 阅读下列材料,回答问题。

材料一

市场总是在扩大,需求总是在增加。工厂手工业也不能再满足这种需求了。于是,蒸汽和机器就引起了工业中的革命。

——摘自中华书局版《九年级历史》上册

材料二




图5




图6

材料三

一些工业发达的城市和工矿区,人口密集、物流量大,煤的燃烧量急剧增加,以大气污染为主的环境问题不断发生——绿草地被黑煤屑污染,蓝色天空布满暗灰色的阴霾,曾经清澈的河水变黑发臭,土地荒漠化加剧等等。

(1) 材料一中为蒸汽机的改进和应用做出重大贡献的历史人物是谁? 这次工业革命使人类社会进入什么时代?(4分)

(2) 材料二中图5、图6两种交通工具的产生得利于哪项动力技术的发明和应用? 这项发明是哪次工业革命的成果?(4分)

(3) 材料三描述的是工业革命给人类社会带来了哪方面的问题?(2分)

(4) 根据以上材料,谈谈你对科技革命的认识。(2分)

# 楚雄州 2018—2019 学年上学期期末检测

## 九年级历史参考答案及评分意见

### 第 I 卷（选择题，共 50 分）

#### 一、选择题（本大题共 25 小题，每小题 2 分，共 50 分）

题号	1	2	3	4	5	6	7	8	9	10	11	12	13
答案	B	C	C	D	C	A	A	C	B	B	C	D	D
题号	14	15	16	17	18	19	20	21	22	23	24	25	
答案	D	A	A	A	A	B	C	D	C	B	B	A	

### 第 II 卷（非选择题，共 50 分）

#### 26.（12 分）

（1）新文化运动。（2 分）

（2）人文主义（2 分）；为资本主义制度的胜利开辟了道路，是近代欧洲的一道曙光。

（2 分）

（3）马克思主义（2 分）；《共产党宣言》发表。（2 分）

（4）思想解放是社会进步发展的基础（先进思想是推动社会进步发展的动力）（2 分）

#### 27.（14 分）

（1）雅典（2 分）；公民大会。（2 分）

（2）《权利法案》（2 分）；使英国确立了君主立宪制资本主义政治体制。（2 分）

（3）《人权宣言》（2 分）

（4）巩固资产阶级统治，促进美国资本主义经济的发展。（2 分）

（5）民主法治是人类社会发展的必然趋势；是维护社会安定，促进国家发展的有力保障。（2 分）

#### 28.（12 分）

（1）家庭联产承包责任制。（2 分）

（2）废除农奴制改革（2 分）；使俄国走上了资本主义的道路或答为俄国资本主义发展提供了自由劳动力，扩大了资本主义市场。（2 分）

(3) 日本明治维新。(2分)使日本成为东亚的政治、军事和经济强国。(2分)

(4) 改革是推动国家社会进步发展的动力。改革要依据国情；不断创新。(2分)

29. (12分)

(1) 瓦特(2分); 人类进入蒸汽时代(2分)。

(2) 内燃机(2分); 第二次工业革命(2分)。

(3) 环境污染(2分)。(抄材料给1分)

(4) 科学技术是一把“双刃剑”，有利有弊，要合理利用科学技术造福人类。(2分)

注：主观题部分意思相近即可，如有其他答案，符合题意，言之有理亦可评分。