

线
封
线
上

绝密★启用前

2019—2020 学年度第一学期期末质量调研

九年级道德与法治试题(卷)

老师真诚地提醒你:

- 1. 本试卷共 6 页,满分 100 分,请你直接在试卷上答题;
- 2. 答卷前请将密封线内的项目填写清楚;
- 3. 书写要认真、工整、规范;卷面干净、整洁、美观。

题 号	一	二	总 分
得 分			

第 I 卷 选择题(共 40 分)

【选择题答题栏】

题号	1	2	3	4	5	6	7	8	9	10	11	12	13	14	15	16	17	18	19	20
答案																				

得 分	评卷人

- 一、选择题(共 20 小题,每小题 2 分,计 40 分,每小题只有一个选项是符合题目要求的,请将正确答案的序号填在题前的答题栏中)
- 2019 年 10 月 5 日 2 时 51 分,中国在太原卫星发射中心用_____丙运载火箭,成功将高分十号卫星发射升空,卫星顺利进入预定轨道,任务获得圆满成功。()
A. 长征四号 B. 长征五号 C. 嫦娥三号 D. 嫦娥四号
 - 2019 年 10 月 28 日至 31 日在北京通过《中央中共关于坚持和完善中国特色社会主义制度、推进国家治理体系和治理能力现代化若干重大问题的决定》的会议是 ()
A. 全国政协十三届常委会 B. 十九届二中全会
C. 全国政协十二届常委会 D. 十九届四中全会
 - 国务院总理李克强在 2019 年《政府工作报告》中指出,2018 年,我国坚持在发展中保障和改善民生,改革发展成果更多更公平地惠及人民群众。这表明我国发展的根本目的是 ()
A. 缩小贫富差距 B. 消除城乡差异
C. 增进民生福祉 D. 促进公平正义
 - 中学生小叶无意中把雨伞倒挂在围栏上,伞里接满了雨水。他想,北京那么缺水要是能制作一个收集雨水、自动浇花的装置就好了,由此引发了他的创新设计。经过不断研究和反复实践,他发明的节水器获得国际青少年节水大赛一等奖。这说明 ()
A. 创新要善于思考,付诸行动 B. 没有天赋的人不能进行创造
C. 科技创新都是突发奇想的结果 D. 中学生在万众创新中发挥主要作用
 - 我国的民主是真实有保障的。下列民主制度中能找到最大公约数,画出最大同心圆的制度是 ()
A. 人民代表大会制度
B. 中国共产党领导的多党合作和政治协商制度
C. 人民民主专政制度
D. 基层群众自治制度

- 习近平总书记指出:“法律是准绳,任何时候都必须遵循;道德是基石,任何时候都不可忽视。”这启示我们 ()
A. 坚持依法治国与以德治国相结合 B. 法治具有强制力,比德治更重要
C. 德治具有感召力,比法治更重要 D. 依法治国和以德治国可相互替代
- 年代不同,一家三代的精神偶像也不相同(如下图)。这反映出中华民族精神 ()



爷爷的偶像是江姐



爸爸的偶像是雷锋



我的偶像是杨利伟



弟弟的偶像是英雄机长

- ①随着时代进步,其核心也在变化 ②在不同的历史时期有不同的表现 ③具有鲜明的时代特点 ④其传承是几代人的共同责任
- A. ①②③ B. ①②④ C. ②③④ D. ①③④
- 黄山“90 后”邮递员谢菲俊,每周上山 5 次,每次背着 100 多斤的邮包,两年多穿坏 8 双鞋,从未延误过一个邮班,丢失过一个邮件,这说明谢菲俊 ()
①大力践行和弘扬社会主义核心价值观 ②在爱岗敬业中实现,提升了人生价值 ③弘扬了以爱国主义为核心的时代精神 ④弘扬了扬善抑恶的中华传统美德
A. ①② B. ②③ C. ③④ D. ②④
 - 据权威统计,截至 2018 年年底,我国 60 岁及以上老年人口约 2.49 亿,占总人口的 17.9%。到 2030 年,全国老年人口规模将比 2011 年翻一番。这体现了我国人口特点是 ()
A. 人口基数大,素质偏低 B. 老龄化加剧
C. “独生子女”社会问题凸显 D. 城乡分布不均衡
 - 最高利益即最终利益,是指追求的终极目标。中华民族的最高利益是 ()
A. 缩小城乡之间的差距 B. 加强和巩固民族团结,维护祖国统一
C. 提高农民的收入水平 D. 推进两岸经济合作制度化
 - 广西壮族自治区成立 60 年来,八桂大地从荒凉走向繁荣,从贫瘠走向富裕,从封闭走向开放,从落后走向进步。60 年走过的光辉历程,承载着各族人民的奋斗史篇,昭示着民族团结进步的伟大力量。广西壮族自治区 60 年来取得巨大成就说明了 ()
A. 我国消除了民族间经济不平衡 B. 我国民族自治地方享有高度自治权
C. 民族区域自治制度具有优越性 D. 民族区域自治是我国根本政治制度
 - 香港和澳门回归祖国后,继续保持了经济的持续、健康发展,保证了社会的稳定与繁荣,这一现象充分说明 ()
A. 香港、澳门地广人稀,物产丰富 B. “一国两制”方针具有强大生命力
C. “一国两制”方针仅适用于香港、澳门 D. 只有社会主义才能发展香港、澳门
 - 右边漫画所指向的 2020 年的目标是 ()
A. 解决人民温饱问题
B. 达到总体小康水平
C. 实现共同社会理想
D. 全面建成小康社会
 - “不忘初心,继续前进;万水千山,最美中国道路。”歌曲《不忘初心》反映了百姓呼声、时代所向。“最美中国道路”及其依据分别是 ()
A. 中国特色社会主义道路;现阶段我国的基本国情
B. 改革开放道路;现阶段我国的基本国情
C. 可持续发展道路;现阶段我国的现代化水平
D. 社会主义道路;党的基本路线



15. 中国开启新时代,树立中国自信,做自信中国人,成为我们的共同目标。做自信的中国人,需要我们 ()
①坚定民族立场,全面抵制外国先进成果 ②胸怀理想,求真务实,满怀激情,锲而不舍 ③坚持“四个自信”,做新时代的奋斗者 ④放飞梦想,把全部精力放在创新发明上面
A. ①② B. ①④ C. ②③ D. ①②③④
16. 2019 年 1 月 23 日,国家副主席王岐山在出席达沃斯世界经济论坛 2019 年年会致辞时指出,经济全球化是历史必然。下列属于经济全球化重要表现的是 ()
①商品生产在全球范围内完成 ②商品贸易在全球范围内进行 ③经济风险与经济危机跨国界传递 ④各国经济相互联系相互依赖程度加深
A. ①②③ B. ①③④ C. ①② D. ①④
17. 右图漫画启示我们 ()
①每个民族的文化都有其存在的价值 ②应认识文化差异,尊重不同民族的优秀文化 ③要全盘学习和借鉴其他国家和民族的文化 ④文化差异会引发矛盾,要减少文化的多样性
A. ①② B. ①③ C. ②③ D. ②④
18. 当今世界正处在大变革大调整之中,新兴大国群体性崛起是当今世界最主要的发展趋势之一。“新兴大国群体性崛起”反映了 ()
A. 和平与发展是当今时代的主题 B. 霸权主义与强权政治已不存在
C. 世界多极化趋势不可逆转 D. 世界已经形成了多极化格局
19. 当今世界并不平静。从西亚、北非的硝烟到地中海滨的难民,从欧罗巴的恐袭到亚非拉的贫困,诸多问题依然困扰着世界……这说明现阶段 ()
A. 国际形势大缓和局面已经发生变化
B. 各种矛盾相互交织,考验着国与国之间的关系
C. 国家之间的战争在不断扩大
D. 国际竞争应该遵循国际规则
20. 签证是指一国主管机关在本国或外国公民所持的护照或其他旅行签证上签注、盖印,表示准其出入本国国境。近年来,我国在签证便利化方面取得重要进展,与多个国家签署了有关互免签证的协定。这说明 ()
①国家间只有合作,没有竞争 ②我国的国际地位和国际影响力不断增强 ③国家合作以国家间共同利益为基础 ④国家间的合作要树立双赢、共赢的新理念
A. ①②③ B. ①②④ C. ②③④ D. ①③④



第Ⅱ卷 非选择题(共 60 分)

得分	评卷人

二、非选择题(共 4 小题,计 60 分)

21.【富强与创新】(16 分)
2019 年,我们迎来了中华人民共和国成立七十周年。某校九年级(1)班同学围绕“祖国诞生七十年,美好家乡我建设”这一主题展开了探究活动,请你一起参与。

【回望发展历程】

材料一 同学们搜集了 2018 年陕西省经济社会发展取得的部分重大成就:

2018 年全省进出口总值达 3513.78 亿元人民币,较上年同期增长 29.3%,高于全国 19.6 百分点,居全国第三位,社会保障水平不断提升,城乡低保平均标准分别增长 10% 和 15.3%,全年省财政下达生态环保资金 23.9 亿元,其中中央资金 13.4 亿元,省级资金 10.5 亿元,是历年中最多的一年。

(1)请你紧扣材料一帮助同学们分析,陕西省经济社会发展的成功经验有哪些? 这些成就中隐含了什么发展理念?(6 分)

【感受科技魅力】

材料二



中国西部科技创新港、中科院西安科学园进驻西安 西北首家知识产权保护中心落地西安 陕西空天动力研究院在西北工业大学长安校区正式揭牌成立
(2)我省取得丰硕创新成果得益于哪一战略的实施? 我省企业取得丰硕创新成果有哪些意义?(6 分)

【我为家乡助力】

材料三 时代因奋斗而常新,城市因梦想而远行。实施西部大开发发展战略对我们是机遇,也是挑战,青少年学生生逢其时,也重任在肩。我们都是追梦人。广大青年应该在奋斗中释放青春激情、追逐青春理想,以青春之我、奋斗之我,为中国梦积聚洪荒伟力。

(3)作为一位当代青年,你如何以青春之我、奋斗之我,助力家乡追梦圆梦?(4 分)

22.【民主与法治】(14 分)

材料一

情景	方式
在村民委员会换届选举中,村民选出一心为民、勇于担当的村委会主任。	①
某街道办事处根据街道工作的实际需要,组织专家围绕全局性、长期性、综合性问题进行战略研究,对策讨论,提供科学的咨询论证意见。	②

材料二 为让群众在家门口就能反映问题,在北海市纪委监委的统一部署下,海城区涠洲镇荔枝山村镇纪委在各村(社区)统一设置了纪检监察信访举报箱,在镇政府大院建立了规范的群众来访接待室,让群众有个“可说理的地方”。

材料三 无序养犬问题引起了某市人大高度关注。人大在广泛听取各方的意见后,制定通过了《某市养犬管理规定》。该法施行以来,某市行政执法局建立了犬类管理长效机制,加强执法监管力度,市民养犬行为更规范,恶犬伤人事件大幅减少,城市变得更加文明美好。

(1)公民参与民主生活的途径与方式有多种,根据材料一表格情景填充相应方式。结合所学知识,指出中国特色社会主义民主的“优势和特点”有哪些?(6 分)

(2)材料二中北海市设置纪检监察信访举报箱有利于保障公民行使哪项权利? 我们可以通过什么途径行使这项权利?(4 分)

(3)根据材料三,阐述该市为建设法治中国是如何坚持厉行法治的?(4 分)


23.【文明与和谐】(16分)

2019年3月,第三届“一带一路”青年创意与遗产论坛开幕式在长沙市举行。让我们跟随遗产保护志愿者一起走进这场论坛,一同感受长沙的魅力。

材料一 来自80多个国家的120多名青年代表,游览长沙铜官窑老街,体验制陶乐趣,聆听非物质文化遗产长沙山歌,共唱迈克尔·杰克逊的名曲《We Are The World》……全息影像与焰火场景交相辉映,浪漫唯美的画卷使世界青年深深沉醉在“天下一家”的感动中。


(1)请你结合材料一,谈谈长沙主办“一带一路”青年创意与遗产论坛的重要意义。(4分)

材料二 论坛活动期间,参加会议的代表纷纷走到长沙的大街小巷,体验长沙的风土人情。他们发现长沙有不少小区都取了个洋名字,如“威尼斯”“夏威夷”“香榭丽舍”等等。随同考察的小凡上网搜索后,发现全国各地以洋名字来命名小区的现象还比较普遍。同学们为此展开了讨论,纷纷发表自己的看法。



小亮

外国的东西就是比国内的好,包括房子也是,名字叫的越洋气,就显得越高大上,将来住进去了跟别人提起自己家小区的名字,也会觉得很有面子。



小美

小区取洋名是文化自信的表现,国家应该对小区名等含有“大、洋、怪、重”的名称进行规范化和标准化处理,鼓励多起一些具有民族特色,历史底蕴的小区名字。

(2)你是否赞同小亮关于中国小区用洋名字来命名的做法?并从文化的角度说说你的理由。(6分)

我国在快速发展、经济腾飞的同时,人口、资源等问题成为制约发展的重要因素。

材料三

我国万元GDP用水量为465立方米,是世界平均水平的4倍;全国城市供水管网漏损率达20%左右,仅城市坐便器水箱漏水一项每年就损失上亿立方米。

中国用水状况



如此空气

(3)材料三“中国用水状况”体现了我国自然资源现状的什么特点?“如此空气”反映了我国的哪一环境问题?(4分)

(4)请为我国坚持走节约资源,保护环境,绿色发展道路,提出合理化的建议。(2分)

24.【追梦在路上】(14分)


【民族团结】

材料一 2019年的“春城文化节”推出云南昆明“民族团结大舞台”这一新活动,充分发挥昆明市作为全国少数民族最多的省中心城市的凝聚作用。以中华文化推动昆明建设成为立足西南、面向全国、辐射南亚、东南亚的国际中心城市。

(1)除民族团结外,我国处理民族关系的基本原则还有哪些?云南人民只有铸牢什么意识,才能推动昆明这座城市的发展建设?(6分)

【国家统一】

材料二



中共十九大召开

习近平总书记在做十九大工作报告期间,会场共响起了70多次掌声,尤其是讲到“我们坚决维护国家主权和领土完整,绝不容忍国家分裂的历史悲剧重演。一切分裂祖国的活动都必将遭到全体中国人坚决反对。我们有坚定的意志、充分的信心、足够的能力挫败任何形式的‘台独’分裂图谋。我们绝不允许任何人、任何组织、任何政党、在任何时候、以任何形式、把任何一块中国领土从中国分裂出去”时,更是响起了经久不息的掌声。

(2)“绝不允许任何人……以任何形式、把任何一块中国领土从中国分裂出去”表明了我国关于台湾问题怎样的立场?习近平总书记关于两岸问题的讲话为什么会赢得经久不息的掌声?(4分)

【民族复兴】

材料三 中国梦,描绘出一个时代最为壮阔的梦想图景,汇聚起一个国家最为持久的追梦力量。六年来,中国梦一步步扎实前行。雄安新区建设、乡村振兴、自贸试验区改革深化拓展、政府机构改革、减税免税、生态环境持续改善、85个贫困县脱贫摘帽,169个城市PM2.5同比下6.9%……一组又一组数字刷新前行的速度。



(3)中国梦的基本内涵是什么?说说你心目中中国梦实现后的图景。(用一句话概括)(4分)