

学 校

姓 名

班 级

密

封

线

第八单元(月考四)全能测试卷

时间:90 分钟 满分:100 分

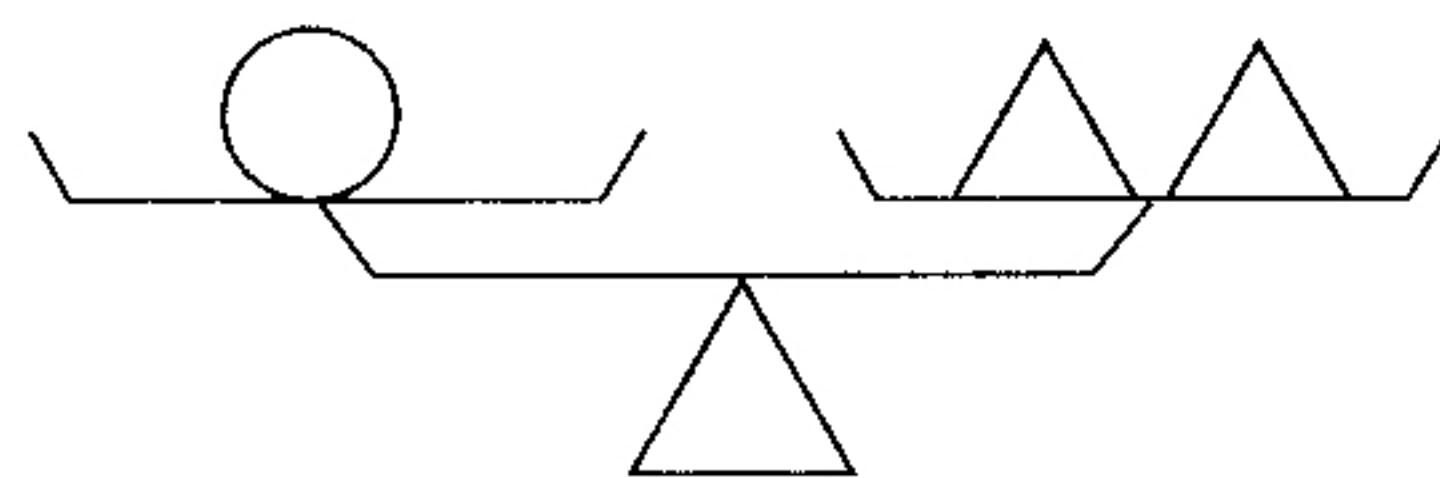
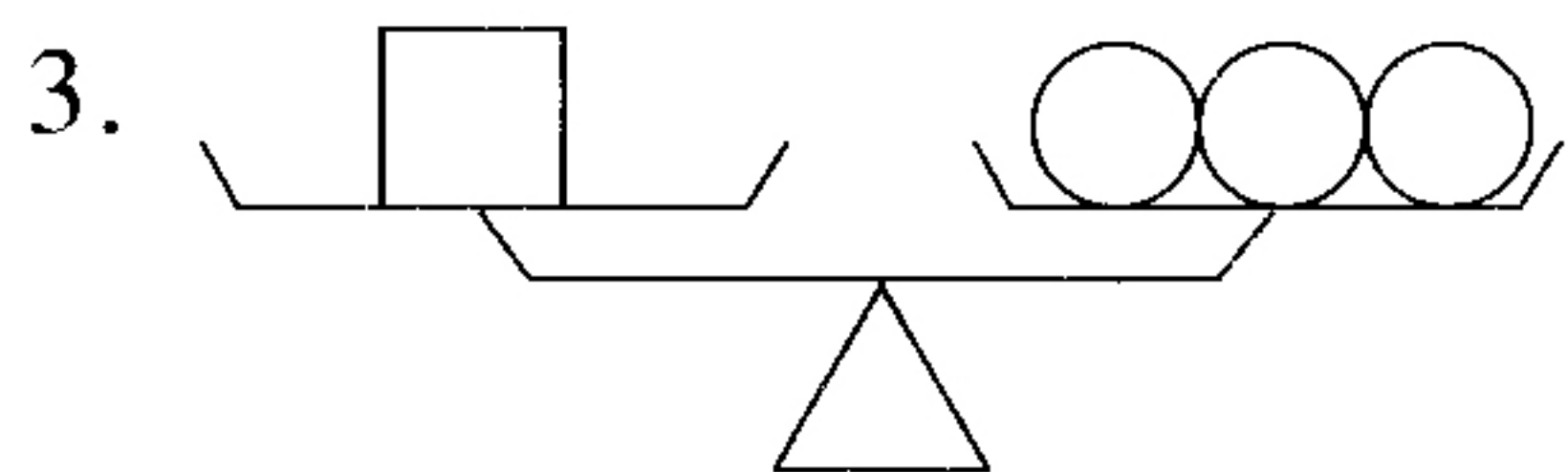
题 号	一	二	三	四	五	六	总 分
得 分							

一、开动脑筋,认真填空。(13 分)

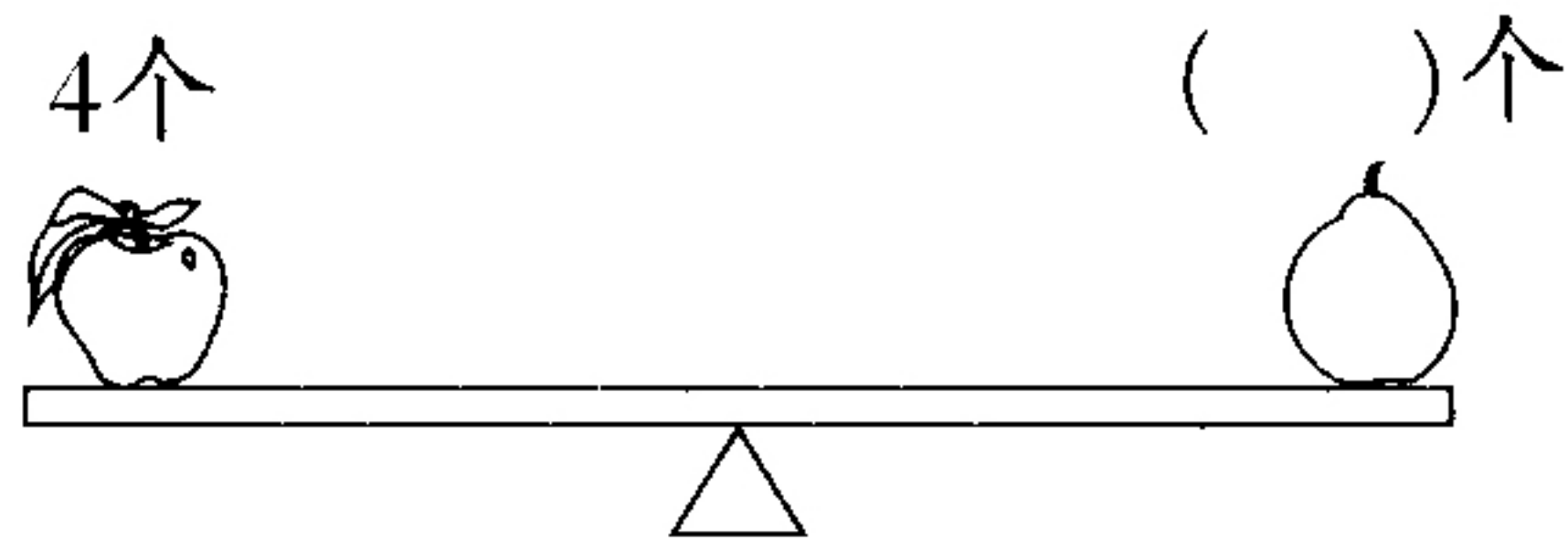
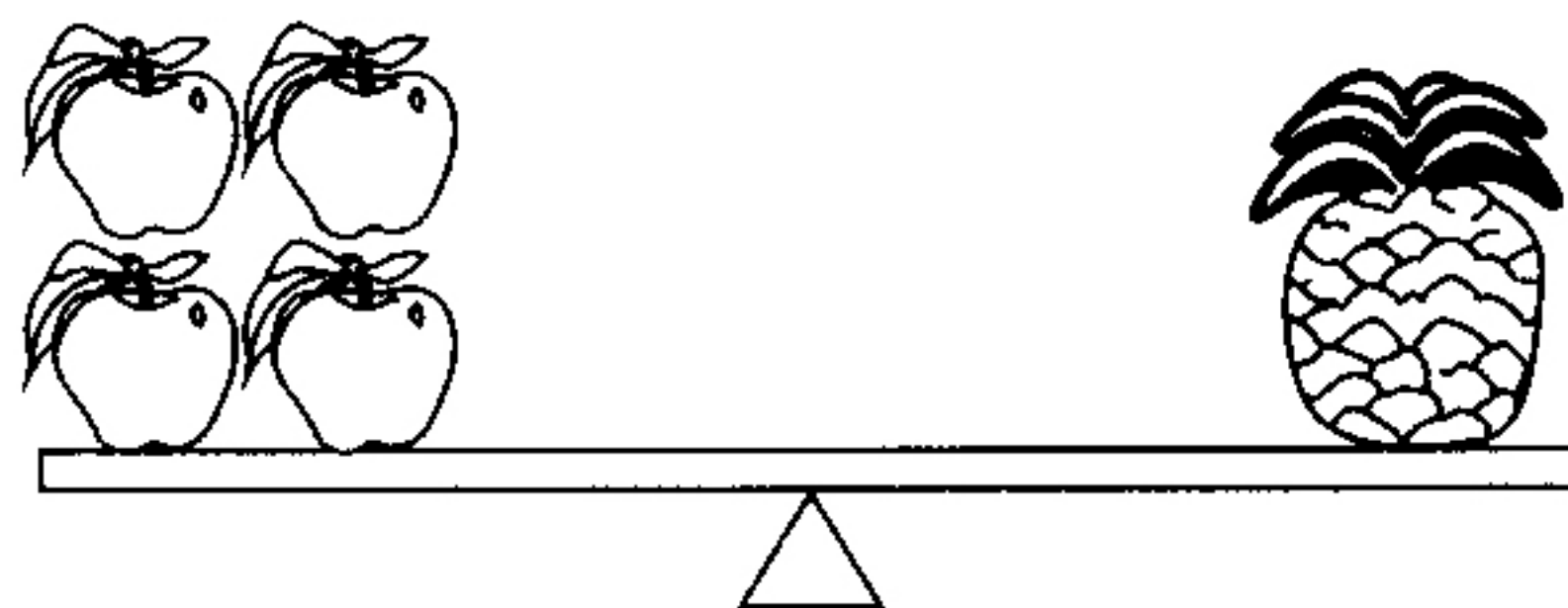

- 8 分米 = () 米 8 角 3 分 = () 元
5 厘米 = () 米 2 元 3 分 = () 元
- 0.5 里面有 5 个 (); 0.36 是由 () 个 0.1 和 () 个 0.01 组成的。
- 每箱雪碧 24 听,每听 2 元,5 箱共需 () 元钱。
- 2 头牛可以换 4 头猪,3 头猪可以换 6 只狗,3 头牛可以换 () 只狗。
- 某人去买菜。
昨天买了:豆角、黄瓜、茄子、西红柿、蒜薹、韭菜、芹菜。
今天买了:香菜、芹菜、冬瓜、豆角、油菜、黄瓜、萝卜、白菜、苦瓜。
(1) 昨天买了 _____ 种菜。
(2) 今天买了 _____ 种菜。
(3) 两天都买的菜有: _____。
(4) 两天一共买了 _____ 种菜。

二、算一算。(15 分)

- $\triangle + \square = 240$ $\triangle = \square + \square + \square$
 $\triangle = ()$ $\square = ()$
- $\bigcirc \times \triangle = \square$ $\bigcirc + \bigcirc + \bigcirc = \square - \bigcirc - \bigcirc$
 $\triangle = ()$



1 个 \square = () 个 \triangle



三、耐心审题, 仔细计算。(共 15 分)

1. 列竖式计算。(6 分)

$$6.7 + 5.4 =$$

$$3.1 - 1.8 =$$

$$11.5 + 0.6 =$$

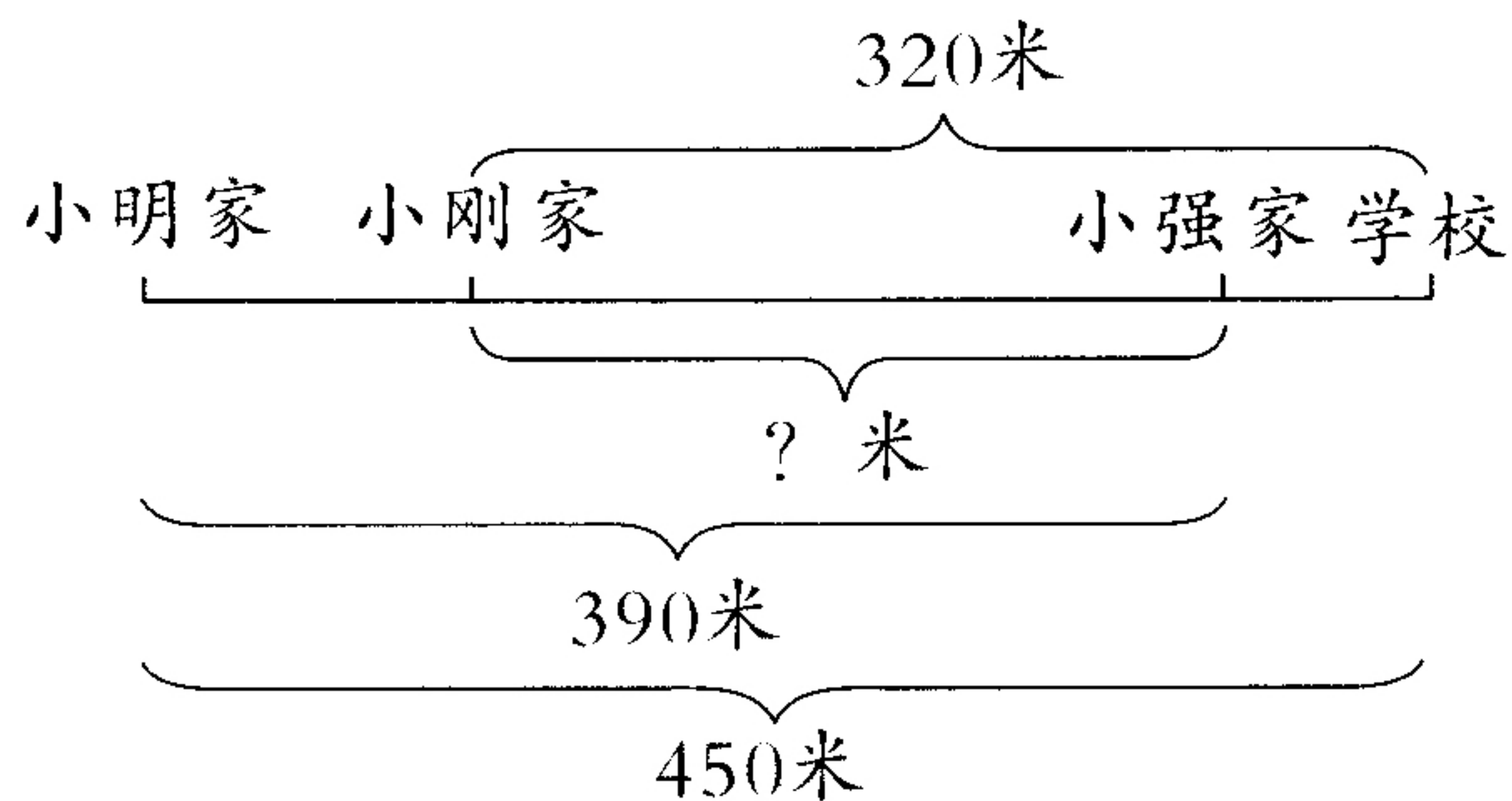
2. 脱式计算。(9 分)

$$6 \times 4 \times 25$$

$$23 \times 12 + 102$$

$$54 \div 9 \div 3$$

四、看图计算。(8 分)



小刚家到小强家有多少米?

五、走进生活,解决问题。(共 39 分)

1. 姐姐去超市买杯子,看到玻璃杯每个 13.6 元,陶瓷杯每个 10.2 元,塑料杯每个 6.1 元。(15 分)

(1) 买一个玻璃杯和一个塑料杯共多少元?

(2) 一个陶瓷杯比一个玻璃杯便宜多少元钱?

(3) 三种杯子各买一个,30 元够吗?

2. 江南小区有 32 幢楼,每幢楼有 6 个单元,如果每个单元每月节电 8 千瓦时,江南小区每月一共节电多少千瓦时?(6 分)

3. 据统计,三个漏水的水龙头一周大约流失水 252 千克。平均每个水龙头每天流失水多少千克? (6 分)
4. “短跑冠军”猎豹每小时最快可跑 110 千米,鸵鸟最快 3 小时可以跑 210 千米。谁跑得快? 快多少? (6 分)
5. 某店对当天顾客所喝饮品进行统计,统计情况如下:(6 分)
- 顾客总数 100 人;
喝牛奶的有 78 人;
喝咖啡的有 71 人。
既喝牛奶又喝咖啡的有多少人?

六、智慧乐园。(10 分)

爸爸和丁丁今年的年龄之和是 40 岁,再过一年,爸爸的年龄是丁丁年龄的 6 倍,爸爸和丁丁今年各是多少岁?