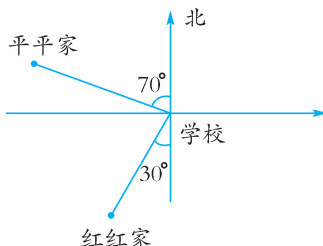


第五单元提优测评

时间:60 分钟 总分:100 分

一、填空。(共 20 分)

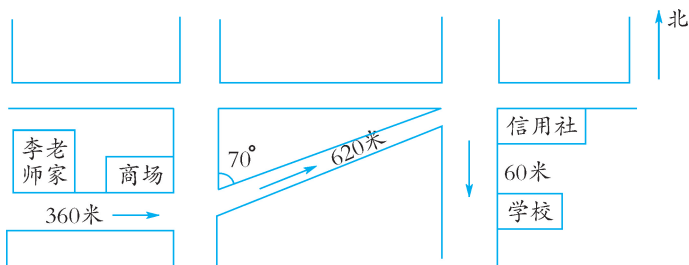
观察下图,回答问题。



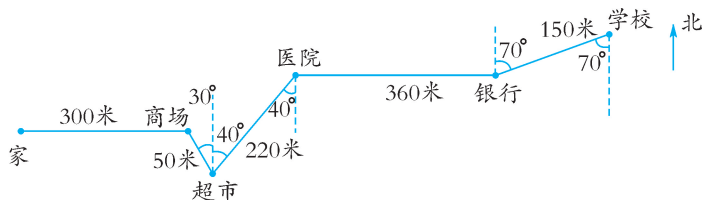
- (1)平平家在学校的北偏() ()°的方向。
- (2)红红家在学校的()偏() ()°的方向。

二、解决问题。(每题 20 分,共 80 分)

1. 下面是李老师家附近街道的平面图。根据图示,说说李老师从家到学校上班的行走方向和路程。



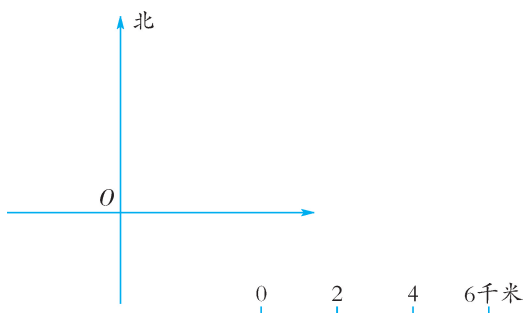
2. 下面是夏雨上学的路线图,请看图填空。



- (1) 夏雨从家到学校, 先向()走()米到(), 再向()偏() () ()方向走()米到超市, 从超市向()偏() () ()方向走()米到(), 再向()走()米到银行。
从银行向()偏() () ()方向走()米到学校。
- (2) 如果夏雨每分钟走 60 米, 夏雨上学大约要走多少分钟?

3. 西苑小学的实验楼在学校大门的北偏东 60° 方向 200 米处。教学楼在学校大门的北面 150 米处, 音乐楼在学校大门的北偏西 55° 方向 100 米处。请选择合适的比例尺画出示意图。

4. 根据描述, 在下面的平面图上分别标出 A、B、C、D 四个点的位置。



- (1) 点 A 在点 O 南偏西 40° 方向 6 千米处;
(2) 点 B 在点 O 北偏东 70° 方向 9 千米处;
(3) 点 C 在点 O 南偏东 45° 方向 8 千米处;
(4) 点 D 在点 O 北偏西 60° 方向 5 千米处。

第五单元提优测评

一、(1)西 70 (2)南 西 30

二、1. 李老师从家向东行 360 米到商场,再从商场向北偏东 70° 方向行 620 米到信用社,最后向南行 60 米到学校。

2. (1)东 300 商场 南 东
 30° 50 北 东 40° 220 医
院 东 360 北 东 70°
150

(2)18 分钟

3. 略 4. 略