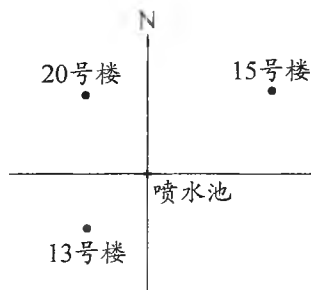


班级_____ 姓名_____ 学号_____ 等第_____

第五单元检测卷

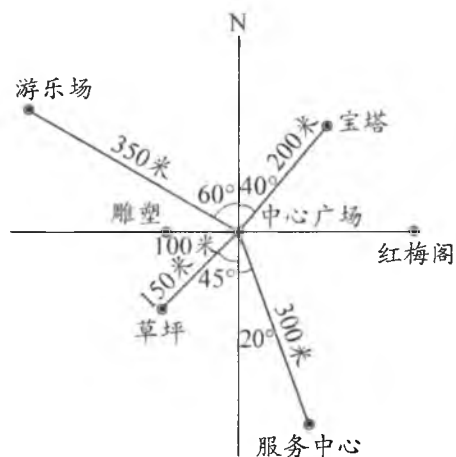
一、选择正确答案的序号填在括号内

- 东南方向也叫作()。
① 南偏东 ② 南偏西 ③ 北偏东
- 右图中的比例尺表示图上1厘米的距离相当于实际距离()。
① 200 米 ② 200 千米 ③ 600 千米
- 右边是某小区的平面图。13号楼位于喷水池的()方向。15号楼位于喷水池的()方向。
① 南偏西 ② 北偏西 ③ 北偏东



二、下面是某公园主要景点的示意图,请根据示意图填空

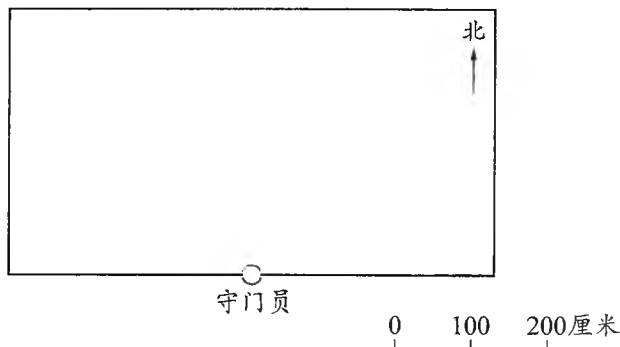
- 雕塑在中心广场的()面()米处。
- 宝塔在中心广场的北偏() ()°方向()米处。
- 游乐场在中心广场的()偏西 ()°方向()米处。
- 草坪在中心广场的南偏() ()°方向()米处。
- 服务中心在中心广场的()偏 () ()°方向()米处。



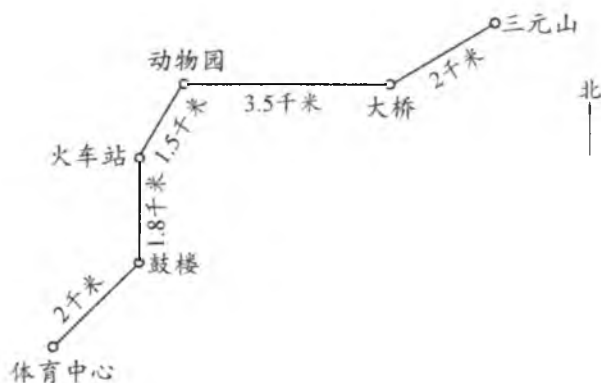
三、画一画

一位足球运动员在练习射门时,教练记录了他每次射中的球在球门平面图上的位置,以守门员站立的位置为观测点,请根据下面的描述,在球门平面图上标出射入球门的足球位置。

1. 第一个球在守门员北偏东 30° 方向 150 厘米处;
2. 第二个球在守门员北偏西 45° 方向 200 厘米处;
3. 第三个球在守门员北偏东 60° 方向 250 厘米处。

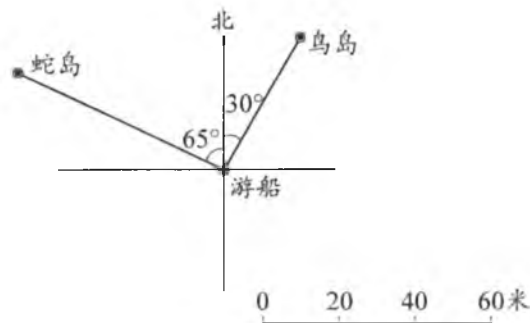


四、下面是某城市地铁一号线的路线图



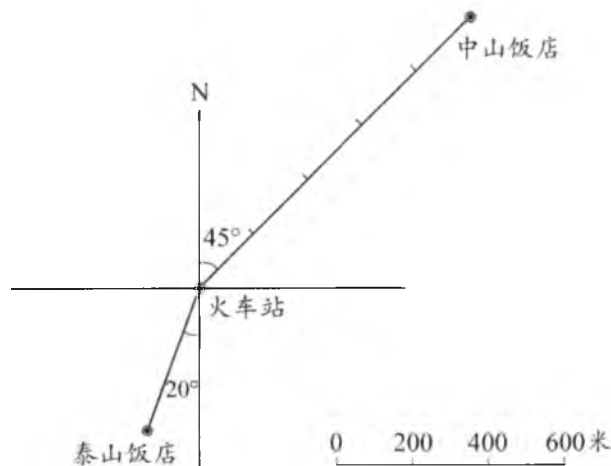
1. 地铁从火车站出发,向()偏()() $^\circ$ 方向行()千米到动物园,再向()行()千米到大桥,然后向()偏()() $^\circ$ 方向行()千米到三元山。
2. 地铁从火车站出发,向()行()千米到鼓楼,再向()偏()() $^\circ$ 方向行()千米到体育中心。

五、一艘游船所在的位置如图



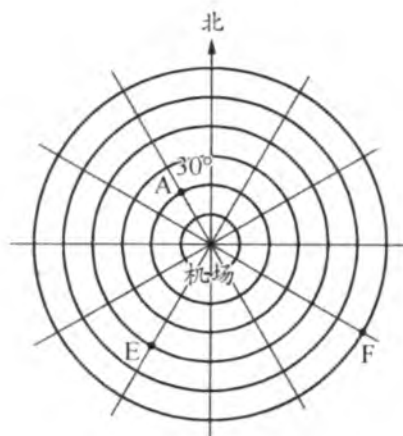
1. 从图上看,鸟岛在游船的()偏()($^{\circ}$)方向()米处,蛇岛在游船的()偏()($^{\circ}$)方向()米处。
2. 三山岛在游船的南偏西 40° 方向 80 米处,请在图中标出三山岛的位置。

六、在下面平面图中,以火车站为观测点,填一填,标一标



1. 泰山饭店在火车站的()偏()($^{\circ}$)方向()米处。
2. 中山饭店在火车站的()偏()($^{\circ}$)方向()米处。
3. 长城饭店在火车站的北偏西 20° 方向 400 米处;梅林饭店在火车站的北偏东 75° 方向 800 米处。在图上表示出长城饭店和梅林饭店的位置。

七、



上图是一个飞机场的雷达屏幕,每两个相邻圆之间的距离是5千米。以机场为观测点,飞机A在北偏西 30° 方向10千米,请在图中标出B、C、D三架飞机的位置并完成填空。

1. 飞机B在南偏西 30° 方向25千米处。
2. 飞机C在北偏东 60° 方向15千米处。
3. 飞机D在南偏西 60° 方向30千米处。
4. 飞机E在()方向()千米处。
5. 飞机F在()方向()千米处。

八、看图填一填

右图是明明上学的路线图。明明从家出发,先向()走()米到(),再向()偏()方向走()米到(),最后向()偏()方向走()米到学校。明明上学一共要走()米。

