



第五单元综合提优测评卷

-----确定位置-----

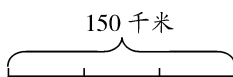


时间:60 分钟 满分:100 分

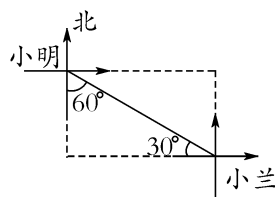
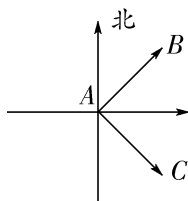
题 序	一	二	三	四	五	六	七	总 分	结分人	核分人
得 分										

一、填一填。(每题 4 分,共 20 分)

1. 在平面图上通常确定的方位是:上()、下()、左()、右()。
2. 下图的比例尺中,1 厘米表示()千米,5 厘米表示()千米。



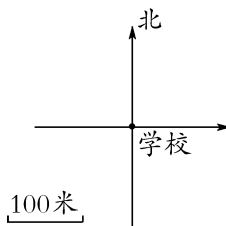
3. 左下图中,点 B 在点 A 的东偏()的方向上,也可以说点 B 在点 A 的北偏()的方向上;点 C 在点 A 的东偏()的方向上,也可以说点 C 在点 A 的南偏()的方向上。



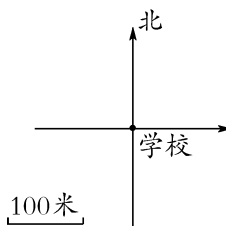
4. 右上图中,小明看小兰是在南偏()()的方向上,小兰看小明是在西偏()()的方向上。
5. 小林家在学校的东偏北 30° 的方向上,也可以说小林家在学校的北偏()()的方向上。

二、确定位置,请你画出他们家的位置。(每题 6 分,共 12 分)

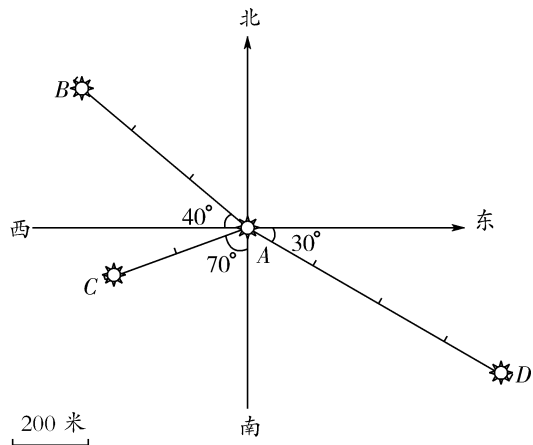
1. 小军家在学校的北偏西 45° 的方向上约 400 米处。



2. 小宏家在学校的南偏西 60° 的方向上约 300 米处。

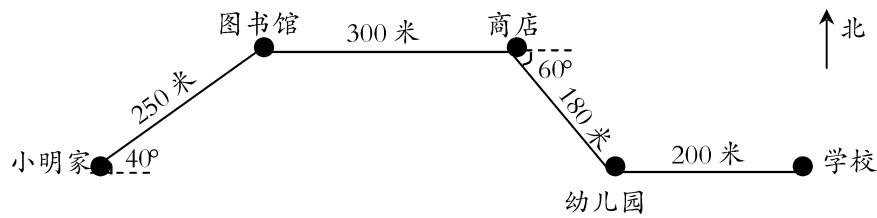


三、看图量一量,填一填。(每题 4 分,共 12 分)



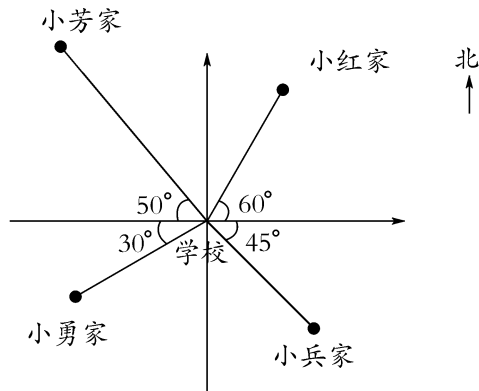
- 1. 点 B 在点 A 的()偏()()的方向上()米处。
- 2. 点 C 在点 A 的()偏()()的方向上()米处。
- 3. 点 D 在点 A 的()偏()()的方向上()米处。

四、说一说小明上学和放学所走的路线。(共 14 分)



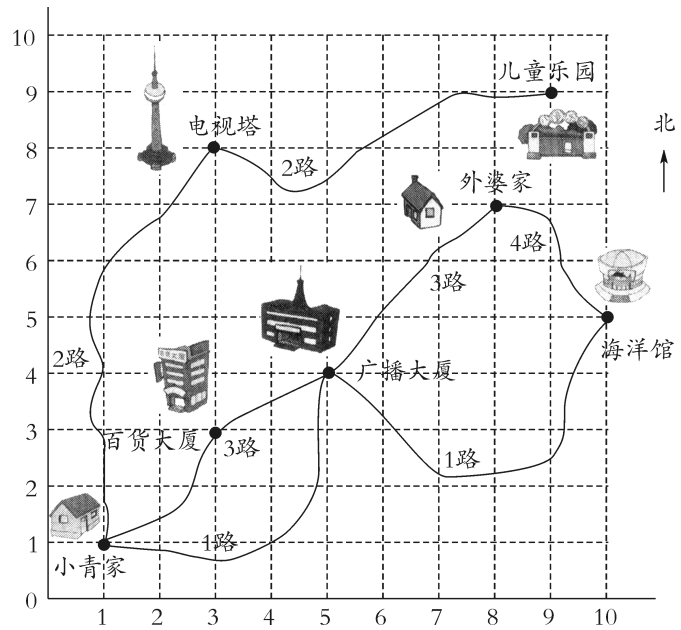
五、以学校为观察点,说一说他们家各在学校的什么方向,离学校多少米,完成下表。(共 14 分)

	小红家	小芳家	小勇家	小兵家
方向				
路程				



比例尺: 1 : 200000

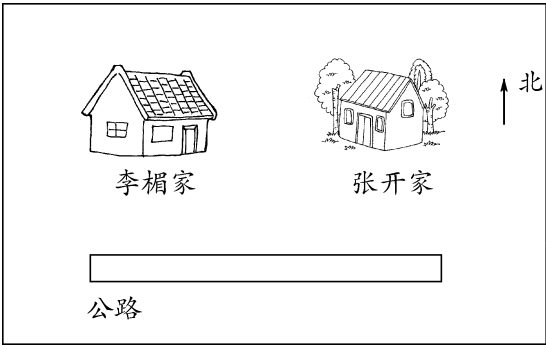
六、小青乘坐 3 路公共汽车去外婆家。（第 2 题 4 分,其余每题 6 分,共 16 分）



- 公共汽车到广播大厦时,停车休息 5 分钟,请你说一说百货大厦和外婆家分别在广播大厦的什么方向。
- 下午小青又到外婆家东南方向的景点去玩,你知道小青去的是什么地方吗?
- 已知外婆家到小青下午去的景点有 1000 米,去时由表哥骑车送,用了 4 分钟,返回时行走用了 16 分钟,求小青往返的平均速度。

七、李楣家和张开家都住在公路的北边,现准备在公路边合建一座水塔。(每题 6 分,共 12 分)

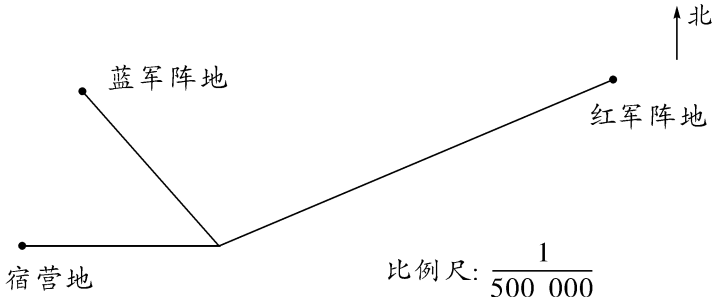
1.



(1)如果所建的水塔到两家的距离之和最短,水塔应建在哪里?

(2)以所建的水塔为观测点,说说两家各在什么方向上?

2.



(1)在作战图中,宿营地到指挥部的距离是 2 厘米。宿营地到指挥部实际距离多少千米?

(2)从指挥部到红军阵地送信,通讯员每小时行 20 千米,需要 1.6 小时到达。在作战图上,指挥部到红军阵地的距离是多少厘米?

第五单元综合提优测评卷

- 一、1. 北 南 西 东
2. 北 东 南 东
3. 50 250 4. 东 60° 北 30°
5. 东 60°

二、略

- 三、1. 西 北 40° 600
2. 南 西 70° 400
3. 东 南 30° 800

四、略

五、略

- 六、1. 略 2. 海洋馆 3. 100 米/分

七、1. 略

2. (1)10 千米 (2)6.4 厘米