


达标测试卷

题号	一	二	三	四	五	六	七	八	总分
得分									

一、填一填。(17分)

- 三点七米写作()米,就是()米()分米。
- 5元8角写成小数是()元,读作()元。
- 9角是 $\left(\frac{\quad}{\quad}\right)$ 元,也可以写成()元;7分米是 $\left(\frac{\quad}{\quad}\right)$ 米,也可以写成()米。
- 找规律,接着写下去。
0.1,0.4,0.7,1.0,(),()。
8.5,7.5,6.5,5.5,(),()。
- 在0.2,0.3,1.4,0.8和0.9这五个数中,最大的数是()。
- 0.9米表示把()平均分成()份,取其中的()份。

二、找一找,连一连。(5分)



三、判断正误。(对的画“√”,错的画“×”)(5分)

- 小数都比整数小。()
- 比0.2大,比0.5小的小数只有一个。()
- 0.6读作零点六,12.5读作十二点五。()

4. 列竖式计算小数加、减法时,小数点要对齐。 ()
5. 两个小数相减的差总是整数。 ()

四、在 ○ 里填上“>”“<”或“=”。(6分)

0.6 米	○	0.3 米	1.8 米	○	0.9 米	13.9 元	○	19.3 元
0.2 元	○	2 角	5 分米	○	4.6 分米	7.1 米	○	1.7 米

五、计算乐园。(共14分)

1. 直接写出得数。(5分)

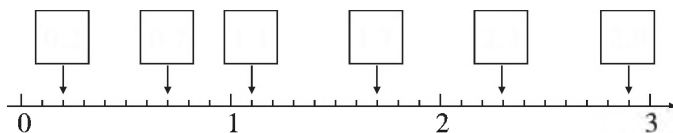
$0.5+0.3=$	$0.8-0.6=$	$0.9+0.1=$	$0.9-0.6=$	$1+0.7=$
$1.3+2.6=$	$2.9+3=$	$7.8-1.1=$	$0.8+0.5=$	$2.2+0.8=$

2. 列竖式计算。(9分)


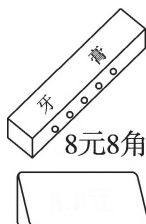
$0.9+0.7=$	$1.9+0.8=$	$6.1-2.2=$
------------	------------	------------

六、按要求做一做。(共13分)

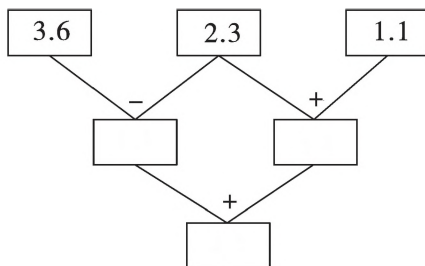
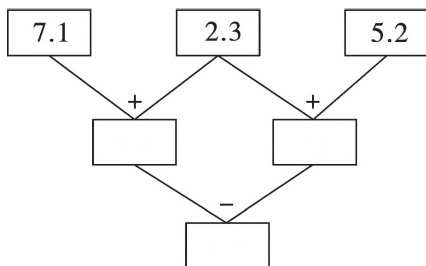
1. 在方框里填上适当的小数。(3分)



2. 用“元”做单位表示下面每件商品的价格。(4分)



3. 算一算,填一填。(6 分)



七、按要求完成下列各题。(12 分)

1. 把下列各长度按从短到长的顺序排列起来。

0.6 米 1.8 米 9.2 分米 5.7 分米

2. 小猫钓鱼。(连一连)



得数比1大的算式。



得数比1小的算式。

3. 下面的计算对吗? 对的画“√”,错的画“×”并改正。

(1) 3.6 改正:

$$\begin{array}{r} + 51.8 \\ \hline 8.4 \end{array} \quad (\quad)$$

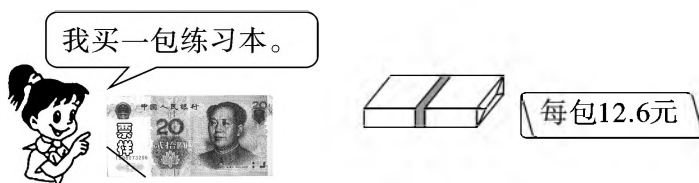
(2) $\dot{7}.8$ 改正:

$$\begin{array}{r} - 3.9 \\ \hline 4.1 \end{array} \quad (\quad)$$

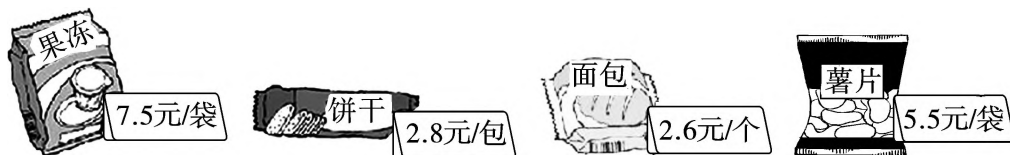
八、解决问题。(共 28 分)

1. 一盒彩笔售价 6.5 元,冰冰买了一盒彩笔后还剩下 3.5 元。冰冰原来带了多少元?(5 分)

2. 售货员应找回多少钱? (5 分)



3. 买一包饼干和一个面包一共需要多少元? 小明有 10 元, 可以买哪两种食物? (请写出两种方案, 并计算花了多少钱) (6 分)



4. 一桶油, 连桶重 8.6 千克, 用去一半后连桶重 4.7 千克。桶重多少千克? (6 分)

5. (思维拓展题) 小红在做一道加法题时, 把一个小数个位上的 3 错看成了 8, 把十分位上的 9 错看成了 6, 结果算得的和是 11.5。你能求出这道题的正确答案吗? (6 分)

48