

## 第八单元综合达标训练卷

-----确定位置-----



时间:60 分钟 满分:100 分

题 序	一	二	三	四	五	六	七	八	总 分	结分人	核分人
得 分											

一、填一填。(第 4、6 题每题 4 分,其余每空 1 分,共 18 分)

1. 竖排叫作( ),横排叫作( ),确定第几列一般从( )往( )数,确定第几行一般从( )往( )数。

2. 在下图中找出第 3 列第 6 行的位置,用数对表示是( , )。

第6行	<input type="checkbox"/>	<input type="checkbox"/>	<input type="checkbox"/>	<input type="checkbox"/>	<input type="checkbox"/>	<input type="checkbox"/>	<input type="checkbox"/>	<input type="checkbox"/>	<input type="checkbox"/>	<input type="checkbox"/>
第5行	<input type="checkbox"/>	<input type="checkbox"/>	<input type="checkbox"/>	<input type="checkbox"/>	<input type="checkbox"/>	<input type="checkbox"/>	<input type="checkbox"/>	<input type="checkbox"/>	<input type="checkbox"/>	<input type="checkbox"/>
第4行	<input type="checkbox"/>	<input type="checkbox"/>	<input type="checkbox"/>	<input type="checkbox"/>	<input type="checkbox"/>	<input type="checkbox"/>	<input type="checkbox"/>	<input type="checkbox"/>	<input type="checkbox"/>	<input type="checkbox"/>
第3行	<input type="checkbox"/>	<input type="checkbox"/>	<input type="checkbox"/>	<input type="checkbox"/>	<input type="checkbox"/>	<input type="checkbox"/>	<input type="checkbox"/>	<input checked="" type="checkbox"/>	<input type="checkbox"/>	<input type="checkbox"/>
第2行	<input type="checkbox"/>	<input type="checkbox"/>	<input type="checkbox"/>	<input type="checkbox"/>	<input type="checkbox"/>	<input type="checkbox"/>	<input type="checkbox"/>	<input type="checkbox"/>	<input type="checkbox"/>	<input type="checkbox"/>
第1行	<input type="checkbox"/>	<input type="checkbox"/>	<input type="checkbox"/>	<input type="checkbox"/>	<input type="checkbox"/>	<input type="checkbox"/>	<input type="checkbox"/>	<input type="checkbox"/>	<input type="checkbox"/>	<input type="checkbox"/>
	第 1 列	第 2 列	第 3 列	第 4 列	第 5 列	第 6 列	第 7 列	第 8 列	第 9 列	第 10 列

3. (9,4)在上图中表示第( )列第( )行。

4. 华联超市在上图中第 4 列第 2 行的位置,用数对表示是( , )。用黄色水彩笔涂出华联超市的位置。

5. 上图中阴影部分用数对表示是( , )。

6. 在上图中用蓝色水彩笔涂出(5,6)的位置,用红色水彩笔涂出(7,1)的位置。

二、根据下图填空。(共 15 分)

第3行					
第2行					
第1行					
	第1列	第2列	第3列	第4列	第5列

(1)压路机在第( )列第( )行,用数对表示是( , )。

(2)足球在第( )列第( )行,用数对表示是( , )。

(3)熊猫在第( )列第( )行,用数对表示是( , )。

(4)用数对表示下列物体。

排球( , ),小猴( , ),篮球( , ),  
火车( , ),公鸡( , ),飞机( , )。

### 三、选一选。(每题 1 分,共 4 分)

- 数对(3,4)和(4,4)表示的位置在( )。  
A. 同一行                  B. 同一列                  C. 无法确定
- 方格图中第 3 行第 8 列的位置,用数对表示是( )。  
A. (3,8)                  B. (8,3)                  C. 无法确定
- 用数对( $x$ ,4)表示位置,下面说法正确的是( )。  
A. 它一定在第 4 列  
B. 它一定不在第 4 列  
C. 它可能在第 4 列
- 方格图上一个四边形的四个顶点的位置是  $A(1,1), B(4,1), C(5,3), D(2,3)$ ,则这个四边形是( )。  
A. 平行四边形          B. 正方形                  C. 梯形

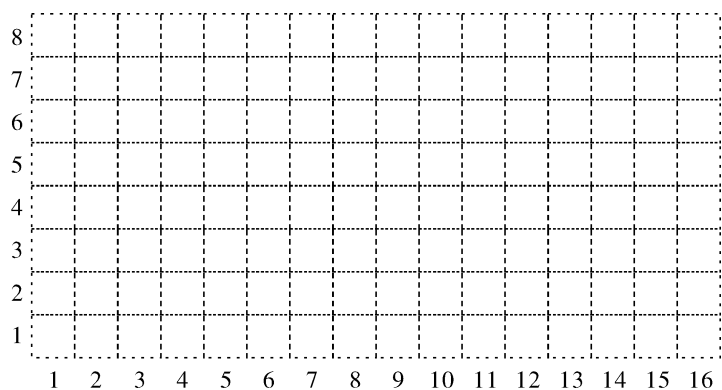
### 四、按要求涂色,并回答问题。(共 10 分)

第5行					
第4行					
第3行					
第2行					
第1行					
	第 1 列	第 2 列	第 3 列	第 4 列	第 5 列

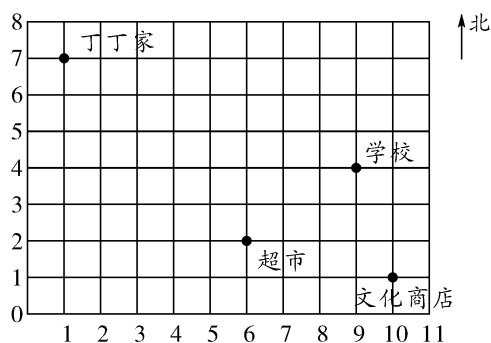
- 分别给(1,1)、(2,2)、(3,3)、(4,4)、(5,5)涂上绿色。
- 分别给(1,5)、(2,4)、(4,2)、(5,1)涂上黄色。
- (3,4)和(4,3)表示的位置相同吗?

### 五、涂色,并找出规律。(共 12 分)

学校会议室地面要铺地砖,12 块花色地砖分别铺在以下位置:(3,4)、(5,3)、(5,5)、(7,2)、(7,6)、(9,1)、(9,7)、(11,2)、(11,6)、(13,3)、(13,5)、(15,4),请你用彩色笔分别给花色地砖涂色。你发现花色地砖位置的规律了吗?



六、下面是丁丁家所在街区平面图。(共 12 分)



(1)用数对分别表示下列地点的位置。

丁丁家( , ),超市( , ),学校( , ),文化商店( , )。

(2)学校在丁丁家的( )方向。丁丁从家到学校,可以先向( )走( )格,再向( )走( )格。(在图中标出行走路线)

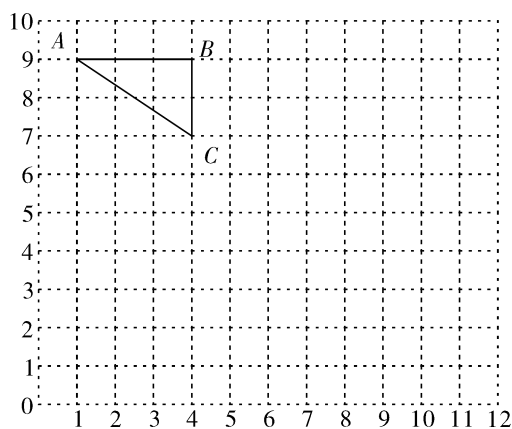
(3)园园家的位置在(2,3),医院的位置在(10,6),请在图中标出来。

(4)丁丁要从家到园园家可以怎么走? 在图中标出行走路线。

(5)如果要在街区建一个少年宫,你希望它建在哪里? 在图中标出来,并用数对表示它的位置。

七、写一写,画一画。(第 1 题 8 分,第 2 题 12 分,共 20 分)

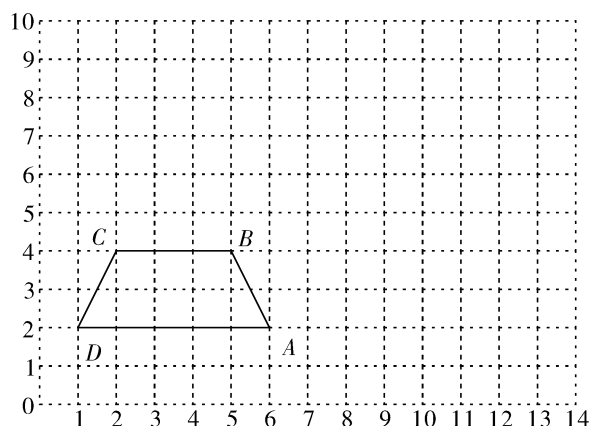
1.



(1)用数对分别表示出  $A$ 、 $B$ 、 $C$  的位置。

(2)把三角形先向右平移 7 格,再向下平移 5 格,画出平移后的三角形  $A'B'C'$ ,并用数对分别表示出  $A'$ 、 $B'$ 、 $C'$  的位置。

2.



(1)用数对分别表示出  $A$ 、 $B$ 、 $C$ 、 $D$  的位置。

(2)把梯形绕点  $A$  顺时针旋转  $90^\circ$ ,画出旋转后的图形,并用数对分别表示出  $A'$ 、 $B'$ 、 $C'$ 、 $D'$  的位置。

(3)标出点  $E(9,9)$ 、 $F(10,7)$ 、 $G(13,7)$ 、 $H(12,9)$ ,并顺次连接  $E$ 、 $F$ 、 $G$ 、 $H$ 。围成的是什么图形?

#### 八、想一想,并回答问题。(每题 3 分,共 9 分)

1. 教室里小红的位置是  $(5, ☆)$ ,你能确定小红位置的范围吗?

2. 教室里小军的位置是  $(☆, 5)$ ,你能确定小军位置的范围吗?

3. 教室里丁丁的位置是  $(☆, ☆)$ ,你能确定丁丁位置的范围吗?

### 第八单元综合达标训练卷(A 卷)

- 一、1. 列 行 左 右 下 上 2. (3,6)  
3. 9 4 4. (4,2) 5. (8,3) 6. 略
- 二、(1)2 1 (2,1) (2)1 2 (1,2)  
(3)2 3 (2,3)  
(4)(4,2) (1,3) (5,2) (5,1) (3,3) (1,1)
- 三、1. A 2. B 3. C 4. A
- 四、(1)略 (2)略 (3)不相同。
- 五、略
- 六、(1)(1,7) (6,2) (9,4) (10,1)  
(2)东南 南 3 东 8(或东 8 南 3)  
路线略。  
(3)略  
(4)先向南走 4 格,再向东走 1 格(或先向东走 1 格,再向南走 4 格)。图略。  
(5)略
- 七、1. (1)A(1,9) B(4,9) C(4,7)  
(2)图略。A'(8,4) B'(11,4) C'(11,2)  
2. (1)A(6,2) B(5,4) C(2,4) D(1,2)  
(2)图略。A'(6,2) B'(8,3) C'(8,6) D'(6,7)  
(3)平行四边形
- 八、1. 小红坐在第 5 列。 2. 小军坐在第 5 行。  
3. 不能确定丁丁位置的范围。