



# 第八单元综合提优测评卷

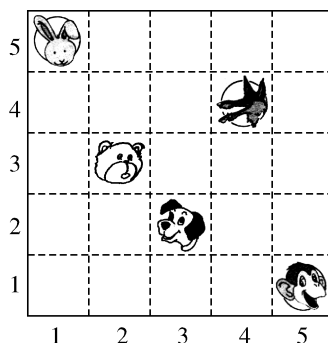
-----确定位置-----



时间:60 分钟 满分:100 分

题 序	一	二	三	四	五	六	七	八	总 分	结分人	核分人
得 分											

一、快乐狗设计了一副动物棋,请你说一说现在棋盘上的小动物各在什么位置。  
(共 6 分)



( )   (4,4)   ( )   ( )   (5,1)

二、下面是阳光小学四(2)班的座位表。(共 10 分)

7					
6					
5					
4					
3	小花				
2			小明		
1					
	1	2	3	4	5

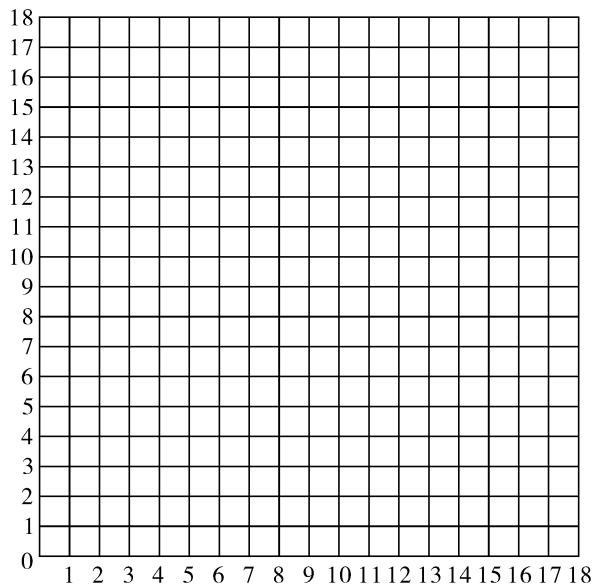
- (1)小明的位置可以用数对(3,2)表示;小花的位置可以用数对( , )表示;  
小云的位置用(4,4)表示,小云在第( )列,第( )行。
- (2)李兵的位置是(2,4),李红的位置是(5,2),请在座位表上写出这两位同学的姓名。
- (3)小明后面一个是小政,小政的位置是( , )。

三、判一判。(每题 2 分,共 10 分)


1. 在同一方格纸上, $(3,a)$ 和 $(3,b)$ 两点在同一列上。( )
2.  $(5,3)$ 和 $(3,4)$ 表示的两个点位置在同一行上。( )
3. 用 $(6,2)$ 表示在第 6 行第 2 列。( )
4.  $(2,5)$ 和 $(5,2)$ 表示的是同一个位置。( )
5.  $(x,8)$ 能确定一个场馆的具体位置。( )

四、描出下列各点并依次连成封闭图形,看看是什么图形。(共 14 分)

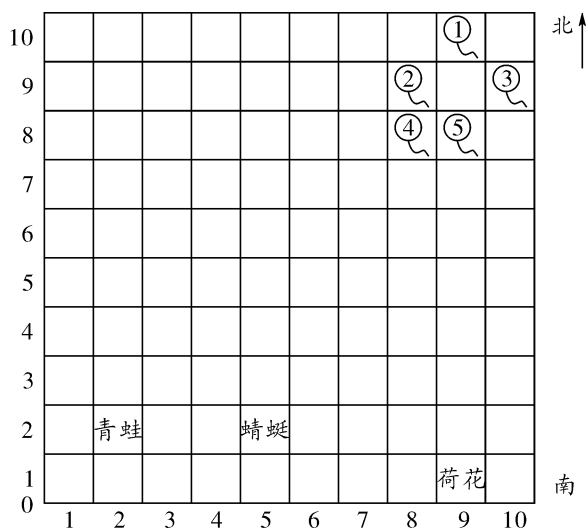
$A(5,8)$     $B(2,5)$     $C(8,5)$     $D(5,2)$     $E(4,6)$   
 $F(4,4)$     $G(6,4)$     $H(6,6)$



五、请你在  $10\times 10$  的方格图中设计一个长为 4、宽为 3 的长方形,再把这个长方形向下平移 3 个单位。(共 10 分)



六、看图回答问题。(共 30 分)

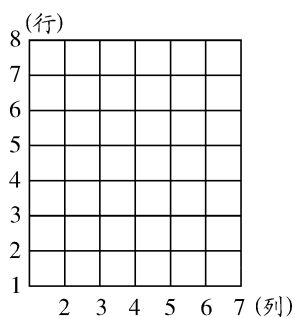


(1)请你描述一下小蝌蚪的位置:①(9,10),它在小蝌蚪③往西 10 m,再往北 10 m 处。②、④、⑤各在③的什么位置呢?

(2)金鱼阿姨在④往西 30 m,再往南 10 m 处。乌龟大叔在金鱼阿姨往东 40 m,再往南 40 m 处,请在图中标出金鱼阿姨和乌龟大叔的位置。

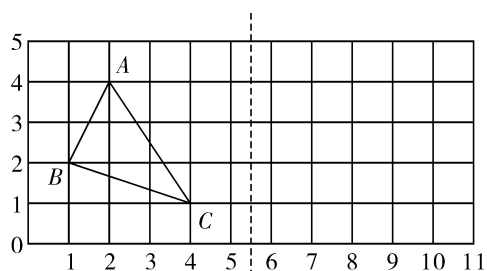
(3)小蝌蚪们找妈妈,见到金鱼阿姨后,路线都是:金鱼→(9,7)→乌龟→荷花→(5,1)→蜻蜓→青蛙。请画出路线图。

七、下面是围棋棋盘的一角。黑棋的位置分别是  $A(3,6), B(4,4), C(1,3), D(4,3), E(5,2)$ ; 白棋的位置分别是  $F(2,2), G(3,3), H(4,2), I(4,1)$ 。(共 10 分)



- (1) 分别用“●”和“○”标出黑棋和白棋的位置。
- (2) 如果下一步该下白棋, 你认为这粒白棋下在什么位置比较合适?

八、先观察下图, 再解答后面的问题。(共 10 分)



画出三角形  $ABC$  的对称图形三角形  $A'B'C'$ , 并标出各顶点的位置。

第八单元综合提优测评卷(B卷)

一、(1,5) (2,3) (3,2)

二、(1)(1,3) 四 四 (2)略 (3)(3,3)

三、1.✓ 2.× 3.× 4.× 5.×

四、略 五、略

六、(1)②(8,9),它在小蝌蚪③往西20m处;④(8,8),

它在小蝌蚪③往西20m,再往南10m处;⑤(9,8),它

在小蝌蚪③往西10m,再往南10m处。

(2)略 (3)略

七、略 八、略