

# 第1单元测评卷

时间：90分钟 满分：100+10分

题序	一	二	三	四	五	六	七	八	九	附加题	总分
得分											

## 一、填空。(27分)

1. 成语“四面八方”中的“四面”指的是( )、( )、( )、( )，“八方”除了“四面”所说的四个方向外，还包括( )、( )、( )、( )。

2. 地图通常是按上( )下( )，左( )右( )绘制的。

3. 太阳早晨从( )方升起，傍晚从( )方落下。燕子每年都从( )方飞往( )方过冬。

4. 王红在泰山山顶上观看日出，她面向太阳，前面是( )面，后面是( )面，左边是( )面，右边是( )面。

5. 芳芳面向东面站着，她向左转，面向( )面，再向右转，面向( )面，再向后转，面向( )面。

6. 根据右图填空。

学校在游乐场的( )面。

超市在文化宫的( )面。

医院在文化宫的( )面。

小明家在学校的( )面。



## 二、判断。(对的画“√”，错的画“×”)(4分)

- 晚上我们面对北极星方向，这时我们的前面是北方。( )
- 只要知道东、南、西、北中任何一个方向，就可以知道其他方向。( )
- 东北方和西北方是相反的方向。( )
- 小玲在小丽的西面，小刚在小丽的东面，则小玲在小刚的东面。( )

## 三、选择。(将正确答案的序号填在括号里)(10分)

- 张明家在学校的东面，他早晨去学校应向( )走。  
A. 南                      B. 西                      C. 东
- 图书馆在邮局的东北面，那么邮局在图书馆的( )面。  
A. 西南                      B. 西北                      C. 东南

3. 三(1)班的黑板在教室的东面,讲课时老师面对着学生,老师面向( )面。

A. 南 B. 西 C. 北

4. 风从东南方向吹来,旗杆上的红旗飘向( )方向。

A. 东北 B. 西南 C. 西北

5. 笑笑从甲地开始走,先向东走了一段路,再向南走了一段路,然后又向东走了一段路,才到乙地。笑笑走的路线应是( )。



#### 四、看图填空。(11分)

1. 有一些小朋友,按下面的顺序排列排练节目。填一填。(6分)

(1) 小军在小山的( )面;( )在小山的南面。

(2) 小严在小山的( )面;小青在( )的北面。

(3) 小华在小山的( )方向;小安在小山的( )方向。

2. (5分)

(1) 医院在文化宫的( )面。

(2) 小玉家的西南方向是( );学校在小玉家的( )方向。

(3) 小强从少年宫向( )方向走到商场,再向( )方向走到小玉家。



#### 五、观察下图并回答问题。(4分)



1. 邮局、商场、饭店和银行都在公园的( )面。

2. 周末,小峰从家出发,先向( )走到小娟家,两人一起向( )方向走到商场买了一些小食品,然后走向( )方向的体育场。

六、下图是同学们从学校放学回家走的路线图,请你标出他们各自的家,填在括号里。

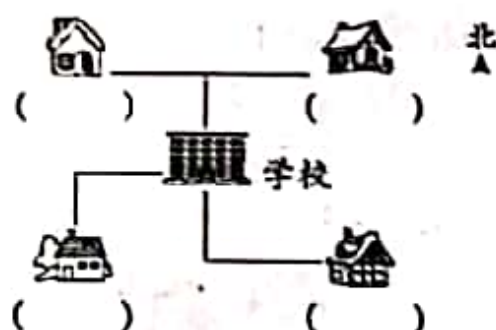
(8分)

林英先向北走,再向东走到家;

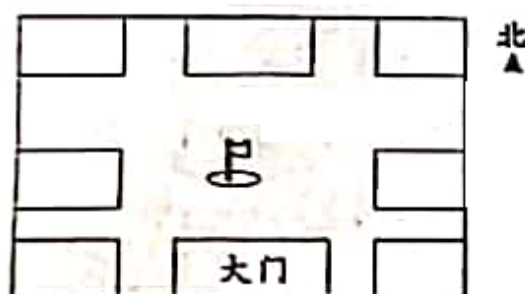
李红先向西走,再向南走到家;

叶欢先向南走,再向东走到家;

刘伟先向北走,再向西走到家。



七、小小设计师。(14分)



“走进大门,旗杆在大门的正北方。旗杆的正北方是教学楼,东侧是体育馆,西侧是艺术楼,多功能教室位于旗杆的东北角,旗杆的东南角是停车场,生态园位于旗杆的西南角,食堂的南面是艺术楼……”根据这段描述,把各建筑物的序号写在相应的位置上。

①教学楼 ②体育馆 ③艺术楼 ④多功能教室 ⑤停车场 ⑥生态园 ⑦食堂

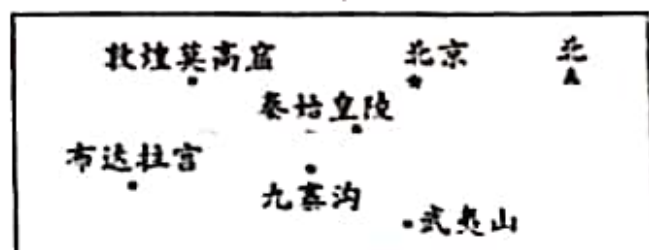
八、完成下面各题。(11分)



1. 小狗在小兔的( )方向,小羊在小猫的( )方向,小兔在小猴的( )方向,小鸡在小兔的( )面,小鸭在小兔的( )面。(5分)

2. 小猫要给其他小动物送信,它怎样走一次就可以送完,并且不重复? 请你在图上用线画出来,并描述出路线。(6分)

# 九、旅游路线。(11分)



1. 武夷山在九寨沟的( )方向。从九寨沟去秦始皇陵, 往( )方向走。(2分)

2. 某旅行社的旅行路线:

从北京出发  九寨沟  敦煌莫高窟  布达拉宫

游完布达拉宫后, 直接乘飞机往( )方向飞回北京。(4分)

3. 小明参加夏令营, 从布达拉宫出发, 然后还要去秦始皇陵和武夷山, 请你帮忙安排一下行走路线。(5分)

## 附加题。(10分)

红红说: “我在丫丫的南面。” 丽丽说: “我在强强的东北方向。” 强强说: “我在红红的西北方向, 小刚的西面。” 小刚说: “我在丫丫的西面, 强强的东面。” 先分析小朋友们的对话, 再在图中标明每个小朋友所在的位置。

