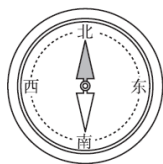


## 姓名

装订线内不要答题

**一、填一填。(3 题 3 分, 其余每空 1 分, 共 15 分)**

(1)



指南针深色指针指向北面，浅色指针指向（ ）面。

(2)



树的年轮较疏的一侧  
向着南面，较密的一  
侧向着（ ）面。

(3)



晚上面对北斗星，  
左面是西面，右面  
是（ ）面。

2. 与东北相对的方向是( ), 与西北相对的方向是( )。
3. 太阳每天从( )方升起, 从( )方落下。早晨, 当你背对太阳时, 面向的是( )方, 这时你的后面是( )方, 左面是( )方, 右面是( )方。
4. 古人说: “一江春水向东流”, 这是说长江之水是由( )方流向( )方。
5. 把手表平放在桌子上, “12” 指向北方, 这时 “6” 指向( )方, “3” 指向( )方。
6. 小红在小丽的东面, 小丽在小红的( )面, 小明在小芳的西南面, 小芳在小明的( )面。
7. 学校在聪聪家的东北方向, 聪聪放学回家应该向( )方向走。

**二、辨一辨。(对的画“√”，错的画“×”)(每题 1 分，共 5 分)**

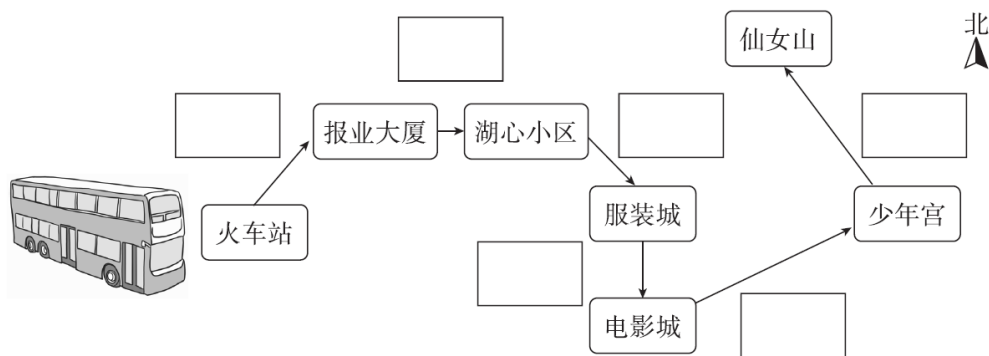
1. 红红和明明背靠背，红红面朝北，那么明明可能面朝南。(     )
2. 冬天来了，燕子从南方飞向北方。(     )
3. 因为聪聪家的窗户朝着南面，所以终年不见阳光。(     )
4. 山坡上积雪融化得快的一面朝着南面，融化得慢的一面朝着北面。  
(     )
5. 早晨，如果你面向北方，那么在你的右边太阳正冉冉升起。  
(     )

**三、选一选。(把正确答案的序号填在括号里)(每题 2 分，共 10 分)**

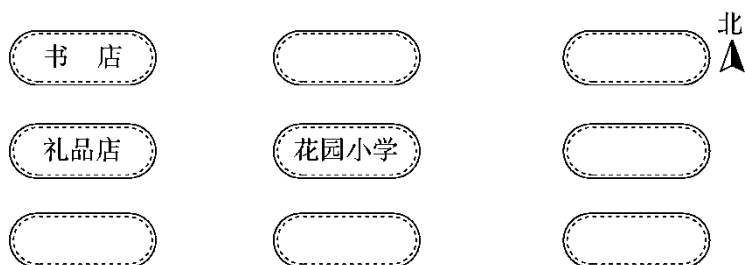
1. 下面是我国古代四大发明之一的是(     )。  
A. 指南针            B. 司南            C. 古代罗盘
2. 晴朗的夜晚，我们可以利用(     )来辨别方向。  
A. 星星            B. 月亮            C. 北斗星
3. 太阳下菲菲的影子在她的东面，太阳在(     )面。  
A. 东            B. 西            C. 南
4. 东东向西走了 10 米，再向右转，现在他面向(     )方。  
A. 东            B. 北            C. 南
5. 刮风时，学校的国旗向西北方向飘，刮的是(     )风。  
A. 东北            B. 西北            C. 东南

**四、我会按要求解答。(每题 10 分，共 30 分)**

1. 随着旅游旺季的到来，公交公司新开了一条专线，在框里写出公交车的行驶方向。



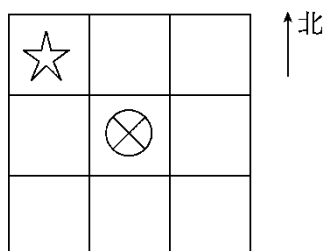
2. 根据小朋友的描述, 把花园小学附近建筑的示意图填完整。



花园小学的南面是超市, 北面是银行, 东面是公交公司, 东南方向是少年宫, 西南方向是邮局, 东北方向是服装城。



3. 画一画, 填一填。




(1) 在⊗的东南面画一个△, 在⊗的西南面画一个○, 在⊗的东北面画一个□。

(2) ☆在⊗的( )面, ⊗在☆的( )面。

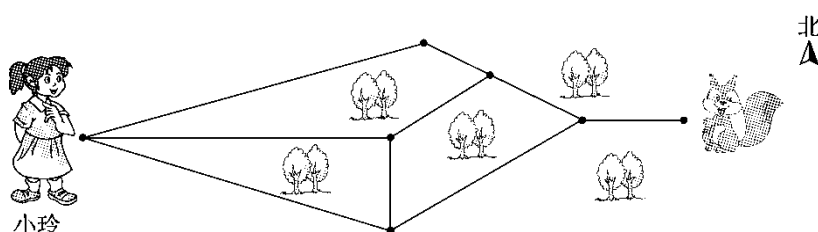
(3) □的西南面有( )和( )。

五、我会看图填一填。(每题 10 分, 共 40 分)

1. 圣诞老人先向( )走, 给玲玲送礼物; 再向( )走, 给波波送礼物; 然后向( )走, 给晶晶送礼物; 最后向( )走, 给帅帅送礼物。



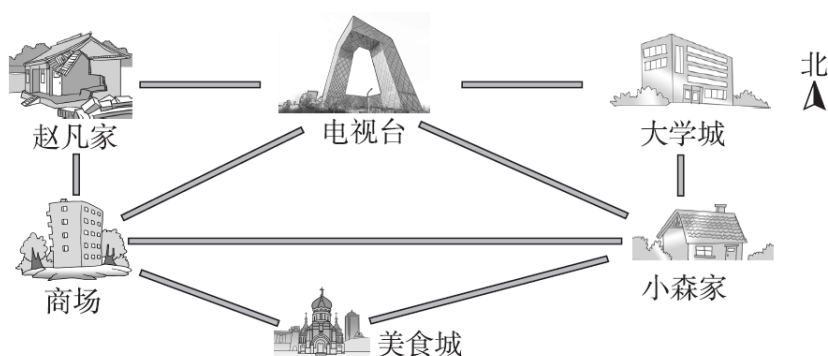
2. 森林里有一只小松鼠受伤了急需救助, 快帮小玲找到它吧!



- (1) 路线 1: 小玲先向( )走, 再向( )走, 最后向( )走, 就可以找到小松鼠。

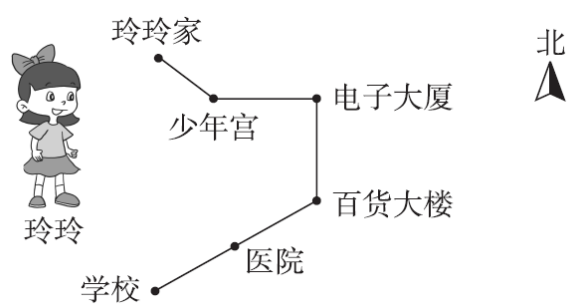
- (2) 路线 2: \_\_\_\_\_

3. 城市一角。

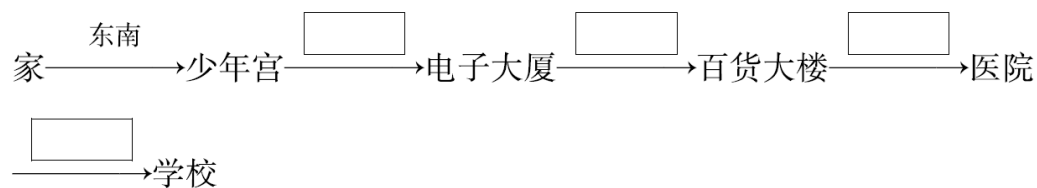


- (1) 赵凡家在电视台的( )面, 电视台在赵凡家的( )面。
- (2) 美食城在小森家的( )方向, 大学城在小森家的( )面。
- (3) 商场的东南方向有( ), 美食城的东北方向有( )。

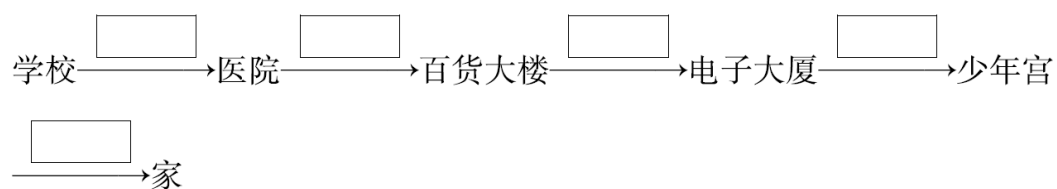
4.



(1)玲玲上学的路线是



(2)玲玲放学的路线是



## 答案

一、1.(1)南 (2)北 (3)东

2. 西南 东南 3.东 西 西 东 南 北

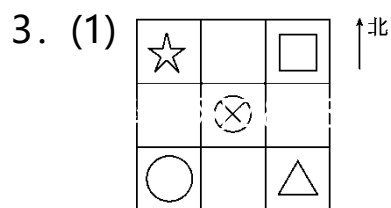
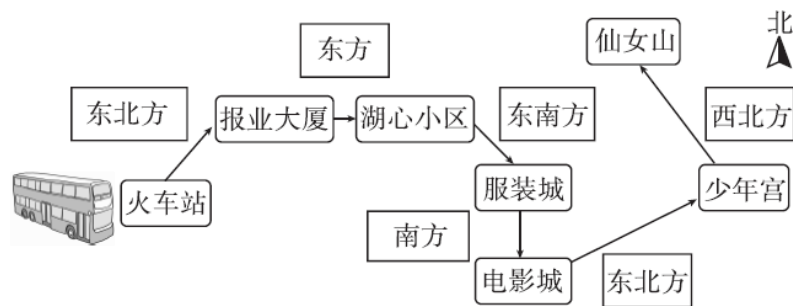
4. 西 东 5.南 东

6. 西 东北 7.西南

二、1.× 2.× 3.× 4.√ 5.√

三、1.A 2.C 3.B 4.B 5.C

四、1.



(2)西北 东南 (3) ⊗ ○

五、1.西北 西南 西北 东北

[点拨] 要找准观察点，观察点不同，方向就可能不同。

2. (1)东北 东南 东(前两个空答案不唯一)

(2)小玲先向东南走，再向东北走，最后向东走，就可以找到小松鼠。(答案不唯一)

3. (1)西 东 (2)西南 北

(3)美食城 小森家、大学城

4. (1)东 南 西南 西南

(2)东北 东北 北 西 西北