

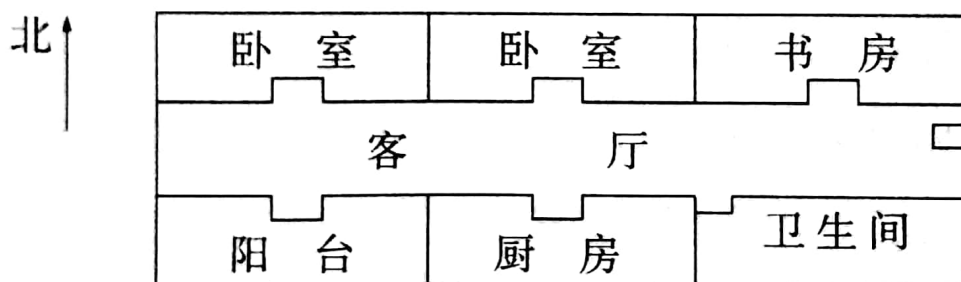
第一单元闯关测试密卷

(时间: 90分钟 总分: 100分)

题号	一	二	三	四	五	总分	等级
得分							

一、请你认真填一填。(每空 1 分, 共 14 分)

1. 地图一般是按()北,()南,()西,()东绘制成的。
2. 清晨, 当你面对太阳时, 你的前面是(), 后面是(), ()是南, ()是北。
3. 下面是王丽家的平面图。



- (1) 厨房在客厅的()面, 客厅的北面是()。
- (2) 阳台的北面是(), 阳台的东面是()。
- (3) 书房在王丽家的()角, 阳台在王丽家的()角。

二、请你仔细算一算。(共 18 分)

1. 直接写得数。(12 分)

$20 \times 6 =$

$400 \times 3 =$

$450 - 80 =$

$15 \times 2 =$

$9 \times 9 =$

$49 + 56 =$

$250 - 99 =$

$70 \times 6 =$

$4 \times 5 + 5 =$

$5 \times 8 - 6 =$

$10 \times 2 - 10 =$

$30 - 3 \times 7 =$

2. 列式计算。(6 分)

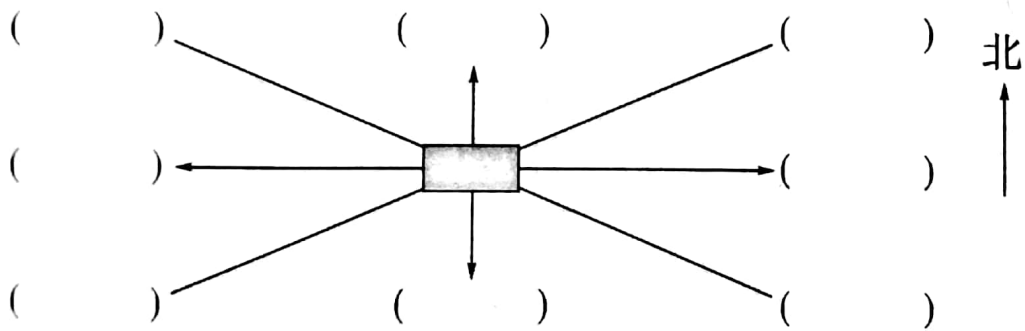
(1) 50 个 7 相加和是多少?



(2) 108 的 6 倍是多少?



(3) 280 减去 130 与 50 的和, 差是多少?



三、请你画一画, 标一标。(共 23 分)



1. 标出东、南、西、北四个方向, 并画一画。(8 分)



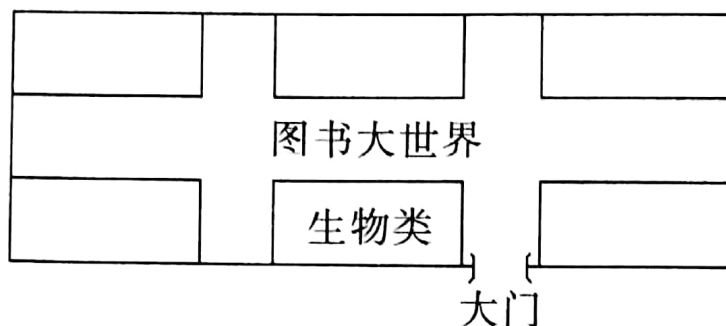
在  的东南方向的括号里画个“”;

在  的西北方向的括号里画个“”;

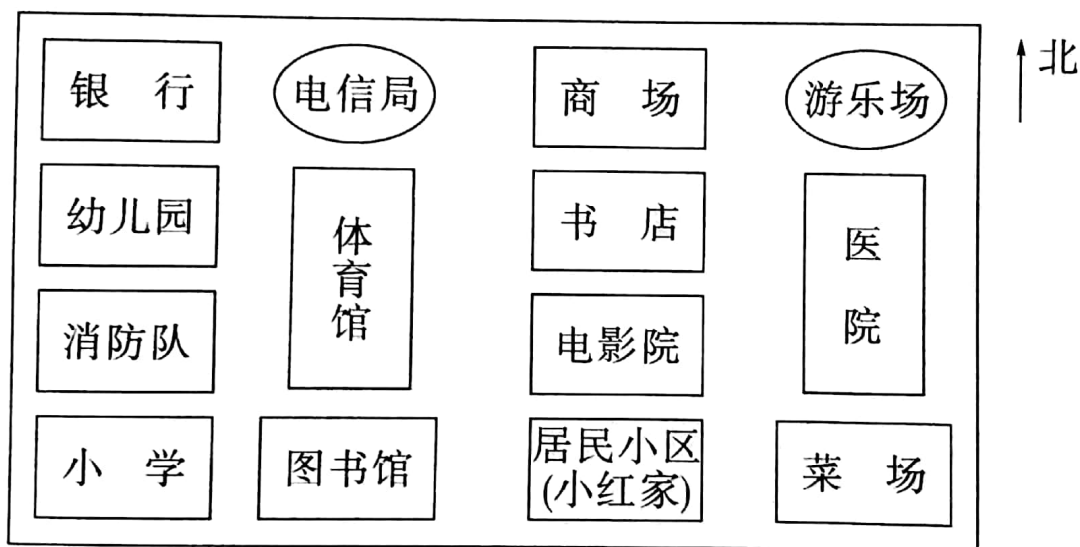
在  的东北方向的括号里画个“”;

在  的西南方向的括号里画个“”。

2. 在图书大世界的展厅里,正南面摆放的是生物类,正北面摆放的是科技类,西北角和西南角摆放的是童话类和神话类,历史类和故事类书籍在展厅的东北、东南角,你能把它们分别标在图中适当的位置吗?(15分)



四、解决问题。(共 27 分)




1. 银行在小红家的什么方向? 商场在小红家的什么方向?(6分)
2. 小红从家经过小学,再去幼儿园应该怎么走?(6分)

3. 星期天,小红到游乐场去玩,应该向什么方向走?(6分)

4. 有一天,小红所在的居民小区不幸失火了,小红急忙打 119 火警电话,消防员叔叔让小红说出小区的位置。如果你是小红,你该怎样引导消防队员迅速赶到出事地点?(9分)

五、请你设计。(18分)

请你设计一座儿童活动中心。(活动中心里有动画城、科技馆、游戏屋、太空城、阅览室、健身馆)



第一单元闯关测试密卷

一、1. 上 下 左 右 2. 东 西 右面 左面

3. (1)南 卧室和书房 (2)客厅 厨房 (3)东北 西南

二、2. (1)350 (2)648 (3)100

四、1. 西北 北面 2. 出了小区门向西走,再往北走。 3. 出了小区往北走,再往东走。
(答案不唯一)