

第一单元同步练习——位置与方向（一）

一、填一填。

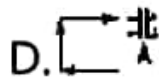
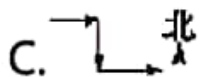
- 1.小丽面向北站着，她的右面是（ ），左面是（ ）。
- 2.南风是指从（ ）面向（ ）面刮的风。
- 3.李明早上去上学，刚开始面向着太阳走，到一个路口时他向左转，朝着（ ）面走，又到一个路口时他向右转，朝着（ ）面走到学校。
- 4.如下图，超市在街心花园的（ ）方向；超市的（ ）面是饭店；从街心花园往（ ）方向走就是旅游路。



- 5.小红家在小丽家的东北方向，小丽家在小红家的（ ）方向。

二、选一选。

- 1.学校大门朝南开，且大门正对着教学大楼，教学大楼在大门的（ ）。
A.东面 B.西面 C.北面 D.南面
- 2.明明发现自己的影子在东面，那么现在太阳在（ ）。
A.东面 B.西面 C.南面 D.北面
- 3.冬冬去小树林散步，他先向东走了一段路，又向南走了一段路，然后又向东走了一段路，冬冬行走的路线是（ ）。



4. 小英座位的西南方向是小明的座位，那么小英坐在李明的（ ）
方向。

A.东南 B.西北 C.东北 D.西南

三、判断。



1. 科学实验室在形体教室的南面。（ ）

2. 美术教室在乒乓球馆的西面。（ ）

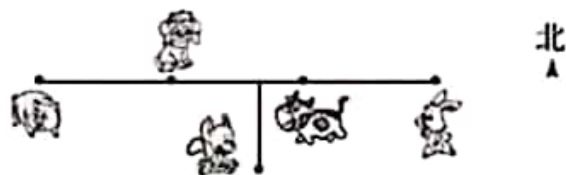
3. 音乐教室在主楼的北面。（ ）

4. 计算机教室在主楼的西面。（ ）

5. 乒乓球馆在主楼的东北方向。（ ）

四、看图回答问题。

1.

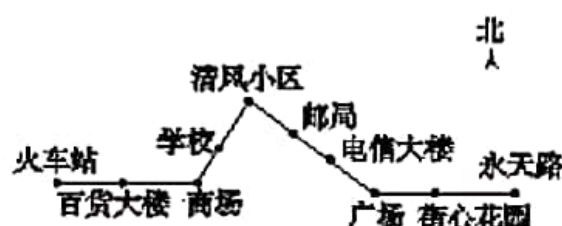


(1) 小狗在小猪的（ ）面，在小牛的（ ）面。

(2) 如果小兔去找小老鼠玩，它要先向（ ）走，再向（ ）
走。

(3) 小老鼠要走到小猪的位置, 可以先向 () 走, 再向 () 走。

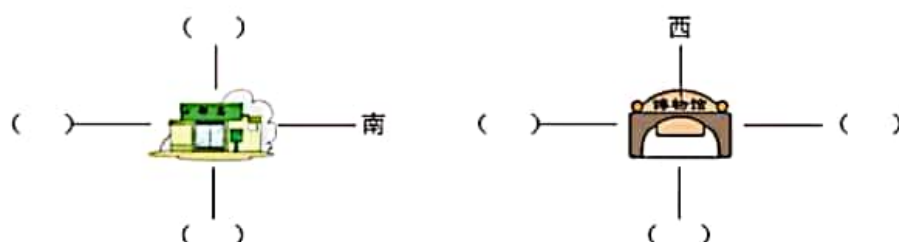
2.



某路公交车的行驶路线图 (火车站→永天路): 从火车站出发, 先向 () 面行驶 () 站到商场, 再向 () 方向行驶 () 站到清风小区, 然后向 () 方向行驶 () 站到广场, 最后向 () 面行驶 () 站到永天路。

五、按要求完成下面各题。

补充图中的方向。



六、在正确答案前面的 ☐ 里画 “√”。

8路 火车站—五星城

首车 6:00

末车 20:00

五星城 少年宫 天环路 北门 鼓楼 解放门 大光路 人民路 中山路 火车站

票价: 1元

北
▲

8路 五星城—火车站

首车 6:00

末车 20:00

五星城 少年宫 天环路 北门 鼓楼 解放门 大光路 人民路 中山路 火车站

票价: 1元

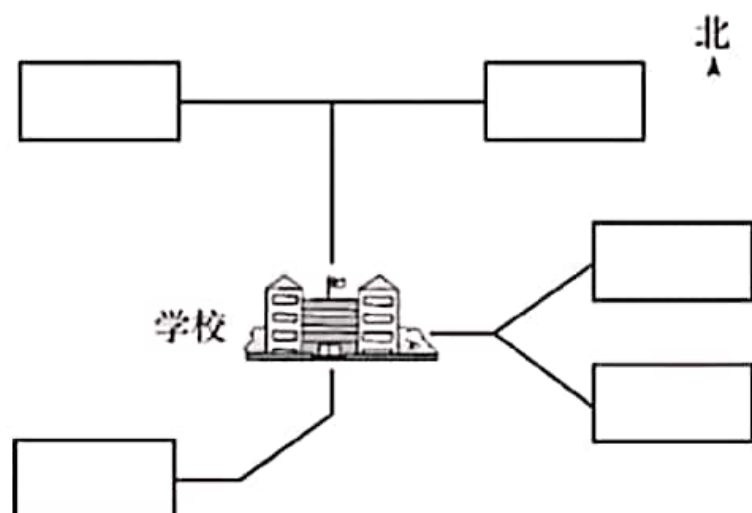
1. 小文在解放门，他想去少年宫，应该在哪个站牌下等车？

☐北面的站牌 ☐南面的站牌

2. 小莉在解放门，她想去中山路，应该在哪个站牌下等车？

☐北面的站牌 ☐南面的站牌

七、有五名同学，放学时从学校回家，小明先向北面走，再向西面走回到了家；小亮先向东面走，再向东南方向走回到了家；小敏先向南面走，再向西南方向走，然后向西面走回到了家；小芳先向东面走，再向东北方向走回到了家；小涛先向北面走，再向东面走回到了家。请在 ☐ 里标出他们各自的家。



参考答案

一、1.东 西

2.南 北

3.北 东

4.西北 东 东南

5.西南

二、1.C 2.B 3.C 4.C

三、1.√ 2.× 3.× 4.× 5.×

四、1. (1) 东 西 (2) 西 南 (3) 北 西

2.东 2 东北 2 东南 3 东 2

五、上: 东 左: 北 下: 西

左: 南 下: 东 右: 北

六、1. ☒北面的站牌

2. ☒南面的站牌

七、

