

达标测试卷

题号	一	二	三	四	五	总分
得分						

一、填一填。(18分)

- 早上起来,我们面向太阳,前面是()面,后面是()面,左面是()面,右面是()面;下午,当你面向太阳时,你的前面是()面,后面是()面,左面是()面,右面是()面。
- 地图通常是按上()、下()、左()、右()绘制的。
- 若小丽站在小芳的东面,同时又站在小明的西面,则小芳站在小明的()面,小明站在小芳的()面。
- 当你面向北极星时,你的前面是()面,后面是()面,左面是()面,右面是()面。

二、判断。(对的画“√”,错的画“×”)(8分)

- 风从北方吹来,彩旗飘向北方。()
- 指南针是我国古代的四大发明之一。()
- 野外迷了路,可以看大树,树叶茂盛的一面是南面。()
- 明明家在电影院东面100米,王雪家在电影院西面50米,明明家与王雪家相距50米。()

三、选择。(将正确答案的序号填在括号里)(6分)

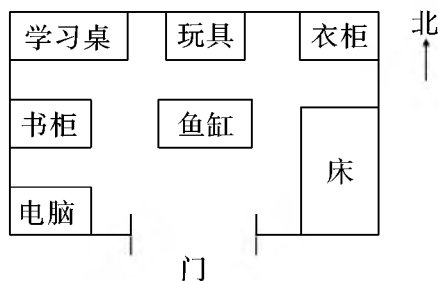
- 晴朗的白天到郊外去旅游,()能帮你辨别方向。
A. 月亮 B. 太阳 C. 小草
- 晴朗的夜晚,我们用()来辨别方向。
A. 月亮 B. 太阳 C. 北极星
- 树的年轮较密的地方向着()面。
A. 东 B. 北 C. 西

4. 无论把指南针的罗盘怎样转动,静止后,指针总是一头指向北面,另一头指向()面。
- A. 南 B. 东 C. 西
5. 西南方在()之间。
- A. 南方和北方 B. 东方和西方 C. 西方和南方
6. 东南方与西南方之间的方向是()方。
- A. 南 B. 西 C. 东

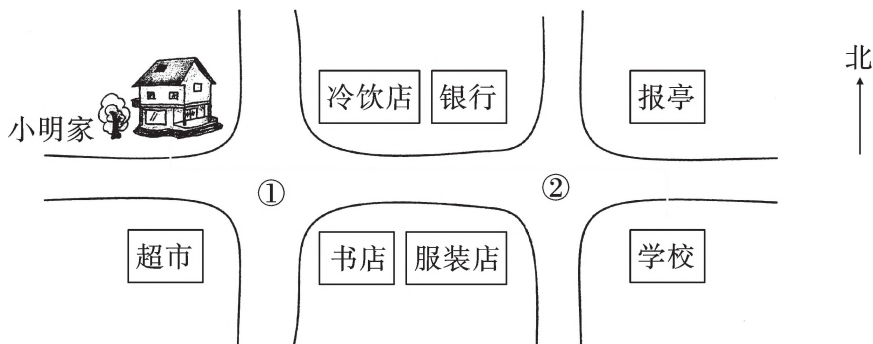
四、完成下面各题。(共 41 分)

1. 看图填一填。(7 分)

- (1)小芳卧室的门朝向()面。
- (2)学习桌在卧室门的()角,衣柜在卧室门的()角。
- (3)书柜在电脑的()面,在学习桌的()面。
- (4)玩具在学习桌的()面,在鱼缸的()面。

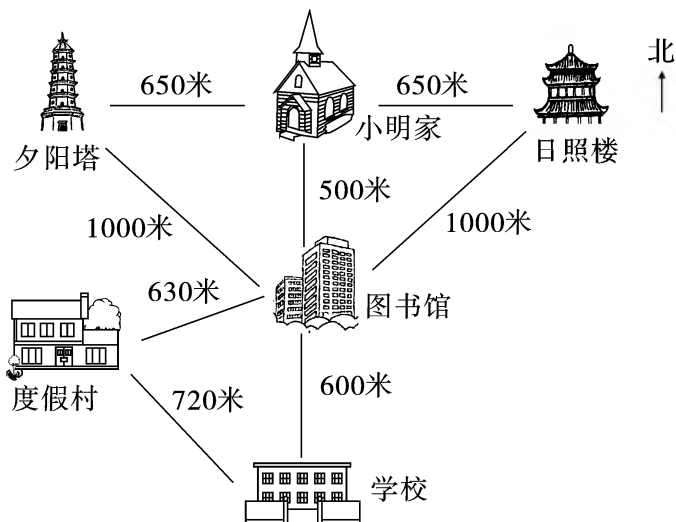


2. 看图说一说。(10 分)



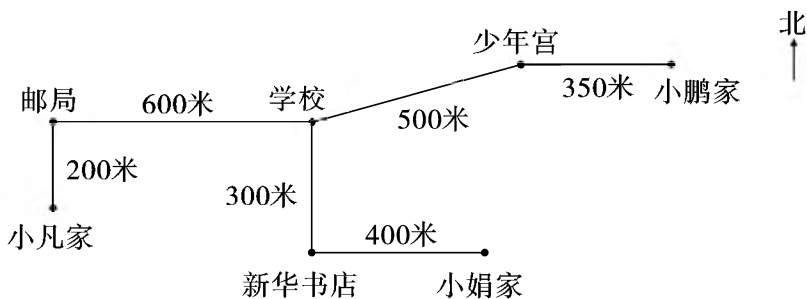
- (1)银行在第②个十字路口的()角,第②个十字路口的东南角是()。
- (2)书店在第①个十字路口的()角,超市在第①个十字路口的()角。
- (3)冷饮店在小明家的()面,超市在小明家的()面。
- (4)在图上标出小明上学的路线。
- (5)你还能提出什么问题? 自己提一提并解答。

3. 看路线图,填一填,写一写。(12 分)



- (1) 学校到日照楼的路线:先向()面走()米到图书馆,再向()方向走()米到日照楼。(4 分)
- (2) 小明家到度假村的路线:先向()面走()米到图书馆,再向()方向走()米到度假村。(4 分)
- (3) 夕阳塔在图书馆的()方向,学校在度假村的()方向。
(2 分)
- (4) 小明想从夕阳塔去度假村,请写出他的行走路线。(2 分)

4. 五一期间,小凡和小娟约好去小鹏家。(12 分)



- (1) 请写出他们俩分别从家出发去小鹏家的路线。

(2) 谁家离小鹏家近? 近多少米?

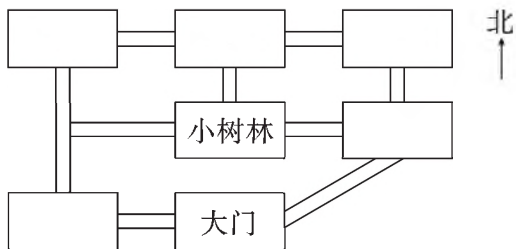
五、操作乐园。(共 27 分)

1.



小丽

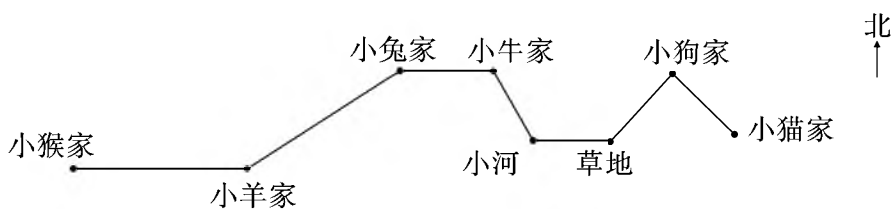
猴山在小树林的西北角, 水族馆在小树林的东北角, 熊猫馆在小树林的北面, 飞禽馆在小树林的东面, 虎山在小树林的西南角。



(1) 根据小丽的描述填空。(10 分)

(2) 小丽从大门进去, 想到小树林玩, 她可以向()方向走, 再向()面走。(4 分)

2. (创新题) 下面是小狗回家的路线。(13 分)



我在小猴家, 我该怎么走才能回到家呢? 谁来帮帮我。