

第一单元全能测试卷

时间:90 分钟

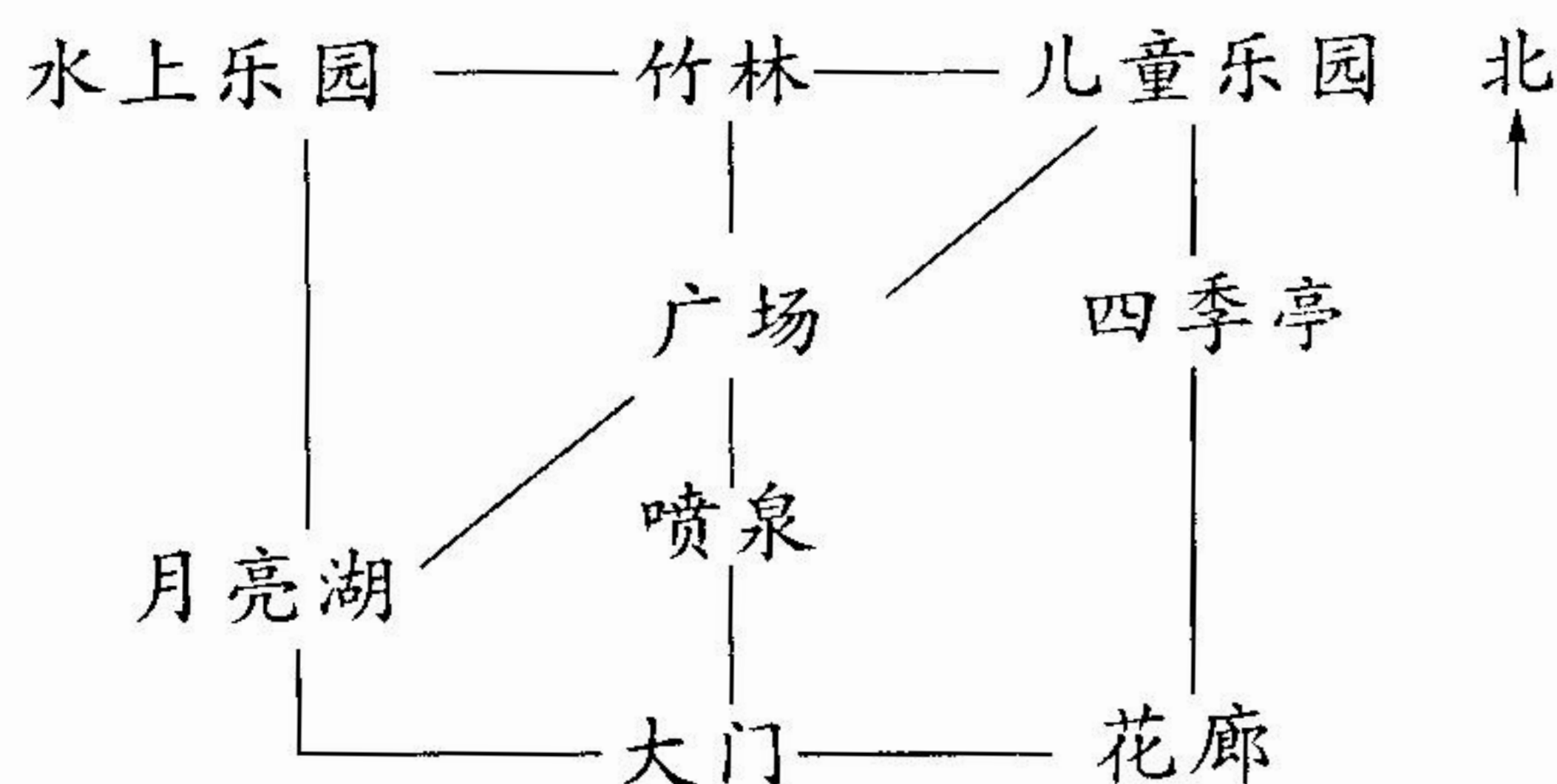
满分:100 分

题 号	一	二	三	四	五	六	七	总 分
得 分								

一、开动脑筋,认真填空。(8 分)

1. 在东南西北中,()与()相对,()与()相对。
2. 黄昏,当你面对太阳时,你的后面是(),左面是(),右面是()。
3. 学校在明明家的东南面,那么明明家就在学校的()面。

二、认真思考,仔细判断。(3 分)



1. 竹林在儿童乐园的西面。()
2. 月亮湖在广场的东北面。()
3. 喷泉的西北角是四季亭。()

三、仔细分辨,合理选择。(10 分)

1. 学校大门朝南开,大门正对着教学大楼,教学大楼在大门的()。
 - A. 东面
 - B. 西面
 - C. 北面
 - D. 南面
2. 小华面向东站着,他向左转,又向后转,这时他面向()方。
 - A. 东
 - B. 西
 - C. 南
 - D. 北
3. 张立放学回家往东走,学校在他家的()。
 - A. 东面
 - B. 西面
 - C. 南面
 - D. 北面
4. 在一个十字路口处,分别有四家工厂,玩具厂在路口的西北面,童装厂在玩具厂的斜对面,童装厂在路口的()。
 - A. 东南面
 - B. 西南面
 - C. 东北面
 - D. 西北面

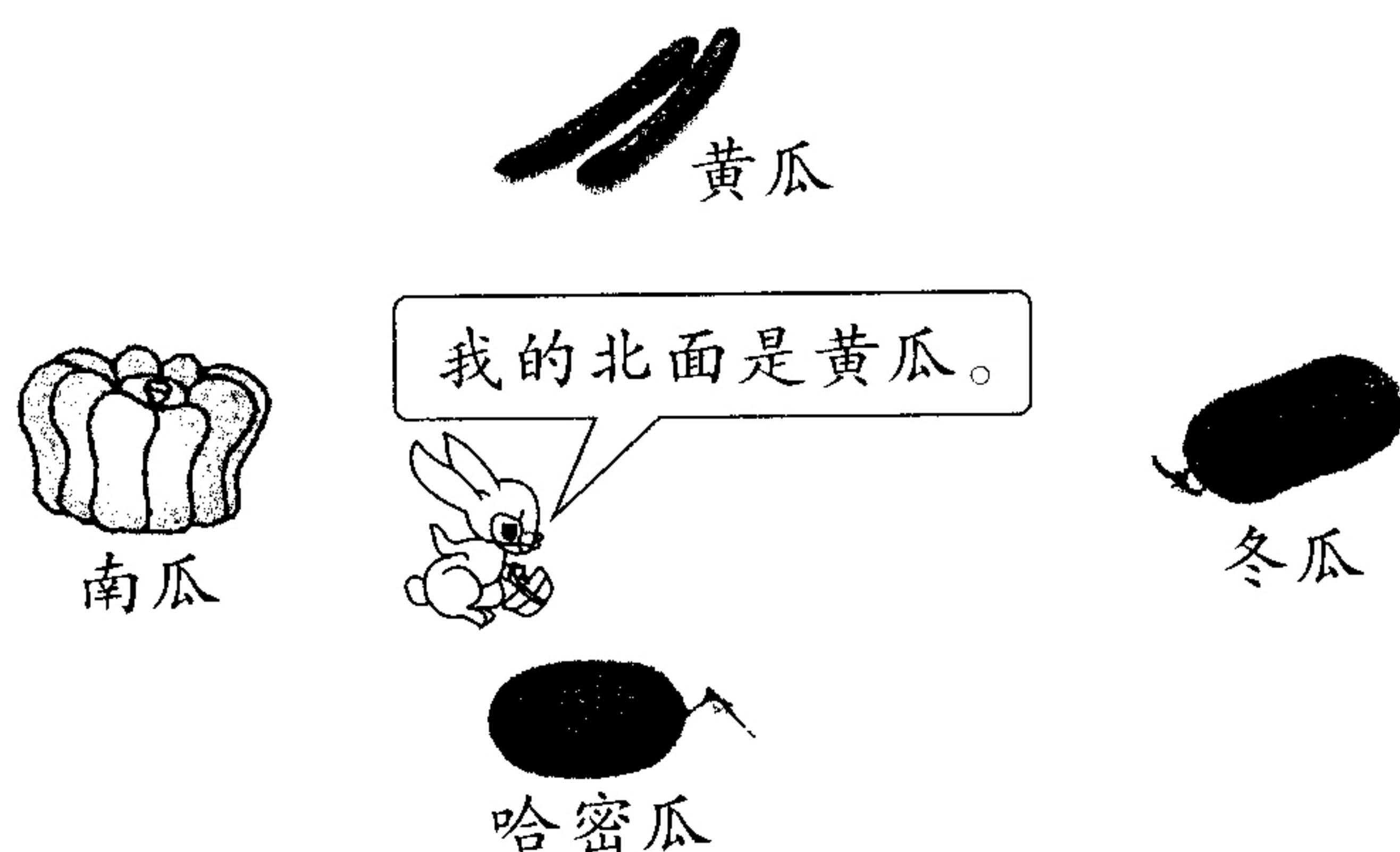
5. 如下图,小雨站在沙坑边,她应该向()方向走才能到达树林。

- A. 东南 B. 西南 C. 东北 D. 西北



四、看图填空。(共 49 分)

1. (7 分)




(1) 小兔的南面是(),东面是(),西面是()。

(2) 小兔在黄瓜的()面,南瓜的()面,哈密瓜的()面,冬瓜的()面。

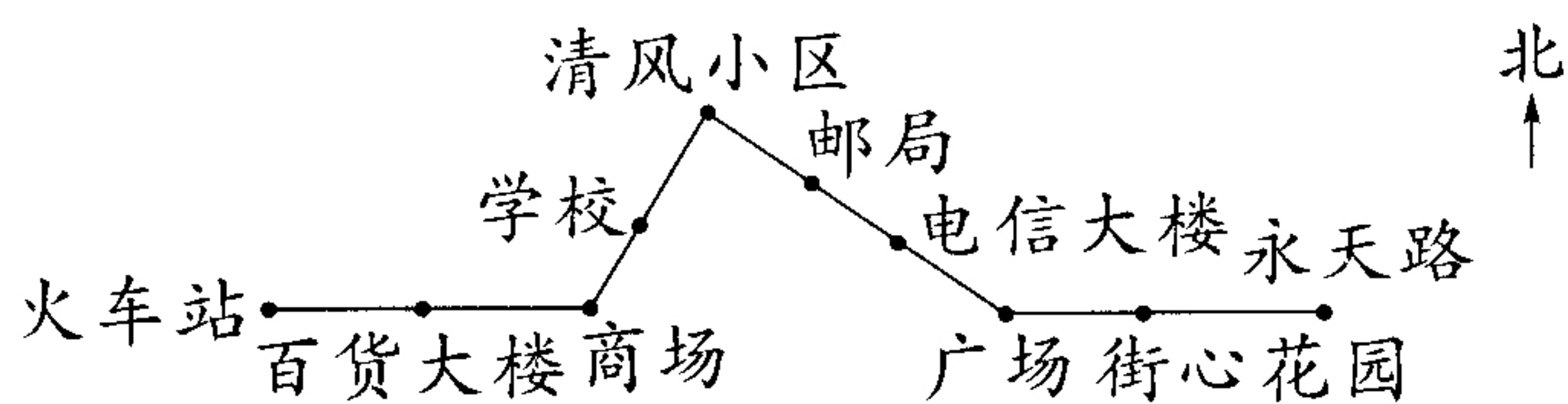
2. (1) 小熊去小兔家应先向()走,再向()走;去小猪家应先向()走,再向()走;去小马家应先向()走,再向()走。(6 分)

(2) 如果图上每一格的边长都是 100 米,小猪去小熊家至少需要走多少米?

(5 分)

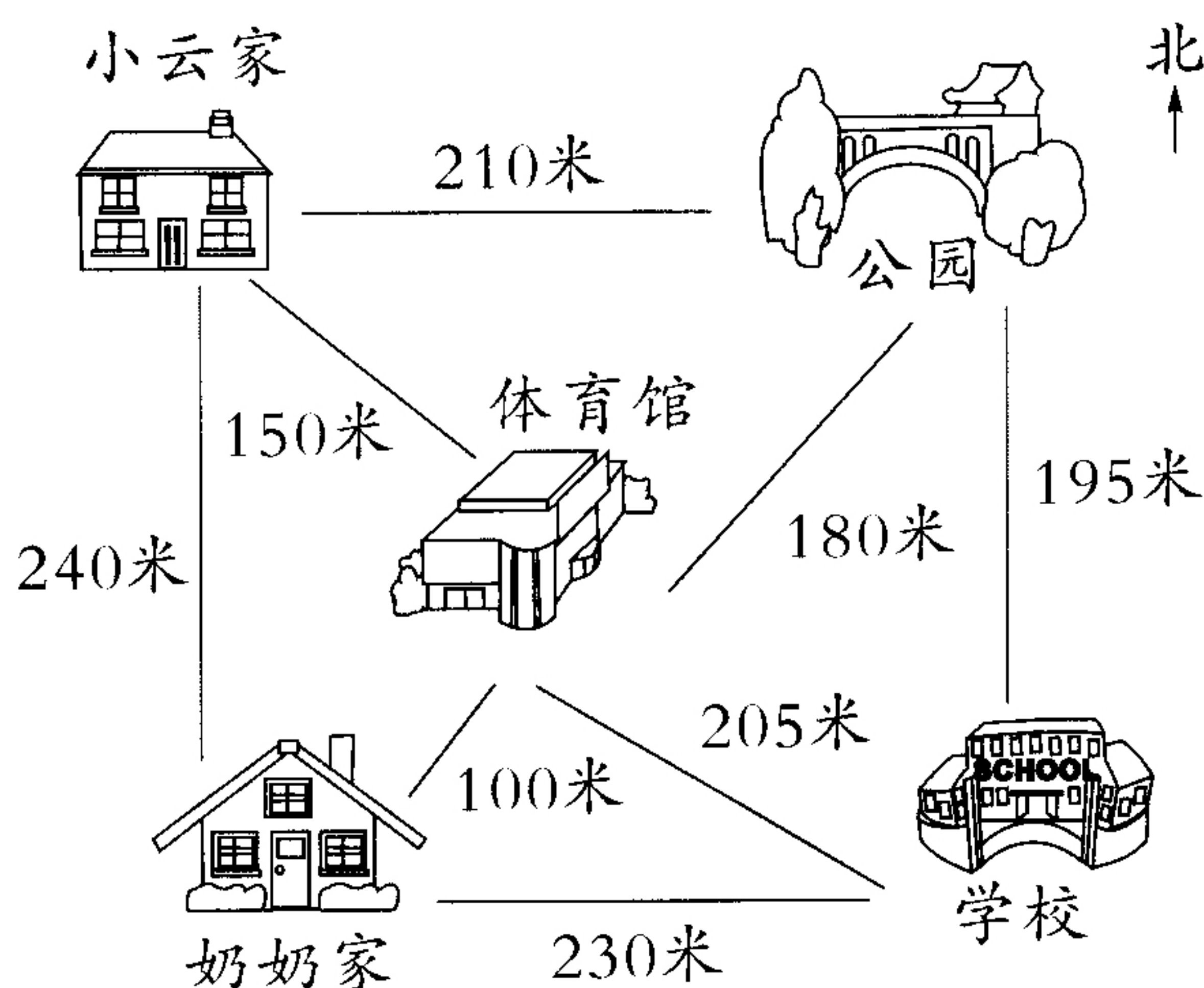


3.



从火车站坐车先向()行驶()站到商场,再向()方向行驶()站到清风小区,再向()方向行驶()站到广场,最后向()行驶()站到达永天路。(12分)

4.



(1)小云从家出发,向()走()米到达体育馆,再向()走()米到达学校。(4分)

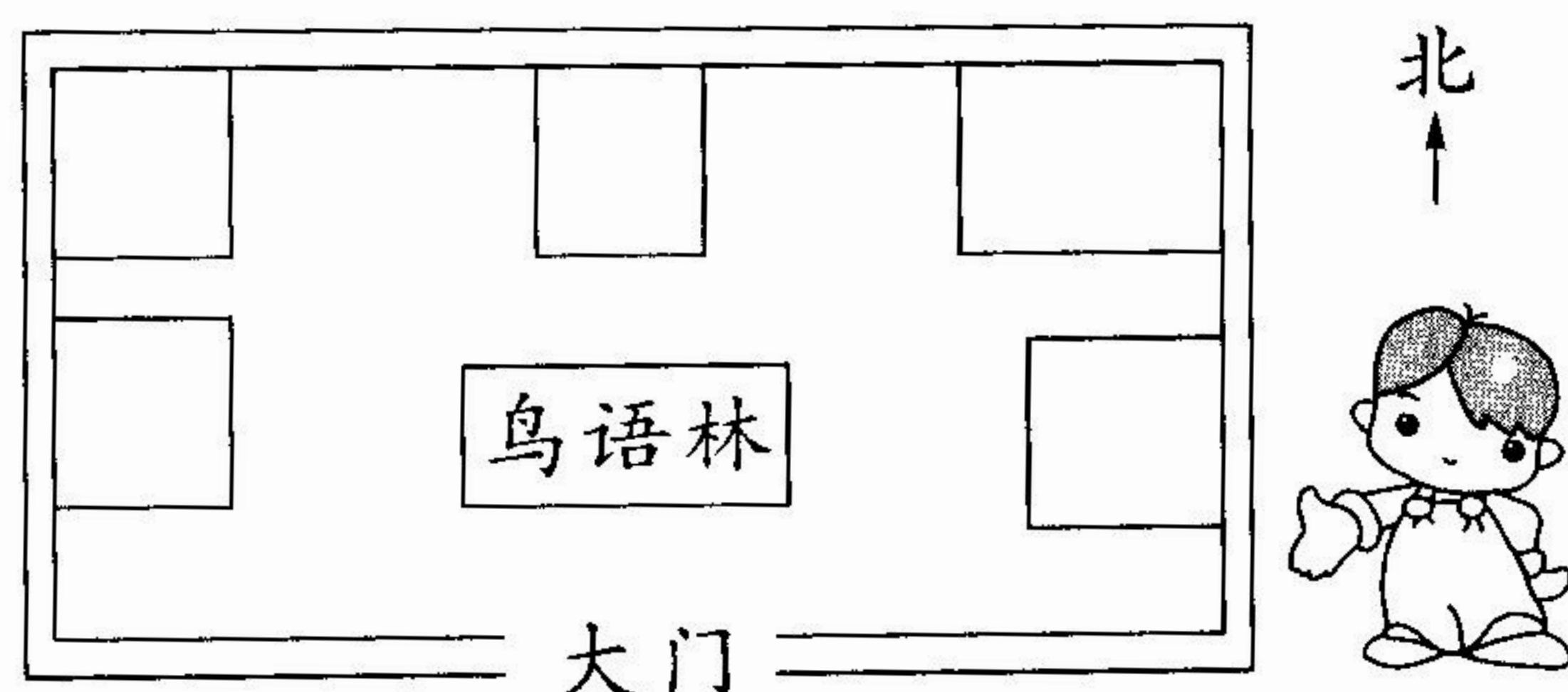
(2)小云放学从学校出发,向()走()米到达公园,再向()走()米到家。(4分)

(3)小云去上学,如果她要先到奶奶家,该怎样走?(写明方向)(6分)

(4)小云去上学,走最近的路是多少米?(5分)

五、标位置。(10 分)

“走进动物园,正北面有鸟语林和孔雀馆。鸟语林的东侧是猴子馆,西侧是蛇馆。狮子馆和老虎馆分别在动物园的东北角和西北角……”根据题中的描述,把这些动物馆舍用序号标在适当的位置上。



孔雀馆

①



猴子馆

②



蛇馆

③



狮子馆

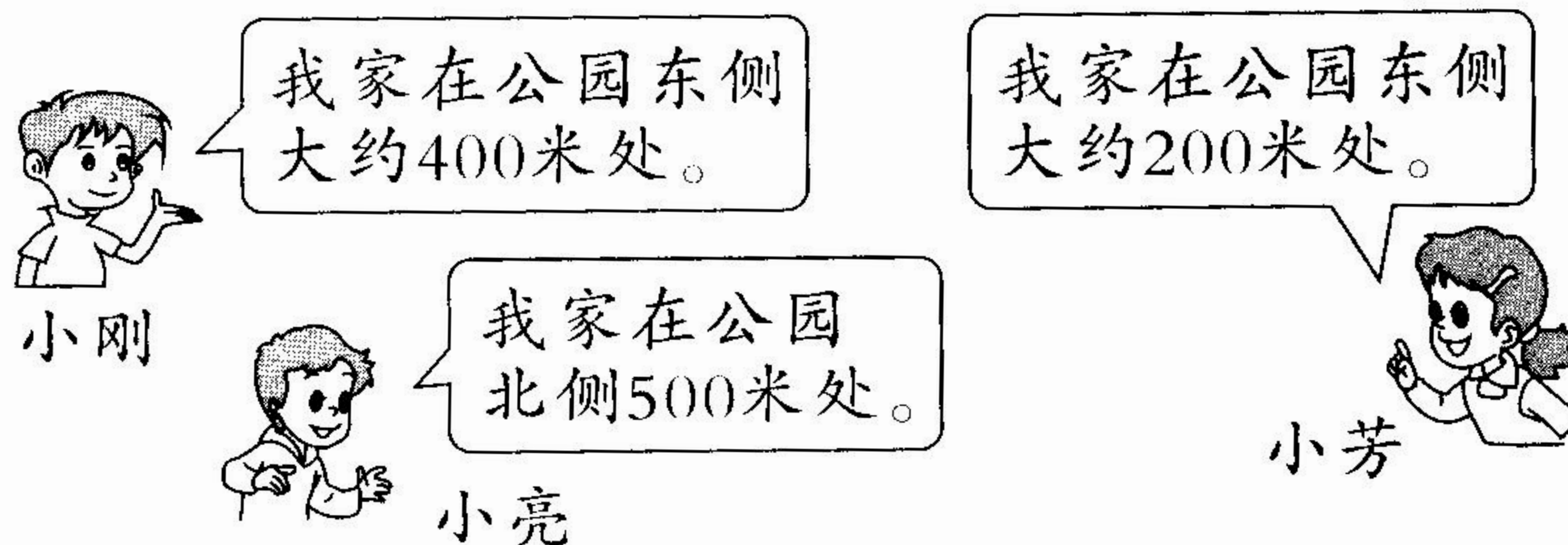
④



老虎馆

⑤

六、根据小刚、小亮和小芳的描述回答问题。(共 10 分)



1. 小刚家和小芳家距离多少米?(5 分)

2. 从小亮家途经公园到小刚家要走多少米?(5 分)

七、智慧乐园。(10 分)

小老鼠从家里出发去给大家送水果。它先向西走了 200 米,又向东走了 50 米,最后到达大象家。它现在离家有多远?