

学校\_\_\_\_\_ 姓名\_\_\_\_\_ 准考证号\_\_\_\_\_

考生须知

1. 本试卷共 10 页，共两部分，34 道小题。满分 90 分。考试时间 90 分钟。
2. 在试卷和答题卡上准确填写学校名称、姓名和准考证号。
3. 试题答案一律填涂或书写在答题卡上，在试卷上作答无效。
4. 在答题卡上，选择题用 2B 铅笔作答，其他题用黑色字迹签字笔作答。
5. 考试结束，请将本试卷、答题卡和草稿纸一并交回。

第一部分 选择题（共45分）

本部分共 30 小题，每小题 1.5 分，共 45 分。在每小题列出的四个选项中，选出最符合题目要求的一项。

1. 以下文物可以用来研究“中国稻作农业起源”的是



A. 北京人使用的石器



B. 河姆渡遗址出土的骨耜



C. 半坡遗址出土的石铲



D. 二里头遗址出土的绿松石铜牌

2. 右图是 20 世纪 70 年代河北平山三汲村中山王墓出土的战国银首人俑铜灯。铜人一派宽袖深衣的中原打扮，但高颧扁脸，浓眉短须，是典型的古代北方狄人的“男子汉”。这件文物可以用来说明战国时期



- A. 中原与周边地区的民族交融
  - B. 中山国确立了中央集权制度
  - C. 铁制农具和牛耕的普遍推广
  - D. 各国间战争规模进一步扩大
3. 某同学整理战国时期诸子百家的政治主张，其中对应正确的是
- A. 道家——主张兼爱，非攻
  - B. 儒家——施行仁政
  - C. 墨家——加强中央集权
  - D. 法家——实行“礼治”

4. 2013年,甲骨文首次进入《国家珍贵古籍名录》。甲骨文入选的理由应是

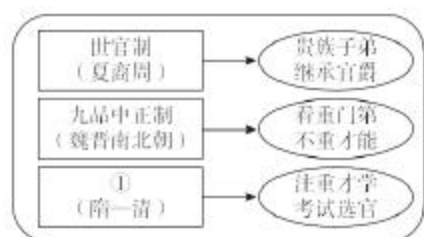
- A. 为商朝历史提供了可靠的证据  
B. 对于研究儒家思想有重要意义  
C. 记载西汉人对秦朝灭亡的反思  
D. 有力证明西汉初已发明造纸术

5. “鲜卑的穆、陆、贺、刘、楼、于、嵇、尉八姓,‘一同’汉族的卢、崔、郑、王四姓,彼此联姻,将胡汉贵族集结为一个统治集体。”以上材料描述的是

- A. 文景之治的成果  
B. 王莽改制的原因  
C. 孝文帝改革影响  
D. 贞观之治的表现

6. 右侧示意图①处应填入

- A. 皇帝制度  
B. 察举制度  
C. 刺史制度  
D. 科举制度



7. “商旅往返,船乘不绝”,对隋唐时代南北经济、文化交流,维护全国统一和加强中央集权,都起了积极的促进作用。”上文介绍的中国古代工程是

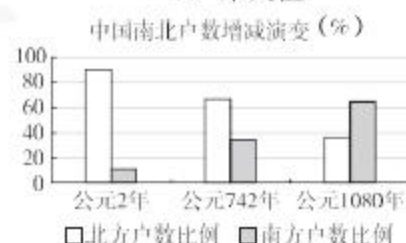
- A. 都江堰  
B. 灵渠  
C. 大运河  
D. 长城

8. 有诗咏唱某位皇帝的文治武功:“一统早收南越地,六经始重圣人书。求言帝度容方朔,问道儒官用仲舒。”这位皇帝是

- A. 秦始皇  
B. 汉武帝  
C. 唐玄宗  
D. 宋太祖

9. 右表可以用来说明

- A. 商品经济发展  
B. 耕地面积增加  
C. 海外贸易兴盛  
D. 经济重心南移



10. 某历史学习小组筹划人物成就展,展品包括明朝农具、手工业工具模型,及纺织、制瓷等工艺流程示意图。这一展览的主题人物是

- A. 祖冲之  
B. 贾思勰  
C. 李时珍  
D. 宋应星

11. 清朝前期,中央政府采取了一系列措施加强对边疆地区的管理。清朝政府对右图①区域采取的措施是

- A. 册封宗教首领  
B. 设置西域都护  
C. 派遣公主和亲  
D. 由宣政院管辖



12. 王朝末期往往会爆发大规模农民起义。下列农民起义按时间顺序排列正确的是

- ①太平天国运动  
②黄巾起义  
③陈胜、吴广起义  
④李自成起义  
A. ①②③④  
B. ②③①④  
C. ③②④①  
D. ④②①③

13. 以下示意图从某个角度反映了中国近代民族危机的不断加深，其中①应为



- A. 增开天津为商埠  
B. 赔偿日本兵费白银 2 亿两  
C. 允许日本在通商口岸开设工厂  
D. 划定北京东交民巷为使馆界

14. 右图是某历史论著的目录，本节的题目应为

- A. 禁烟斗争  
B. 洋务新政  
C. 维新运动  
D. 辛丑议和

#### 第二节

- 一、借法自强与早期工业化的启动 ..... 118  
二、练海军与海防现代化 ..... 123  
三、“求富”活动与民用企业的兴办 ..... 125  
四、办学堂、遣留学：中国教育现代化的先声 ..... 131

15. 以下我国人民军队发展中的事件，发生在长征途中的是

- A. 南昌起义 军队创建  
B. 会师井冈 巩固摇篮  
C. 遵义会议 转危为安  
D. 七七事变 抗战动员

16. 辽沈战役是解放战争中“三大战役”之一，其影响是

- A. 粉碎国民党军的全面进攻  
B. 揭开人民解放军战略进攻的序幕  
C. 使东北全境得到解放  
D. 人民解放军占领南京

17. 土地改革的完成，消灭了地主阶级封建剥削的土地所有制，从根本上铲除了中国封建制度的根基，带来了农村生产力的解放、农民生产积极性的提高、农业的迅速恢复和发展。上文描述了土地改革的

- A. 背景  
B. 措施  
C. 过程  
D. 影响

18. 下表为新中国的外交举措及其影响，其中搭配正确的一组是

	外交举措	影响
A	1955 年周恩来参加亚非会议	求同存异成为国际交往的基本准则
B	1971 年中国恢复联合国合法席位	新生的人民共和国政权得到巩固
C	1972 年美国总统尼克松访华	中美关系开始走向正常化
D	2001 年中国加入了世界贸易组织	西方外交封锁被打破

19. 2019 年，一位科学家获得了“共和国勋章”。勋章背后，是他 50 多载对杂交水稻研究的执着，对国家粮食安全的守护，对“愿天下人都有饱饭吃”初心的坚守。这位科学家是

- A. 钱学森  
B. 袁隆平  
C. 钟南山  
D. 屠呦呦

20. 2020 年初新冠肺炎肆虐，台企台商踊跃捐款，组织医护团队援助武汉。5 月，国家发展改革委、国务院台办等部门联合印发通知，提出持续帮扶台资企业疫情防控和复工复产的具体措施。以上材料说明

- A. 民族区域自治制度的完善  
B. 海峡两岸同胞的隔绝状态开始改变  
C. 两岸和平统一的初步实现  
D. 两岸同胞携手克服困难，共同发展

21. 某同学查找历史概念时得到以下解释：“反对中世纪崇拜神贬低人的思想，提倡人的尊严和价值，歌颂人的智慧和力量，赞美人性的完美和崇高。”这位同学查找的历史概念是
- A. 人文主义      B. 君主立宪      C. 天赋人权      D. 社会主义
22. 下列各项能够体现《拿破仑法典》特点的是
- ①典型的资本主义社会民法典  
②具有鲜明的革命性和时代性  
③维护了法国封建领主的利益  
④确立了“王权有限”的传统
- A. ①②      B. ①③      C. ②④      D. ③④
23. 综合下表内容，对俄国 1861 年改革和日本明治维新的共同影响描述正确的是

	俄国 1861 年改革	日本明治维新
影响	19 世纪 60—80 年代初期，俄国工业部门向资本主义经营方式转变，诸多轻重工业工厂建立，产生了化学工业等新兴工业部门	1885—1890 年，日本棉纺厂从 20 个增加到 30 个，纱锭从 7 万个增加到 28 万个。日本从棉纺织品进口国变成棉纱出口国

- A. 建立了资产阶级民主制度      B. 实现了国家的工业化  
C. 保留了大量的旧制度残余      D. 促进了近代工业发展
24. 牛顿开启了一个伟大的时代。下列选项中属于牛顿贡献的是
- A. 创立微积分学      B. 发表《物种起源》  
C. 发现镭元素      D. 发明电动机
25. 俄国苏维埃政权在采取直接向社会主义过渡的尝试失败后，转而利用市场、商品、外资等方式维护工农联盟，巩固苏维埃政权。这表明苏俄政府正在推行
- A. 战时共产主义政策      B. 新经济政策  
C. 农业集体化      D. 高度集中的指令性计划
26. “政府告知农场主能种什么和不能种什么；要求雇主必须面对工会；为银行提供保险；监督和管制股票市场；通过建造水利发电站大坝、森林修复等改变了美国的地理自然环境。”与上文所述形势相关的是
- A. 废除奴隶制      B. 罗斯福新政  
C. 法西斯道路      D. 杜鲁门主义
27. 右侧漫画创作的背景是
- A. 凡尔登战役结束  
B. 德军进攻斯大林格勒  
C. 盟军成功登陆诺曼底  
D. 雅尔塔会议召开



据原图改绘。原图发表于 1942 年 9 月 29 日美国某刊物



28. 以下各项对马歇尔计划的目的叙述正确的是
- 成立一个新的集体安全组织，遏制侵略发生
  - 促进苏联经济的发展及保障苏联的国家安全
  - 用美国的经济援助，稳定欧洲的资本主义秩序
  - 通过建立军事同盟，与社会主义阵营全面对抗
29. 第二次世界大战后，欧美国家政府筹划调整国内不同阶级、阶层之间的关系，以保证有比较稳定的政治秩序和国内经济发展环境，为此它们
- 缔结关税及贸易总协定
  - 成立了不结盟运动
  - 注重发挥联合国的作用
  - 建立社会保障制度
30. 历史解释的任务之一是评价历史事物（或人物）。下列选项符合这一要求的是
- 亚非拉的民族独立浪潮改变了世界的面貌
  - 1960 年，非洲共有 17 个国家获得了独立
  - 亚非 29 个国家和地区的代表参加万隆会议
  - 1999 年底，巴拿马收回了运河区的全部主权

## 第二部分 材料分析题（共45分）

31. (11 分) 货币是社会经济发展中的重要因素，与我们每个人的生活息息相关。

### 材料一

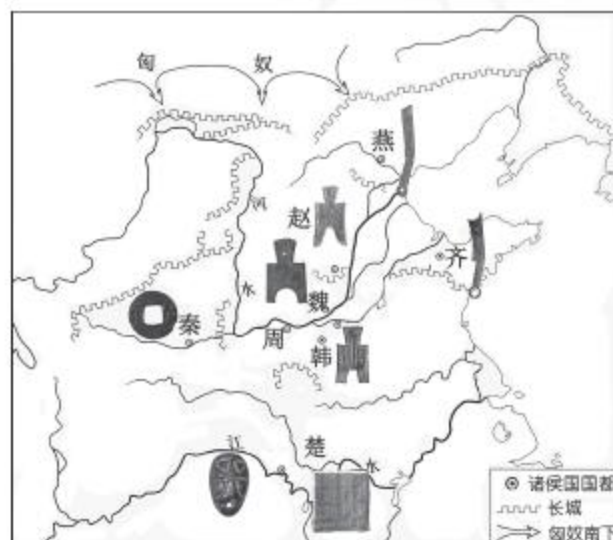


图 A



图 B

- (1) 说明图 A 至图 B 货币使用的变化，结合所学说出变化的影响。(3 分)

**材料二** 1495年以后，西欧新增的全部贵金属中，有大约85%来自新大陆的金、银矿。金属货币供应量的大幅度增加，导致了社会财富的重新分配。托马斯·威尔逊在16世纪末期这样写道：“一些人（旧贵族）一天天衰落下去，另一些人（新兴商人阶级）按照世界的发展进程而发展起来。”新兴阶级上升为主导力量，国家的一般行为和性质随之发生变化。其中的要害之处，在于统治权力由王权向议会过渡。

——摘编自张宇燕、高程《美洲金银和西方世界的兴起》

(2) 结合材料和所学，分析15、16世纪西欧货币量增加的原因和影响。(3分)

### 材料三

	货币一	货币二
发行时间	1932年开始发行	1955年开始发行
发行机构	中华苏维埃共和国国家银行	中国人民银行
图案	工农群众高举中国共产党党旗行进；地球仪，内有中国版图并饰有锤子和镰刀，球体四周麦穗环绕	北京天安门、延安宝塔山、井冈山龙源口三个革命圣地；汽车、飞机、轮船、拖拉机、火车、水电站等重点建设项目

(3) 仿照示例，结合货币发行的时代说一说货币二图案的含义。(2分)

示例：货币一：伴随着革命根据地的建设，中华苏维埃共和国建立，图案表达了中国共产党领导工农武装割据，取得全国革命胜利的理想。

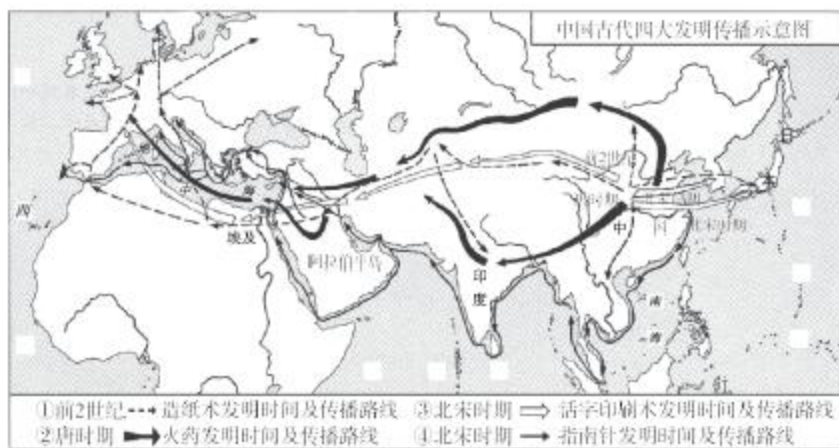
**材料四** 网络的普及带来移动支付的发展。家长在异地就可以把生活费打在学生银行卡上；各种互联网金融平台也使支付更便捷，学生不用取现金，就可以买到所需的食物、学习用具等。但移动支付给人以没花钱的感觉，消费多少没有切身体会，有的学生几天的淘宝购物就把近一个月的生活费消费殆尽。网络购物促销的多样性，如购物满多少赠优惠券等，也促使没有自控力的学生陷入消费的漩涡。

——摘编自李葆华《关于4G网络下高中生消费观念的探析》

(4) 阅读材料并结合自己的生活，概括移动支付发展的背景，谈谈使用移动支付的利弊。(3分)

## 32. (10分) 交通·交往·交流

### 材料一



(1) 观察上图, 回答问题。

①它从中国经东南亚传到印度洋、波斯湾以及红海沿岸, 再经阿拉伯人之手传入欧洲。

上文中的传播路线是: \_\_\_\_\_ (1分。填写序号即可)

②从四大发明中任选一种, 说明其传播的影响。(1分)

**材料二** 华盛顿曾经说: “美国革命, 或者说这个时代的世俗之光似乎打开了欧洲几乎所有国家的眼界, 平等的自由的精神似乎迅速在各个地方生根。” 1786年, 法国学者孔多塞在《论美国革命的影响》一书中认为美国革命是建立在人的神圣的自然权利的基础上的, 体现自由、平等和宽容原则。1787年他翻译、注释美国宪法, 把美国的制宪理论和法国的政治实践结合起来, 启发和引导法国人。

——摘编自李伟《法国 1789—1799 年宪政理论和实践》

(2) 依据材料, 说出“美国革命”所指的具体历史事件并分析其对法国的影响。(2分)

**材料三** 18、19 世纪, 西欧实现了从手工业到机器工业的转变, 社会生产力得到极大提高, 促进了经济繁荣。清朝统治者对此闭目无知, 无动于衷。他们不但不去了解、学习, 反而妨碍中国人民去了解、学习, 致使中国的科学技术长期停滞不前, 拉大了中国与西欧先进国家的距离。

——摘编自黎光《浅谈清朝 \_\_\_\_\_ 政策产生的根源及其危害》

(3) 将材料文章题目补充完整 (写出横线上应填写的词语即可), 并结合所学分析该政策的影响。(2分)

**材料四** 1890 年, 法国开启了商业性汽车生产的潮流。

美国汽车技术源自欧洲。1913 年, 福特汽车公司使用生产流水线, 汽车的价格大幅下降, 开始成为中等收入家庭的交通工具。

面对美国的优势, 欧洲汽车工业一方面引进美国的大批量生产方式, 另一方面针对欧洲市场多样化的需求进行创新, 实现了多品种的大批量生产, 抢占市场。

通过批判地吸收大规模生产方式的精髓并结合日本的国情和文化, 日本汽车产业形成了一套以人为中心的生产管理方式, 1980 年日本取代美国成为世界汽车产业的领袖。

——摘编自孙中峰《美国汽车产业与技术创新扩散》

(4) 依据材料, 概括世界汽车产业发展的原因。(2分)

**材料五** 各国应该共同推动建立以合作共赢为核心的新型国际关系, 各国人民应该一起来维护世界和平、促进共同发展。各国和各国人民应该共同享受尊严、共同享受发展成果、共同享受安全保障。要坚持国家不分大小、强弱、贫富一律平等, 尊重各国人民自主选择发展道路的权利, 反对干涉别国内政, 维护国际公平正义。

——习近平总书记系列重要讲话读本: 关于国际关系和我国外交战略

(5) 阅读材料, 谈谈当今各国交往应采取什么态度。(2分)


33. (12分) 港口是水陆运输的枢纽。

**材料一** 宋朝政府热情接待来中国贸易的外商，市舶司所设之处，当地官员对外商经常设宴款待，并授予贡献突出的外商官职，以示奖励。港口城市设置蕃坊，以便外商集中居住。蕃坊设蕃长，传达官府政令，处理蕃坊的日常政事，管理外商。外商触犯法律，审判权归宋朝地方政府。在外商居住地区还设有蕃学，以便外国子弟读书。

——摘编自杨文新《宋代市舶司研究》

(1) 依据材料和所学，概括宋朝港口城市外商的生活情况。(3分)

**材料二**



——改绘自安妮·米勒德·史蒂夫·努恩《穿越时空的港口》

(2) ①判断上图所反映的时代。(1分)

A. 文艺复兴 B. 新航路开辟 C. 工业革命

②从图中提取信息，说明作出以上判断的依据。(3分)

	图中信息(写出文字即可)	论证(能说明所选信息与时代的关系)
依据1		
依据2		

**材料三** 19世纪50年代，上海港成为中国对外贸易第一大港。在源源不断的大宗出口贸易的推动下，一批出口加工业在上海发展起来。港口崛起，在刺激外资船舶修造业发展的同时，也推动了中国民族资本船舶修造厂的设立。当中国近代民族工业在总体上呈现机器制造业发展明显滞后的时候，上海的民族工业却能以船舶修造业为先驱，一枝独秀，独步一时。以船舶修造业与出口加工业为支柱，上海成为中国近代工业的中心。

——摘编自吴松弟主编《中国百年经济拼图：港口城市及其腹地与中国现代化》

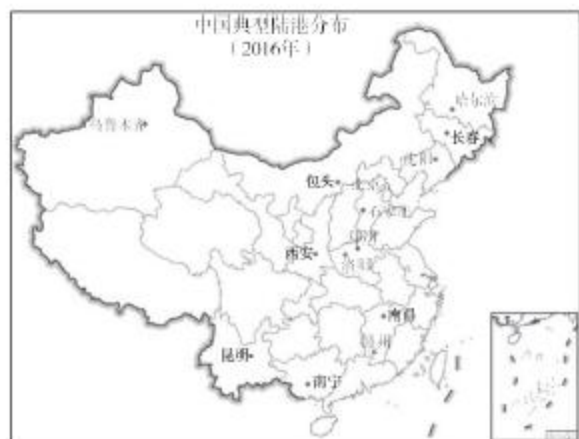
(3) 依据材料概括上海港崛起对当地经济发展的影响。(3分)



**材料四** 陆港又称无水港，即“不临海、建立在内陆地区的港口”。与传统的海港相比，陆港只是没有船舶装卸的功能，港口的其他功能都具备。建设陆港使运输更加便捷，有利于开通当地的外贸通道。

自从我国加入 WTO，对外贸易快速增长，加之内陆地区对外开放的需求，陆港应运而生。

——摘编自魏晓雪《西安国际陆港发展水平评价及对策研究》



(4) 结合材料和所学，分析中国陆港发展的原因。(2分)

34. (12分) 中山公园是北京第一家真正意义上的现代公园。某校历史学习小组计划开展“走进中山公园”社会实践活动，请你参加并提出建议。

**材料一** 在我国古代，一直存在着“社稷祭祀”的制度，把祭祀土地神的地方称作“社”，把祭祀谷物神的地方叫作“稷”。北京中山公园的社稷坛建于1420年，一直作为明清两代皇家祭祀社稷的场所。社稷坛坛面上铺垫着五色土。五种颜色的土壤，寓含了全中国的疆土。每年春、秋两季祭祀前要更换新土，新土由全国各地纳贡交来，以表明“普天之下，莫非王土”之意。中央有一“社主石”，象征“江山永固，社稷长存”。

——摘编自汪金友《社稷坛与五色土》

(1) 依据材料，概括社稷坛体现的理念。(2分)

**材料二** 1914年，北京市政府向市民介绍发达国家公园的数量、位置和功能，激发了市民对辟建公园的渴望。政府还指出，要打破权贵特享，力求全民共享，创设“清静宽敞”的公园。皇宫禁苑几乎占尽北京城中优良的地理位置，且具备亭台楼阁和草木道路等基础设施，应该加以保护和利用。1914年10月，社稷坛开放为中央公园。

——摘编自石柱芳《民国北京政府时期北京公园与市民生活研究》

(2) 依据材料，分析社稷坛开放为公园的背景。(2分)

**材料三** 第一次世界大战结束后，中国人欢欣鼓舞，认为中国作为战胜国，此后可以进入世界强国之列。克林德牌坊依据《辛丑条约》规定，表示向德国“谢罪”而建，一贯被认为是中国屈辱的象征，此时它被拆迁至中央公园，改名为“公理战胜”牌坊。

1918年，李大钊在中央公园发表演说《庶民的胜利》(后刊登于《新青年》)，指出“一九一七年的俄国革命，是二十世纪中世界革命的先声”，中国应该沿着俄国革命的道路前进。

——摘编自戴海斌《中央公园与民初北京社会》

(3) 第一次世界大战后, 中国人纷纷对国家发展作出自己的预测。结合材料和所学完成下表。(3分)

对中国发展的预测	是否实现	判断依据
中国成为世界强国		英、法、美等列强操纵巴黎和会, 拒绝中国的正当要求, 将德国在中国山东的特权全部转让给日本
李大钊:	是	

**材料四** 2020年初疫情发生以来, 中山公园音乐堂取消了近期活动。不能相聚在剧场中的这段日子, 音乐却仍然没有远离热爱它的人们。音乐堂从现有的实况录像中精心挑选了一些效果不错的视频, 通过微信公众号免费分享给乐迷。每条“线上音乐会”的推送, 都有这样一句话: “本系列视频均为艺术家免费授权。”授权视频的同时, 艺术家们还送上了最真挚的寄语。著名女高音歌唱家张立萍在武汉出生长大, 一句“身为湖北人, 心系在武汉”, 寥寥十字, 尽诉思念和牵挂。“天地之间清音缭绕, 正气浩然矣。”有位观众这样留言。

音乐堂负责人说, 通过这段时间的实践, 他们发现这是一个很好的方式, 将来会把“线上音乐会”变成固定栏目。

——摘编自中音在线网站《中山公园音乐堂推出“线上音乐会”系列视频》等

(4) 疫情期间音乐堂的活动, 体现了什么样的时代精神?(2分)

#### 材料五

中山公园景点	景点介绍(部分)
	<p>①<b>中山堂</b> 原名“拜殿”, 是明清两代皇帝祭祀社稷坛时休息的地方。1925年孙中山先生病逝北京, 在此停灵吊唁公祭。此后中央公园改名为中山公园, 拜殿改名为“中山堂”。</p> <p>③<b>音乐厅</b> 始建于1942年。是目前北京最好的专业音乐厅之一, 每年演出古典音乐、当代音乐与戏曲等260多场。</p> <p>④<b>唐花坞</b> 始建于1915年, 1992年进行了全面修缮, 是公园内常年展览花卉的地方。</p> <p>⑤<b>孙中山像</b> 1986年建成。</p> <p>⑥<b>兰亭八柱亭</b> 亭中八根石柱刻有历代书法家临摹的《兰亭序》, 是圆明园四十景之一“坐石临流”中的一个景点。英法联军将圆明园焚毁后, 兰亭被弃于荒野。1917年移至中央公园。</p> <p>⑦<b>保卫和平牌坊</b> 1952年中国民主人士发起“亚洲及太平洋区域和平会议”, 来自37个国家的367位代表参加。大会决定将“公理战胜”牌坊改称“保卫和平”牌坊。</p>

(5) 根据查询到的资料, 同学们准备分小组走进中山公园进行实地考察。请你设计考察活动目标, 并为他们选择合适的考察路线。(3分。横线上填写景点序号即可)

考察活动1: 目标: 了解古代祭祀和书法发展, 传承中华优秀传统文化。

路线: 公园南门→\_\_\_\_\_→\_\_\_\_\_→公园西门

考察活动2: 目标:

路线: 公园南门→\_\_\_\_\_→\_\_\_\_\_→公园西门

# 海淀区九年级第二学期期末练习

## 历史参考答案

2020.06

### 第一部分 选择题（每小题 1.5 分，共 45 分）

题号	1	2	3	4	5	6	7	8	9	10
答案	B	A	B	A	C	D	C	B	D	D
题号	11	12	13	14	15	16	17	18	19	20
答案	A	C	C	B	C	C	D	C	B	D
题号	21	22	23	24	25	26	27	28	29	30
答案	A	A	D	A	B	B	B	C	D	A

### 第二部分 材料分析题（共 45 分）

31. (11 分)

(1)变化：从战国时期各诸侯国使用不同货币，到秦始皇在秦朝范围内统一货币。

影响：有利于巩固统一；有利于国家对经济的管理，促进各地经济的交流。

(2)原因：新航路开辟（或“发现”美洲）；欧洲殖民的掠夺活动。

影响：资本主义经济发展；资产阶级兴起；促进了资本主义政治制度的建立。（

(3)中华人民共和国的成立，货币图案回顾了中国共产党领导中国人民取得新民主主义革命胜利的历程；一五计划的实施，表达了实现社会主义工业化的理想。

(4)背景：计算机网络技术的发展（第三次科技革命）。

影响：利——移动支付更加快捷方便；

弊——增加了消费的无计划性（盲目性）。

32. (10 分)

(1)① ④

②答案示例：

造纸术：有利于人类文明的保存和交流。

火药：对欧洲火器制造和作战方式产生巨大影响，推动了欧洲社会的变革。

活字印刷术：有利于人类文明的保存和交流。

指南针：促进了世界远洋航海技术的发展。

(2)北美独立战争。传播了平等、自由等思想，促进了法国大革命爆发。

(3)闭关锁国

影响：使中国错失了向西方学习先进的科学知识和生产技术的机会；中国逐渐落伍于世界历史的发展进程。

(4)技术改进使汽车价格下降，市场扩大；各国相互学习，在竞争中，不断创新。

(5)言之成理即可。

33. (12 分)

(1)外商商业活动由市舶司管理；来华贸易得到鼓励。外商集中居住，受宋朝政府管理，需要遵守法律。外商子弟可以接受教育。

(2)①C

②言之成理即可。

(3)对外贸易繁荣；西方先进技术传入上海；外国人在上海开办工厂；民族工业发展，成为中国近代工业中心。

(4)中国加入世界贸易组织；对外开放的地域向纵深推进。

34. (12 分)

(1)重视农业；中央集权的大一统观念；加强皇权；巩固政权。

(2)辛亥革命推翻清朝的统治，中华民国建立；民主、平等观念深入人心；西方观念的影响；社稷坛地理位置优越，环境优美。

(3)

对中国发展的预测	是否实现	判断依据
	否	
李大钊：中国应向苏俄学习，进行无产阶级革命		先进知识分子宣传马克思主义；中国共产党成立，领导和组织工人运动

(4)言之成理即可。

(5)考察活动 1：①（或②）⑥

考察活动 2：言之成理即可。