

小学数学第二册期末检测卷（样卷）

2019.6

班级_____ 姓名_____ 成绩_____

一、计算。（32分）

1. 口算下面各题。（20分）


$15-7=$	$6+48=$	$24+9=$	$61-20=$
$26+30=$	$91-5=$	$73-7=$	$3+37=$
$78-6=$	$8+19=$	$50-4=$	$20+48-3=$
$49+5=$	$32-4=$	$5+48=$	$80-20+12=$
$80-30=$	$8+61=$	$35+5=$	$79-4+6=$

2. 用竖式计算。（12分）

$26+43=$	$86-32=$	$48+34=$	$90-69=$
----------	----------	----------	----------

二、填空。（32分。第1题10分，其余每空1分）

1. 想一想，填一填。



左图中，____个十和____个一合起来是____，再添上____个一就是50。（3分）

(2) 与90相邻的两个数是____和____；

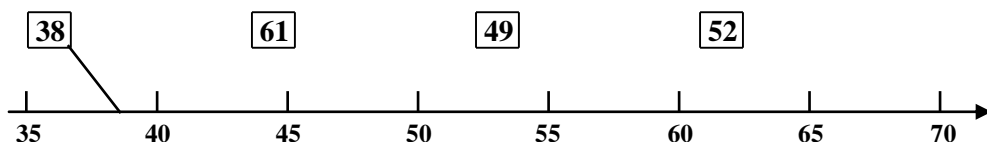
93是接近100还是接近90？____（填“100”或“90”。）（3分）

(3) 52 47 68 70 25 86

上面的数中，单数有____个；双数有____个。

把这六个数从小到大排一排：____<____<____<____<____<____（4分）


2. 下面各数分别在直线的哪个位置？照样子，用线连一连。



3. 在○里填“>”“<”或“=”。

$76 \bigcirc 71$	$43+5 \bigcirc 50$	$74-30 \bigcirc 74-3$	6角7分 \bigcirc 2元
$89 \bigcirc 100$	$62 \bigcirc 67-9$	$46+9 \bigcirc 9+46$	52元+6元 \bigcirc 60元

4.



王医生已经检查了_____位同学，

还有_____位同学在等待检查。

5. 找规律填一填。

70、62、54、46、_____、_____、_____。

□ ○ △ □ ○ △ □ ○ △ _____、_____。

6. 下面是1~100百数表的一部分。

1	2	3	4	5	6	7	8	9	10
11	12	13	14	15	16	17	18	19	20
21	22	23	24	25					

用下面的图形分别在百数表中框出几个数，你能把空格里的数填写完整吗？

15		
25		

		68
		78

三、选一选。（选择正确答案，在□里画“√”）（12分）

1.

我吃的比你多得多。



我吃的比你少一些。

我吃了35只害虫。

(1) 小豆吃了多少只害虫？

80 ☐ 40 ☐ 28 ☐

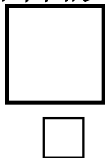
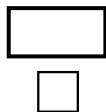
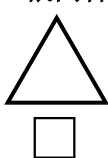
(2) 小跳吃了多少只害虫？

80 ☐ 40 ☐ 28 ☐

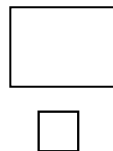
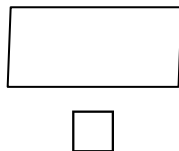
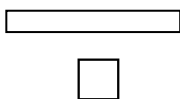

2. 小军和小红做纸花。小军做了21朵，小红做了10朵。小红至少再做多少朵，才能超过小军？

11朵 ☐ 12朵 ☐ 15朵 ☐

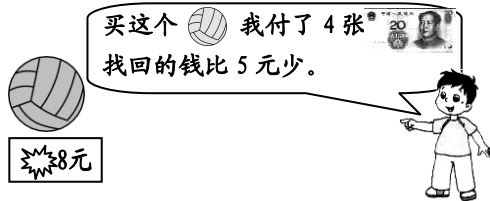
3. 用8根同样长的小棒，能摆出下面哪个图形？



4. 用下面这个长方体，可以画出不同的长方形。下面哪个图形不是用这个长方体画出来的？



5.




一个 多少元？

38元 ☐ 78元 ☐ 88元 ☐

四、画一画。（4分）




1. 画一画，把下面的三角形补成一个长方形。

2. 在长方形的右边画一个正方形。




五、解决问题。（20分）

1. 想一想，把表格填写完整。（6分）

			
原有	54个	56个	()个
借走	17个	()个	16个
还剩	()个	31个	18个

2. (4分)



原来有多少只船？

3. (4分)



小红再添多少张画片，就和小亮同样多？

4. (6分)



	红花	黄花
小亮	19朵	15朵
小兰	26朵	15朵

(1) 估一估，()做的花多。

(2) 小亮一共做了多少朵花？

(3) 小亮比小兰少做了多少朵红花？