

一年级数学科单元作业 (一)

内容包括: 至第一册练习四

姓名: _____ 班级: _____ 座号: _____ 评分: _____

说明: 全卷共 105 分, [卷面书写 3 分, 拓展题 2 分][其他 100 分]

☆书写工整, 卷面整洁。(3 分)

一、看图写数。(10 分)



--	--	--	--	--

二、数一数, 画一画。(8 分)



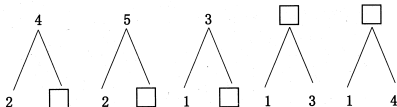
○○○○ ○○				
------------	--	--	--	--

三、填空。(第 4 题 10 分, 其余每空 1 分, 共 31 分)

1、

	2		4	
--	---	--	---	--

5		3		
---	--	---	--	--

2、在 里填上合适的数。

3、在○里填上“>”“<”或“=”

5 ○ 4 3 ○ 1 1 ○ 2 1 ○ 0 4 ○ 2

2 ○ 2 4 ○ 5 5 ○ 5 2 ○ 3 1 ○ 1

4、看图填空。



(1) 图中一共有 () 只小动物。

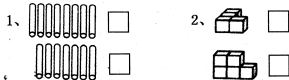
(2) 从左往右数, 小猫排在第 ()。

(3) 从右往左数, 鸽子排在第 ()。

(4) 在从左数第 4 只小动物上面画“△”。

(5) 把左边的 3 只小动物圈起来。

四、在多的后面画“√”, 在少的后面画“○”。(8 分)



五、数一数, 比一比。(10 分)





六、按要求画一画。(9分)

1、画△，比○多3个




3、画○，和△同样多





2、画□，比○少2个





七、画一画。(12分)




1、在  的上面画○。

2、在  的左边画☆。

3、在  的下面画△。

4、在  的右边画□。

八、看看柜子里有什么，把正确的答案圈起来。(12分)



1、小熊、洋娃娃、电话在最(上、下)面。

2、机器人、篮球、小汽车在最(上、下)面。

3、火车头的(左、右)边是小马，(左、右)边是电子琴。

4、电话的(上、下)面是电子琴。小汽车的(上、下)面是电子琴。

拓展题。(2分)

圈出正确答案。



够

不够