

第一周达标测试卷

RJ版·一年级数学(上)

准备课

(时间:60分钟 满分:100分)

题号	一	二	三	四	五	六	七	八	总分
得分									

一、数一数,连一连。(8分)



2

6

8

9

3

4

7

5



二、将灯笼上的数字与对应的图片连线。(8分)



1

2

3

4

5

6

7

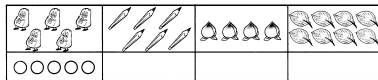
8

9

10



三、照样子,画一画。(9分)




四、比一比,画一画。(15分)

1. 比一比,在多的后面画“√”。(6分)



2. 最长的画“√”,最短的画“○”。(3分)




3. 最多的画“△”,最少的画“○”。(6分)



五、比一比,填一填。(9分)






六、画一画,数一数。(17分)

1. 画一画。(9分)

(1)画○,比☆多2个。



(2)画△,比😊少3个。



(3)画△,比●多3个。



2. 请先找规律涂一涂,然后填空。(8分)



(1)其中●有()个,○有()个。

(2)_____比_____多,多()个。

(3)_____比_____少,少()个。

七、按要求做一做。(19分)

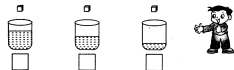
1. 在少的后面画“√”。(4分)




2. 用火柴棒拼图,哪个图形用的火柴棒多?在□中画“√”。(4分)



3. 把方糖放入杯中后,哪杯水最甜?在最甜的下面画“√”。(4分)



4. 把下面的条形从短到长排起来。(7分)



八、按规律涂一涂。(15分)

