



tián yì tián

一、填一填。

- 量物体的长度时,要把尺子的( )对准物体的( )端,再看物体的( )端对着几。
- $1\text{m} = ( )\text{cm}$   
 $5\text{m} = ( )\text{cm}$   
 $1\text{m}40\text{cm} = ( )\text{cm}$
- 一支铅笔长约 20 ( )。
- 量一棵树的高度用( )作单位比较合适。
- 小华的身高是 1( ) 25( )。

suàn yì suàn

二、算一算。

- $6\text{厘米} + 11\text{厘米} = ( )\text{厘米}$   
 $30\text{厘米} - 2\text{厘米} = ( )\text{厘米}$   
 $80\text{厘米} + 16\text{厘米} = ( )\text{厘米}$   
 $50\text{厘米} + 50\text{厘米} = ( )\text{厘米}$

pái yì pái

三、排一排。

- 按从小到大的顺序排列。  
 32 厘米   2 米   25 厘米   52 厘米  
 \_\_\_\_\_


2. 按从大到小的顺序排列。

98 厘米   4 米   1 米   17 厘米

shì yì shì zài liǎng diǎn zhī jiān huà yī tiáo xiàn  
四、试一试,在两点之间画一条线

duàn

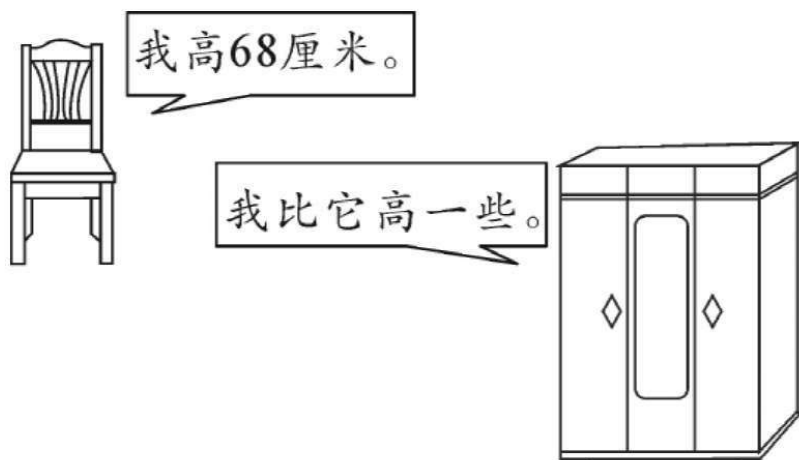
段。



gū yì gū guì zi yǒu duō gāo zài zhèng què  
五、估一估柜子有多高? 在正确

dá àn de xià miàn huà

答案的下面画“√”。



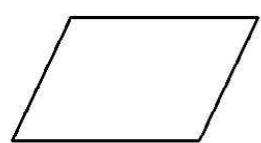
30 厘米	1 米	80 厘米



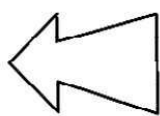
shǔ yì shǔ xià miàn gè tú zhōng de xiàn duàn

## 六、数一数下面各图中的线段


gè yǒu jǐ tiáo  
各有几条。



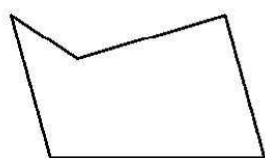
( ) 条



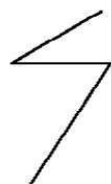
( ) 条



( ) 条



( ) 条



( ) 条



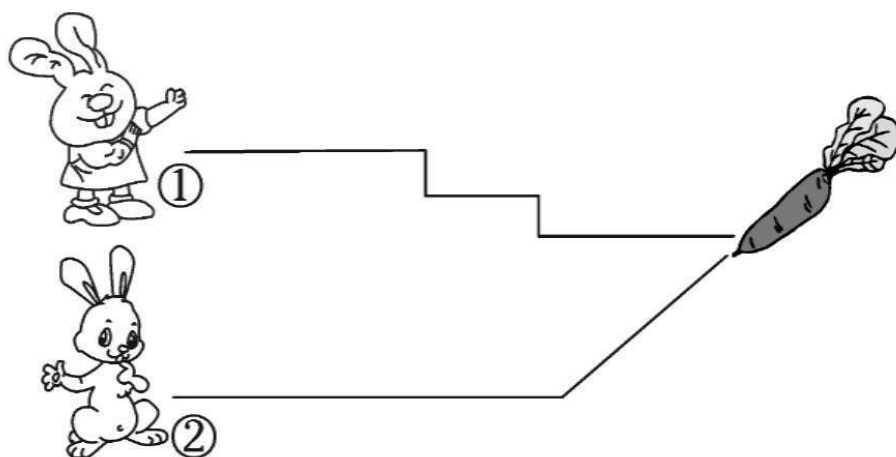
( ) 条

liǎng zhī xiǎo tù pǎo dé yī yàng kuài nǎ zhī

## 七、两只小兔跑得一样快,哪只

xiǎo tù xiān ná dào cài luó bo

小兔先拿到萝卜?



( ) 先拿到萝卜,它大约跑了

( ) 厘米。

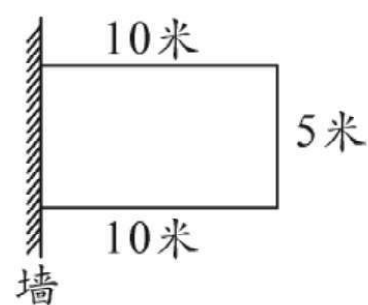
jiě jué wèn tí

## 八、解决问题。


1. 一根绳子用去 10 米,还剩 6 米,这根绳子原来长多少米?

2. 王叔叔用篱笆围了一个长方形菜地

(如图),需要篱笆多少米?

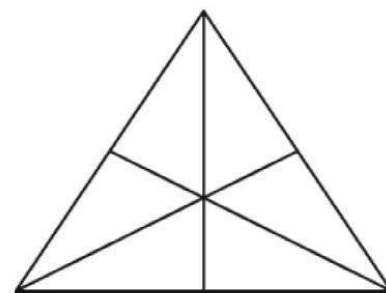


3. 从小熊家到儿童乐园一共有 90 米,小熊从家里出发,已经走了 50 米,还要走多少米就到儿童乐园了?



shǔ yì shǔ

## 九、数一数。



共有( ) 条线段