


第一单元 单元测试

1. 谁的说法对? 对的在□里面画“√”。



上面的铅笔长8厘米。

小小

☐


上面的铅笔长5厘米。

壮壮

☐


上面的铅笔长6厘米。

龙龙

☐

2. 判断, 对的画“√”, 错的画“×”。

(1) 4米=40厘米。()



(2) 体育场跑道长4米。()

(3) 小明身高100米。()



(4) 文具盒长26厘米。()

3. 估一估。




(1)  大约有 () 个  长。



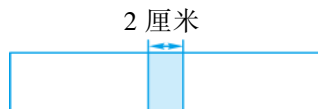
(2)  大约有 () 个  长。



(3)  大约有 () 个  长。



4. 小明把两张长10厘米的纸条连接在一起(如下图), 连接以后的纸条长多少厘米?



5. 在括号里填上“厘米”或“米”。



杯子高 15 ()



文具盒长 20 ()

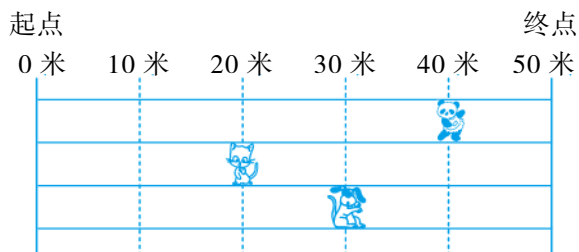


书厚 1 ()



大树高 16 ()

6. 3 个小动物进行 50 米跑步比赛。

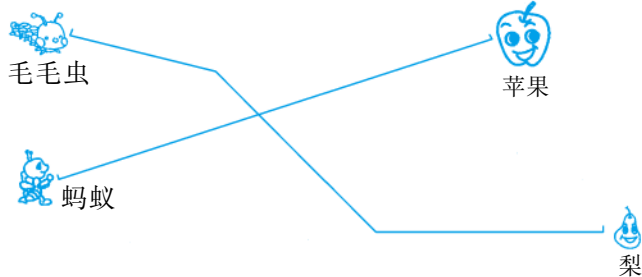


(1) 已经跑了 () 米，离终点还有 () 米。

(2) 已经跑了 () 米，离终点还有 () 米。


(3) 在上图中， 比 少跑 () 米。

7. 量一量，蚂蚁要爬 () 厘米就能吃到苹果，毛毛虫要爬 () 厘米才能吃到梨。



8. 一根绳子长 20 米，第一次剪下 5 米，第二次剪下 6 米，这根绳子比原来短了多少米？
9. 一个凳子高 40 厘米，小淘站在凳子上刚好与 1 米高的墙同样高。小淘的身高是多少厘米？
10. 将两根长 15 厘米的木条钉在一起，重叠部分长 5 厘米，钉好后的木条长多少厘米？

11. 看图算一算。



(1) 请你算出小峰和小月的身高。

(2) 小月和小峰的身高相差多少厘米？

第一单元 单元测试

1. 龙龙: \checkmark
2. (1) \times (2) \times (3) \times (4) \checkmark 3. 略
4. $10+10-2=18$ (厘米) 5. 厘米 厘米 厘米 米
6. (1) 20 30 (2) 30 20 (3) 20 7.6 8
8. $5+6=11$ (米)
9. 1 米 = 100 厘米 $100-40=60$ (厘米)
10. $15+15-5=25$ (厘米)
11. (1) 小峰: $90-10=80$ (厘米)
小月: $90+10=100$ (厘米)
(2) $100-80=20$ (厘米)