

第一单元综合检测卷

时间:60 分钟 满分:100 分

题号	一	二	三	四	五	六	七	总分
得分								

一、填一填。(6 分)

1. 想一想,填一填。

★★★★★★★★★

★★★★★★★★★★★★★★


第一行有 9 颗★,第二行有 13 颗★。

(1) 第一行添上()颗★,就和第二行同样多。

(2) 第二行拿走()颗★,就和第一行同样多。

(3) 从第二行拿()颗★摆到第一行,两行★就同样多。

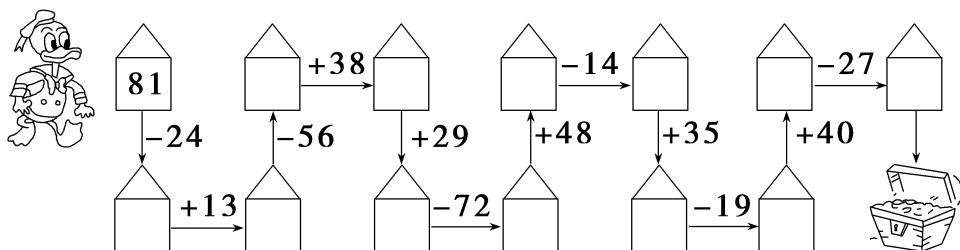
2. 我会看图填空。



菠萝比桃子少()个。菠萝添上()个就和桃子同样多。

桃子拿走()个就和菠萝同样多。

二、寻宝。(12 分)



三、比一比,在○里填上“>”“<”或“=”。(16分)

$$87-21-32 \bigcirc 87-21+32 \quad 60+22-34 \bigcirc 60-34+22$$

$$73+24-15 \bigcirc 73-15-24 \quad 53+16-17 \bigcirc 49+19-26$$

四、用竖式计算。(18分)

$$28+46-25=$$

$$90-64-18=$$

$$39+23+32=$$

$$77-58+31=$$

$$6+85-49=$$

$$93-27-35=$$

五、乐乐有多少张卡片?(6分)



我有51张卡片。

可可

我比丽丽多22张。







乐乐

我比可可少17张。



丽丽

六、跳绳比赛。(12 分)

参赛者				
成绩(下)	43	26	?	31

1. 、和一共跳了多少下？

2. 如果 的跳绳成绩比 和的总数少了 15 下，
跳了多少下？

七、丰盛的早餐。(30 分)

烧卖



每份 6 元

米线



每份 5 元

小包子



每份 3 元

豆皮



每份 4 元

(1) 乐乐买 1 份小包子和 1 份豆皮花了多少钱?

(2) 欢欢想买 1 份烧卖和 1 份米线要花多少钱?

(3) 欢欢比乐乐多花了多少钱?