



第3课时 认识线段

基础过关

nǐ rèn shi xiàn duàn ma qǐng zài xiàn duàn de xià miàn huà
一、你认识线段吗？请在线段的下面画“√”。



()



()



()



()



()

huà xiàn duàn
二、画线段。

1. 画一条长5厘米的线段。


2. 请你画一条与下面同样长的线段。



3. 在  左边4厘米处画一面 ，在  右边2厘米处画一面 .



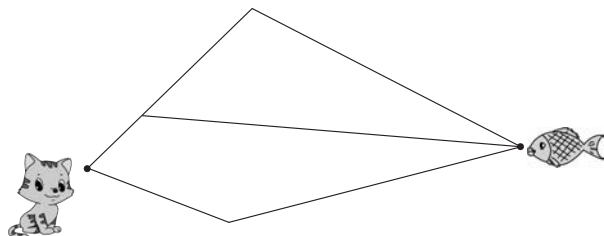
xià tú zhōng guò zhè sì gè diǎn yí gòng néng huà chū jǐ tiáo xiàn duàn huà chū de dòng wù
三、下图中过这四个点一共能画出几条线段？画出的动物
shì shén me
是什么？



一共画出了()条线段，画出的动物是()。

能力提升

xiǎo māo chī yú liáng yi liáng tián yi tián
四、小猫吃鱼！（量一量，填一填）



小猫要吃到小鱼一共有()条路可走，最长走()厘米。



第4课时 解决问题

基础过关

zài kuò hào lǐ tián shàng lí mǐ huò mǐ
一、在括号里填上厘米或米。



高约 20()



高约 10()



身高约 1()65()

xià miàn de cháng dù dān wèi duì ma duì de huà bǎ bú duì de gǎi zhèng guò lái
二、下面的长度单位对吗？对的画“√”，把不对的改正过来。

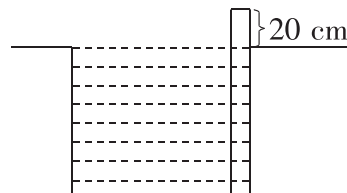
1. 大拇指宽约 1 米。()
2. 牙刷长约 15 厘米。()
3. 旗杆高 12 厘米。()
4. 小玉脚长 18 米。()

quān chū hé shì de dá àn
三、圈出合适的答案。

估计	比 1 米 长 短	比 15 厘米 宽 窄	比 1 米 高 矮
测量	比 1 米 长 短	比 15 厘米 宽 窄	比 1 米 高 矮

能力提升

四、小亮用一根长 1 m 的木条去测量游泳池的深度，他把木条竖直放入池中，量得露在外面的木条长度是 20 cm，则游泳池的深度是多少厘米？





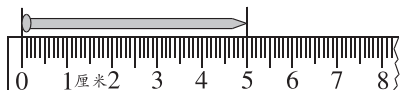
第一单元检测

wǒ huì tián yì tián

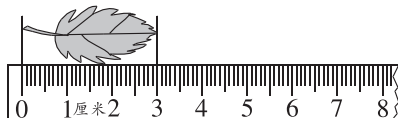
一、我会填一填。

1. 测量比较短的物体,可以用()作单位,用字母表示为();测量比较长的物体,可以用()作单位,用字母表示为()。

2.



铁钉长()厘米



树叶长()厘米

3. (2018 广州)在括号里填上“厘米”或“米”。



橡皮长 4()



大树高 15()



花瓶高 30()

4. 小新身高 80 厘米,再长()厘米,他就 1 米高了。

cōng míng xiǎo fǎ guān duì de huà cuò de huà

二、聪明小法官。(对的画“√”,错的画“×”)

1. (易错题)从尺子的刻度 1 画到刻度 5,画了 5 厘米。()
2. 1 米比 99 厘米短。()
3. 左图中有 3 个点,每两个点之间画一条线段,可以画 3 条。()

xuǎn yì xuǎn bǎ zhèng què dá àn de xù hào tián zài kuò hào lǐ

三、选一选。(把正确答案的序号填在括号里)

1. 下面每句话中,单位名称使用合适的是()。
- ①教室长 100 厘米 ②字典厚 1 米 ③数学书长 26 厘米
2. (2017 郑州)如果将下图中的绳子拉直,它的长度大约为()厘米。



①5

②6

③7

huà yì huà

四、画一画。

1. (2018 信阳)画一条比 4 厘米长 2 厘米的线段。
2. 在距离小猴脚下的点 4 厘米处画一个○,8 厘米处画一个△。





第3课时 认识线段

基础过关

nǐ rèn shi xiàn duàn ma qǐng zài xiàn duàn de xià miàn huà “√”。
一、你认识线段吗？请在线段的下面画“√”。



()



(√)



()



(√)



()

huà xiàn duàn
二、画线段。

1. 画一条长5厘米的线段。



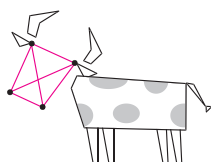
2. 请你画一条与下面同样长的线段。



3. 在  左边4厘米处画一面 ，在  右边2厘米处画一面 .



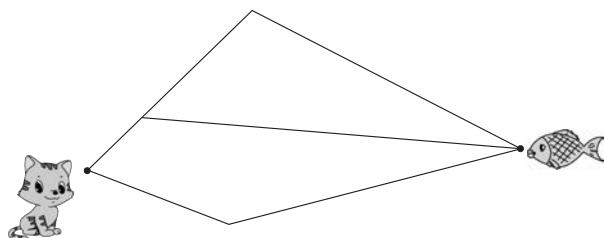
xià tú zhōng guò zhè sì gè diǎn yí gòng néng huà chū jǐ tiáo xiàn duàn huà chū de dòng wù shì shén me
三、下图中过这四个点一共能画出几条线段？画出的动物是什么？



一共画出了(6)条线段，画出的动物是(牛)。

能力提升

xiǎo māo chī yú liáng yi liáng tián yi tián
四、小猫吃鱼！（量一量，填一填）



小猫要吃到小鱼一共有(3)条路可走，最长走(7)厘米。



第4课时 解决问题

基础过关

zài kuò hào lǐ tián shàng lí mǐ huò mǐ
一、在括号里填上厘米或米。



高约 20(米)



高约 10(厘米)



身高约 1(米)65(厘米)

xià miàn de cháng dù dān wèi duì ma duì de huà bǎ bú duì de gǎi zhèng guò lái
二、下面的长度单位对吗?对的画“√”,把不对的改正过来。

1. 大拇指宽约 1 米。 (厘米)
2. 牙刷长约 15 厘米。 (√)
3. 旗杆高 12 厘米。 (米)
4. 小玉脚长 18 米。 (厘米)

quān chū hé shì de dá àn
三、圈出合适的答案。

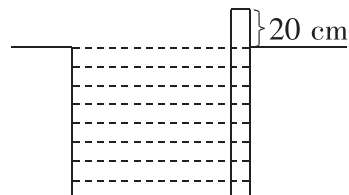
估计	比 1 米 长 短	比 15 厘米 宽 窄	比 1 米 高 矮
测量	比 1 米 长 短	比 15 厘米 宽 窄	比 1 米 高 矮

能力提升

四、小亮用一根长 1 m 的木条去测量游泳池的深度,他把木条竖直放入池中,量得露在外面的木条长度是 20 cm,则游泳池的深度是多少厘米?

$$1 \text{ m} = 100 \text{ cm} \quad 100 - 20 = 80 (\text{厘米})$$

答:游泳池的深度是 80 厘米。





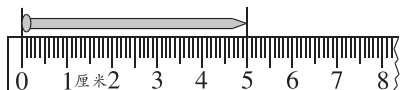
第一单元检测

wǒ huì tián yì tián

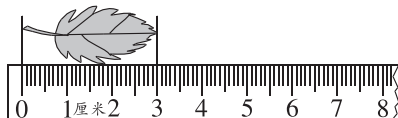
一、我会填一填。

1. 测量比较短的物体,可以用(厘米)作单位,用字母表示为(cm);测量比较长的物体,可以用(米)作单位,用字母表示为(m)。

2.



铁钉长(5)厘米



树叶长(3)厘米

3. (2018 广州)在括号里填上“厘米”或“米”。



橡皮长 4(厘米)



大树高 15(米)



花瓶高 30(厘米)

4. 小新身高 80 厘米,再长(20)厘米,他就 1 米高了。

cōng míng xiǎo fǎ guān

duì de huà

cuò de huà

二、聪明小法官。(对的画“√”,错的画“×”)

1. (易错题)从尺子的刻度 1 画到刻度 5,画了 5 厘米。 (×)
 2. 1 米比 99 厘米短。 (×)
 3. 左图中有 3 个点,每两个点之间画一条线段,可以画 3 条。 (√)

xuǎn yì xuǎn

bǎ zhèng què dá àn de xù hào tián zài kuò hào lǐ

三、选一选。(把正确答案的序号填在括号里)

1. 下面每句话中,单位名称使用合适的是(③)。
 ①教室长 100 厘米 ②字典厚 1 米 ③数学书长 26 厘米
 2. (2017 郑州)如果将下图中的绳子拉直,它的长度大约为(③)厘米。



①5

②6

③7

huà yì huà

四、画一画。

1. (2018 信阳)画一条比 4 厘米长 2 厘米的线段。



2. 在距离小猴脚下的点 4 厘米处画一个○,8 厘米处画一个△。

