

第一单元测试卷

时间:60 分钟 满分:100 分

题号	一	二	三	四	五	六	七	总分
得分								

一、填空。(每空 1 分,共 26 分)

1. 在()里填上“米”或“厘米”。



一罐茶叶高15()



打火机长8()



中巴车长5()



妈妈身高

1()60()





塔高60()



课本长26()

2. 下图中间形针长()厘米,纸条长()厘米。



3. 学生用尺上,从刻度 0 到 4 是()厘米,从刻度 3 到 9 是()厘米。

4. 用 20 厘米长的尺子,量()次是 100 厘米。

5. 一张课桌的一条边比 80 厘米多 20 厘米,这条边长()米。

6. 在 ○ 里填上“>”“<”或“=”。

10 米 ○ 9 米

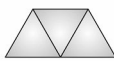
500 厘米 ○ 5 米

34 厘米 ○ 43 厘米

7. 数一数,下面的图形各有几条线段?



()条



()条



()条



()条

8. 算一算,填一填。

$40 \text{ 米} + 2 \text{ 米} = (\quad) \text{ 米}$

$5 \text{ 米} - 4 \text{ 米} = (\quad) \text{ 厘米}$

$18 \text{ 厘米} + 32 \text{ 厘米} = (\quad) \text{ 厘米}$

$30 \text{ 厘米} + 70 \text{ 厘米} = (\quad) \text{ 米}$

$1 \text{ 米} - 60 \text{ 厘米} = (\quad) \text{ 厘米}$

$1 \text{ 米} - 30 \text{ 厘米} = (\quad) \text{ 厘米}$

二、判断。(对的画“√”,错的画“×”)(5分)

1. 3 米比 30 厘米短。 ()

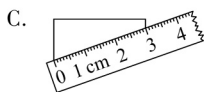
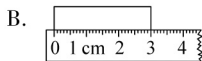
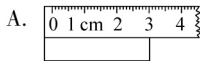
2. 爸爸身高 175 米。 ()

3. 柏林马路宽约 60 厘米。 ()

4. 右图中有 3 条线段。  ()

三、选择。(把正确答案的序号填在括号里)(8分)

1. 要测量长方形的长,下面()的量法是正确的。



2. 测量的一步长大约是 40()。

A. 米

B. 厘米

C. 拃

3. 下图中,()是线段。



4. 一拃长约 10 cm,一台电视的宽约 6 拃,是()厘米。

A. 60

B. 6

C. 100

四、在合适答案后的 ☐ 里画“√”。(9分)



比1米长 ☐

比1米短 ☐



比1米长 ☐

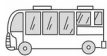
比1米短 ☐



比1米长 ☐

比1米短 ☐

五、下面的物品各是多长？连一连。（8分）



130厘米

22厘米

8米

2米

六、量一量，画一画，填一填。（18分）

1. 量一量，填一填。（7分）



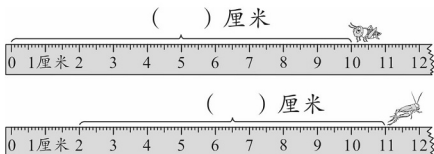
2. 画一画。（6分）

(1) 画一条长4厘米的线段。

(2) 画一条比2厘米多3厘米的线段。

3. 昆虫王国举行跳远比赛，它们分别跳了多远？填一填，谁是冠军，

在对应的 ☐ 内画“√”。（5分）

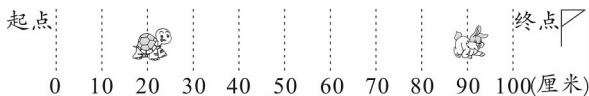


今天的跳远冠军是：



七、解决问题。(26分)

1. 龟兔赛跑。(9分)



(1) 全长是()厘米,也就是()米。

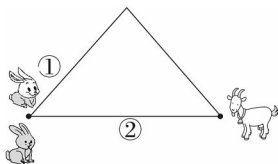
(2) 兔子已经走了()厘米,离终点还有()厘米。

(3) 乌龟已经爬了()厘米,离终点还有()厘米。

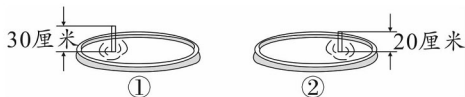
2. 一根长方形的木条长96厘米,锯掉30厘米,还剩多少厘米?(5分)

3. 星期天,小山羊邀请小白兔和小灰兔到家里做客。小白兔走的是①号路,小灰兔走的是②号路,它们谁先到山羊家? 近多少厘米?

(6分)



4. 用同样长的两根竹竿测量两个水池里水的深度,测量结果如下图所示:



你知道哪个水池里的水深一些吗?(6分)