

第一单元《长度单位》检测题(A卷)(人教版)

时间:40 分钟

总分:100 分

一、判断对错(每题2分,共16分)

1. 别针长5米。()
2. 铅笔长50厘米。()
3. 小明高2(厘米)。()
4. 2米=20(厘米)。()
5. 300厘米=1米。()
6. 一条线段长8厘米。()
7. 一根铁丝长1米,第一次用去35厘米,第二次用去25厘米,还剩60厘米。()
8. 一条线段大约长6厘米,就是指它的长比6厘米短一些。()

二、填空(44分)

1. 在括号里填上合适的长度单位。(每题2分,共20分)

- (1)一支油画棒长10()。
- (2)姐姐身高是1()46()。
- (3)黑板大约长4()。
- (4)手掌大约宽7()。
- (5)一幢大楼高56()。
- (6)一根丝瓜长30()。
- (7)教室门高2()。
- (8)写字台高80()。
- (9)一条成人围巾长2()。
- (10)操场长100()。

2. 计算。(每题2分,共12分)

- | | |
|----------------|-----------------|
| 32厘米-9厘米=()厘米 | ()厘米+8厘米=38厘米 |
| ()厘米-7厘米=40厘米 | 40厘米+60厘米=()厘米 |
| 15厘米+5厘米=()厘米 | 1米-20厘米=()厘米 |

3. 在○里填上“>”、“<”或“=”。(每题2分,共12分)

- | | |
|-----------|-----------|
| 84厘米○48厘米 | 44厘米○50厘米 |
| 99厘米○1米 | 40厘米○40米 |
| 3米○30厘米 | 2米○200厘米 |

三、操作题(共10分)

1. 按要求画线段。(每题2分,共6分)

- (1)画一条3厘米的线段。
- (2)画一条比5厘米短1厘米的线段。
- (3)画一条比4厘米长3厘米的线段。

2. 将下面的长度按从小到大的顺序排一排。(4 分)
- 40 厘米 1 米 1 厘米 101 厘米

四、解决问题(每题 5 分,共 30 分)

1. 黄丝带长 90 厘米,蓝丝带比黄丝带短 8 厘米,蓝丝带长多少厘米?
2. 小丽说:“我一步走 50 厘米”。小敏说:“我一步走 67 厘米”。谁的步子长? 长多少厘米?
3. 弟弟现在身高 70 厘米,再长高多少就够 1 米?
4. 一根跳绳对折后长 2 米。这根绳子长多少米?
5. 一捆绳子长 15 米,第一次用去 5 米,第二次用去 6 米。这捆绳子比原来短了多少米? 还剩下多少米?
6. 一根钢管,王师傅锯了 3 次,每段长 20 厘米。这根钢管原来长多少厘米?

第一单元《长度单位》检测题(B卷)(人教版)

时间:40 分钟

总分:100 分

一、我会填(每空 2 分,共 30 分)

1. 我们学过的长度单位有()和(),1 米=()厘米。

2. 如下图,铅笔长()厘米,铁钉长()厘米。



3. 在()里填上合适的长度单位。



钢笔长 15 ()



长颈鹿高 4 ()



小华身高 120 ()

4. 在 ○ 里填上“>”、“<”或“=”。

5 m ○ 5 cm

99 厘米 ○ 1 米

2 米 ○ 200 厘米

42 cm ○ 24 cm

70 厘米 ○ 7 米

1 米 30 厘米 ○ 135 厘米

5. 估一估,()本数学书的长大约是 1 米。

二、选择题(每题 4 分,共 20 分)

1. ()的长度大约是 1 厘米。

A. 数学书

B. 图钉

C. 小刀

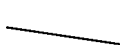
2. 一拃长大约是()。

A. 1 米

B. 1 厘米

C. 12 厘米

3. 下面图中()是线段。



A



B




C

4. 60 厘米 + 40 厘米 = ()米。

A. 1

B. 10

C. 100

5. 如图  ,共有()条线段。

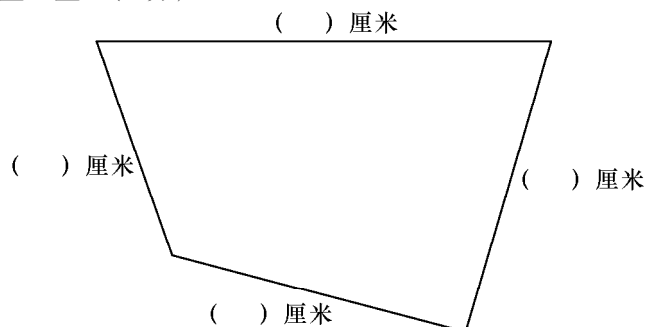
A. 3

B. 5

C. 6

三、解答题(50 分)

1. 量一量。(8 分)



2. 画一画。(12 分)

(1)画一条比 6 厘米长 2 厘米的线段。

(2)画一条比 6 厘米短 2 厘米的线段。

3. 小明家、小红家分别住在学校的两侧(如下图),小明家距离学校 40 米,小红家距离学校 50 米。(10 分)



(1)小明家到小红家有多少米?

(2)每天上学,谁走的路多,多走多少米?

4. 妈妈买了 1 米布,给小兰做手帕用去 30 厘米,还剩多少厘米布?(10 分)

5. 把两根长都是 8 厘米的铁条焊接为一根长的铁条,焊接头是 3 厘米(如图)。焊接后的铁条长多少厘米?(10 分)

