

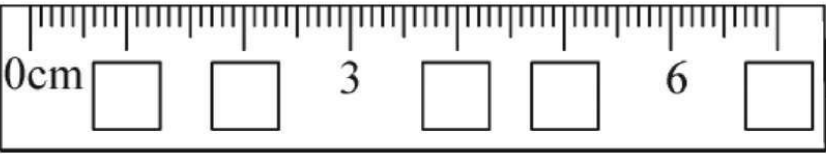
预 习 新 知

长度单位(1)



tián yì tián

一、填一填。



gū yì gū dà yuē yǒu duō cháng

二、估一估,大约有多长。




木条大约有( )个 长;  
木条大约有( )个 长。

bǎ duì yìng de cháng dù yòng xiàn lián yì lián

三、把对应的长度用线连一连。

一栋楼房高



20cm

手掌宽




2m

铅笔长



20m

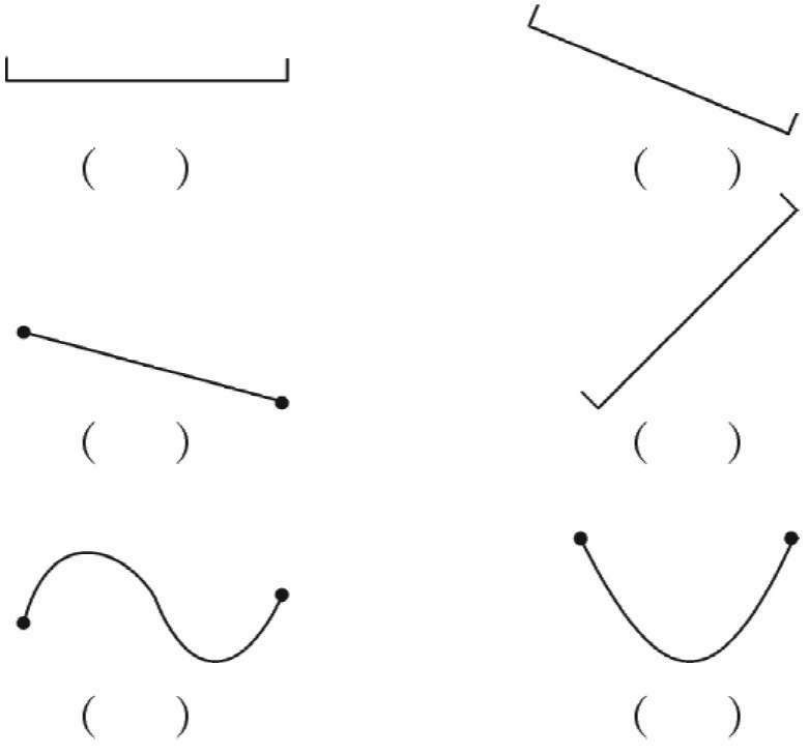
一张床长



7cm


gěi xià miàn shì xiàn duàn de huà shàng

四、给下面是线段的画上“√”。



yòng mǐ huò lí mǐ tián kòng

五、用“米”或“厘米”填空。



大树高约8( )



塔高约20( )



铅笔长约15( )

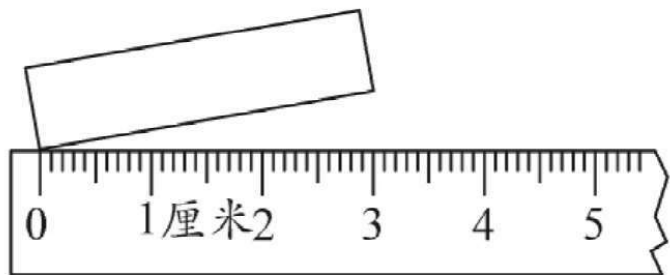


词典厚约3( )

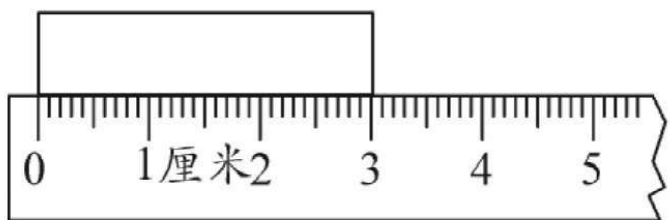
zài liáng de duì de xià biān dǎ

六、在量得对的下边打“√”。

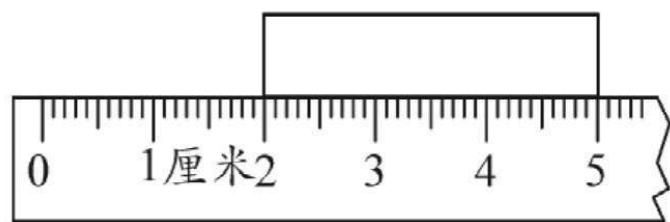




( )

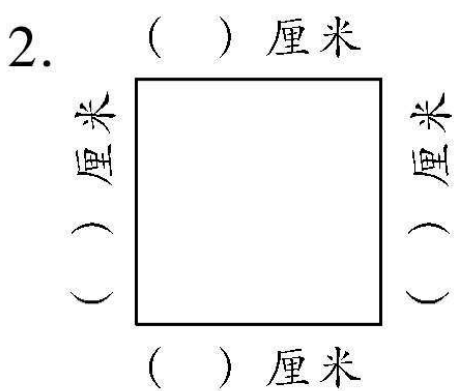
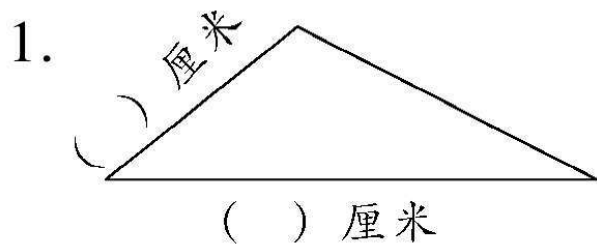


( )



( )

xiāngū jì zài yòng chǐ zì liáng  
七、先估计,再用尺子量。



zài lǐ tián shàng huò  
八、在 里填上 “>” “<” 或 “=”。

10m ○ 10cm      3m ○ 30cm  
60cm ○ 40cm      5m ○ 6m  
1m ○ 90cm      100cm ○ 20m

quān chū hé shì de dá àn  
九、圈出合适的答案。

	一根粉笔 的长度	讲台的长度
估计	比 10 厘米 长 短	比 1 米 长 短
测量	比 10 厘米 长 短	比 1 米 长 短

huà yì huà  
十、画一画。

1. 画一条和下面同样长的线段。

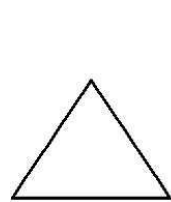


2. 画一条 5 厘米长的线段。

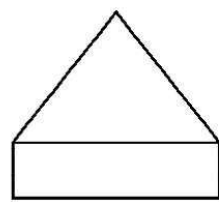
3. 画一条比 8 厘米短 2 厘米的线段。



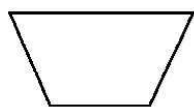
shǔ yì shǔ tú xíng zhōng gè yǒu jǐ tiáo  
十一、数一数,图形 中 各有几条  
xiànduàn  
线段。



( ) 条



( ) 条



( ) 条



( ) 条