

第一单元达标测试卷


三年级上册·数学

(时间: 90分钟 满分100分)

题号	一	二	三	四	五	六	七	八	总分
得分									

一、填一填。(21 分)

1. 钟面上,分针走了 3 分钟,这时秒针走了()圈。
2. 时针从数字 3 走到数字 6,经过的时间是(),秒针从数字 3 走到数字 6,经过的时间是()。



跑 100 米大约需要 18()。

4. 2 分=()秒 1 分 10 秒=()秒
120 分=()时 100 秒=()分()秒
5. 2016 里约奥运会上,我国田径运动员王镇在男子 20 公里竞走比赛中以 1()19()14()夺得冠军。
6. 六一儿童节联欢会从上午 9:00 开始,11:30 结束,这场联欢会进行了()小时()分。
7. 早上第一节课从 7:55 开始,一节课 40 分钟,()时()分第一节课结束。
8. 亮亮从家到学校需 10 分钟,7 时 25 分要到校,他最晚要在()时()分从家出发。

二、聪明小法官。(对的打“√”,错的打“×”)(5 分)

1. 方方每天 6:20 起床,圆圆每天 6:25 起床,圆圆起床早。 ()
2. 钟面上,分针走 1 小格,秒针正好走 1 大格。 ()
3. 时针走半圈是 6 小时。 ()
4. 看一场电影的时间是 200 秒。 ()
5. 实验小学 10:55 上第四节课,每节课 40 分钟,那么下课时间是 11:35。 ()

三、我会选。(把正确答案的序号填在括号里)(10分)

- 一节数学课的时间是()。
A. 40 秒 B. 40 分 C. 40 小时
- 下面的活动中,在 1 分钟内可能完成的是()。
A. 跑 1000 米 B. 踢 50 下毽子 C. 写 300 个字
- 课外活动从下午 4:20 开始,经过 45 分钟结束,结束的时间是下午()。
A. 5:00 B. 5:10 C. 5:05
- 在学校举行的百米赛跑中,丁丁用了 18 秒,淘淘用了 17 秒,笑笑用了 20 秒,他们三人跑得最快的是()。
A. 丁丁 B. 淘淘 C. 笑笑
- 火车下午 3:15 出发,路上用了 4 小时 35 分钟,()到达。
A. 1 时 B. 1 时 20 分 C. 7 时 50 分

四、圈出合适的答案。(4分)

1. 静夜思

李白
床前明月光,
疑是地上霜。
举头望明月,
低头思故乡。

读一遍这首古诗

少于
1分钟

多于
1分钟

2.



完成作业

少于
1分钟

多于
1分钟

五、在○里填上“>”“<”或“=”。(9分)

2 分○120 秒

200 秒○2 分

40 分○1 时

130 分○2 时

1 时 20 分○80 分

100 分○1 时

1 分 20 秒○90 秒

7 分○70 秒

半小时○30 分

六、写一写。(写出钟面上所指的时间,并算出中间经过的时间)(10分)

1.



()



()



2.



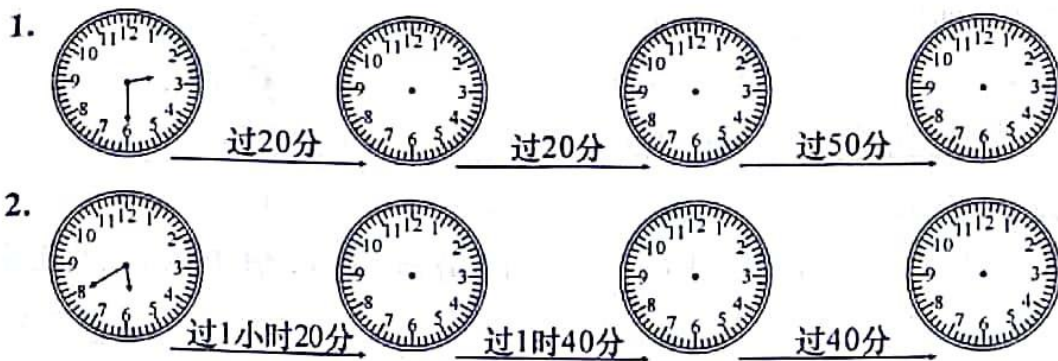
()



()



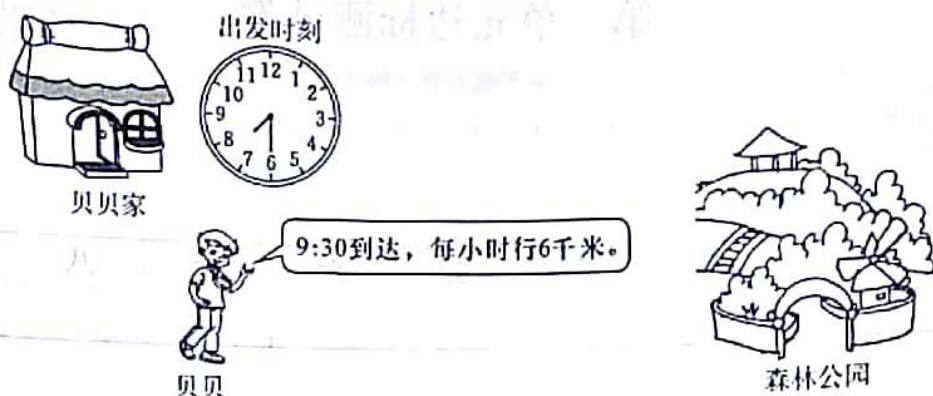
七、画一画。(12分)



八、解决问题。(29分)

1. 星期六牛牛从 8:45 开始写作业,一直到 10:00 才做完,他做作业一共用了多少时间?(5分)
2. 乐乐和爸爸晚上去看电影,他们 7:35 从家出发,走了 55 分,结果迟到了 1 分,电影是几时几分开始的?(6分)
3. 在一次短跑比赛中,欢欢跑了 1 分 23 秒,乐乐跑了 1 分 16 秒,他们谁跑得快?快几秒?(6分)

4. 秋游。(6分)



(1) 贝贝从家到森林公园用了多长时间? 路程是多少千米?

(2) 贝贝按原路返回时每小时行4千米, 要走多长时间?

5. 晶晶每3分钟可以做一朵纸花, 她从上午9:52开始一直做到10:19, 一共可以做多少个纸花? (6分)