

第一单元《时、分、秒》检测题(A卷)(人教版)

总分:100分

考试时间:70分钟

一、根据你的生活经验连一连(5分)

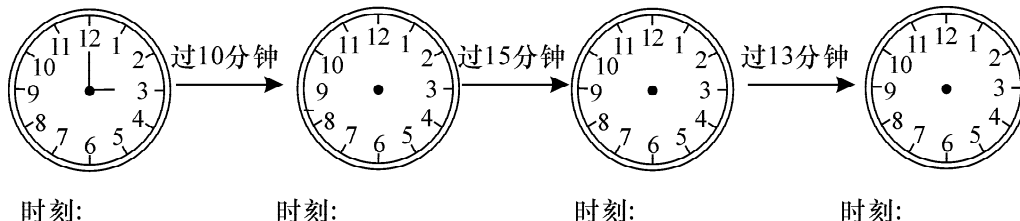
起床	吃早饭	上学	课间操	放学
----	-----	----	-----	----

8:10	7:30	7:50	12:00	10:30
------	------	------	-------	-------

二、算一算,填一填(每空1分,共9分)

- 7:30开始,7:35结束。明明穿衣服用的时间是_____。
- 8:10出发,8:25到校。明明上学用的时间是_____。
- 8:30开始,_____结束。上早读课用的时间是30分钟。
- 9:00开始,9:10结束。课间休息用的时间是_____。
- 10:00开始,10:30结束。大课间活动用的时间是_____。
- 中午_____开始,2:00结束。明明午休用的时间是1小时。
- 下午5:30开始,6:00结束。明明做游戏用的时间是_____。
- 晚上6:10开始,7:00结束。明明看少儿节目用的时间是_____。
- 晚上7:30开始,_____结束。明明做家庭作业用的时间是25分钟。

三、根据图中信息,画出各个钟面的时针和分针,并填出相应的时刻(8分)



四、换算时间单位(每空1分,共8分)

- | | |
|----------|------------|
| 2小时=()分 | 1小时5分=()分 |
| 1分=()秒 | 1分25秒=()秒 |
| 1小时=()分 | 1时30分=()分 |
| 2分=()秒 | 2分12秒=()秒 |

五、填上合适的时间单位(每空1分,共6分)

- 明明跑100米大约要用20()。
- 我读完一篇课文大约需要5()。
- 乘汽车从绵阳开到成都大约需要90()。
- 我喝完一杯牛奶大约需要25()。
- 我每天完成家庭作业大约需要半()。
- 我每天锻炼身体的时间大约有100()。

六、在圆圈里填上“>”、“<”或“=”(每空1分,共8分)

- | | |
|------------|-----------|
| 150分钟○2小时 | 60分钟○1小时 |
| 3小时○200分钟 | 100秒钟○2分钟 |
| 600分钟○10小时 | 150秒钟○2分钟 |

2 小时 15 分钟○215 分钟

4 分钟 40 秒○300 秒

七、解决问题(56 分。第 1.2.3 小题 12 分,4 小题 20 分)

1. 我们学校早上 8:30 开始上课,丽丽 8:15 到校,这时离上课还有多长时间? (12 分)

2. 电影开影的时间是晚上 7:40,小琴和妈妈想提前 20 分钟到达。请问她们应该什么时候到电影院? (12 分)

3. 小鹏是学校的乒乓球苗子,他每天训练非常刻苦。下午训练结束的时间是 7:20,他总还要加时训练 30 分钟,请问他什么时间训练结束? (12 分)

4. T312 次列车原本到达的时间应该是 9:10,因故晚了 27 分钟。请问这次列车是什么时候到达的? (20 分)

第一单元《时、分、秒》检测题(B卷)(人教版)

总分:100分

考试时间:70分钟

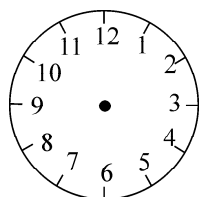
一、填空题(每空0.5分,共8分)

1. 分针从一个数字走到下一个数字是()分钟。
2. 钟面一大格是()分钟,分针走一圈是()分钟,也就是()时。
3. 秒针走一小格是()秒,走一圈是()秒,也就是()分。
4. 元旦联欢会上午9:00开始,开了2个小时,()结束。
5. 小冬在家里完成家庭作业从下午6:10开始,7:00结束,小冬一共做了()分钟。
6. 2时=()分 ()秒=2分
1时=()分 140分=()时()分
()分=180秒 1时10分=()分

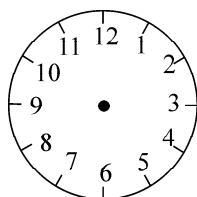
二、在()里填上“>”、“<”、或“=”(每空1分,共6分)

- 70分()1小时 2分()20秒 70秒()1分
3分()160秒 2时10分()130分 60秒()60分


三、把下面的时间正确地画在钟面上(每个2分,共8分)




9: 00



8: 45



12: 35



11: 50

四、连线题(5分)

- | | |
|---------|------|
| 小明眨一次眼睛 | 8小时 |
| 妈妈工作一天 | 40分钟 |
| 上一节课 | 11秒 |
| 小冬跑50米 | 2小时 |
| 看一部电影 | 1秒 |

五、在()里填上合适的时间单位(每小题1分,共6分)

1. 跑100米大约需要15()
2. 我们呼吸一次大约用2()。
3. 爸爸每天工作8()。
4. 一节课的时间是40()。
5. 小林刷牙大概需要2()。
6. 我们每天大约睡9()。

六、生活中的运用(12分)

学校作息时间表
上午:8:30~12:00
下午:2:00~5:00

1. 学校上午上课时间是多长?

2. 我们中午可以休息多长时间?

3. 我们一天在学校的时间总共是多少?

七、解决问题(共 55 分,1、2、3、4、5 小题各 5 分,6、7、8 小题各 10 分)

1. 小丽上午 8:20 到校,中午 11:50 放学。她上午在学校的时间有多长?

2. 体育课上跑 200 米,小红用了 55 秒,冬冬用了 1 分 10 秒,冬冬比小红多用了多少秒?

3. 小明从家到学校要走 15 分钟,他每天早上要在 8:30 赶到学校,小明最迟几时几分从家里出发才不会迟到?

4. 一列从绵阳开往成都的汽车在下午 2:30 到达成都,汽车从绵阳到成都需要 1 时 30 分,请问汽车什么时间从绵阳出发?

5. 小林 6:40 起床,小洋 7:00 起床,谁起得晚,晚多长时间?

6. 李教师上午 8:00 到校上班,11:50 下班,下午 2:00 上班,5:30 下班,李教师上午在校多长时间? 一天在校多长时间?

7. 一场电影从 9:40 开始放映,经过 2 时 30 分结束。这场电影是什么时候结束的?

8. 小明每天都练毛笔字,今天他是 6 时 30 分开始,7:10 分结束的。小明练毛笔字共用了多少时间?