

# 第 1 单元 检测卷

一、填空题。(第 4 题 10 分,第 6、8 题各 1 分,其余每空 1 分,共 34 分)

1. 钟面上最长最细的针是( )针,它在钟面上走 1 小格是( )秒,走一圈是( )秒,也就是( )分。

2. 秒针从“3”走到“7”,经过了( )秒;分针从“12”走到“3”是( )分。

3. 在括号里填上合适的时间单位。

(1)唱一首歌大约需要 4( )。 (2)小明跑 100 米用了 20( )。

(3)爸爸每天工作 8( )。 (4)眨一下眼睛用了 1( )。

(5)小华每天睡觉约 9( )。 (6)小红吃一顿饭约用 20( )。

4. 在括号里填上合适的数。

4 分 = ( )秒      2 时 = ( )分      180 分 = ( )时

240 秒 = ( )分      2 分 20 秒 = ( )秒      1 时 40 分 = ( )分

150 秒 = ( )分( )秒      30 秒 + 30 秒 = ( )分

1 分 - 25 秒 = ( )秒      1 时 10 分 - 40 分 = ( )分

5. 在  $\bigcirc$  里填上“>”“<”或“=”。

2 分  $\bigcirc$  100 秒      4 时  $\bigcirc$  400 分      300 秒  $\bigcirc$  5 分

250 分  $\bigcirc$  5 时      75 秒  $\bigcirc$  1 分      98 分  $\bigcirc$  1 时 30 分

6. 小聪从 5:20 开始写作业,15 分钟写完,这时是( )时( )分。

7. 妈妈上午 9:20 进入超市,10:00 从超市出来,她购物用了( )分钟。

8. 电影 8:00 开始,小明从家到电影院要走 15 分钟,小明最晚( )时( )分从家出发才不会错过电影开场的时间。

9. 小明每天早操从 7:55 开始到 8:20 结束,小明早操的时间为( )分钟;早操结束后再过 30 分钟开始上第一节课,第一节课开始的时间为( )。

10.

文具店营业时间
早 9:00 开门
晚 8:00 关门

现在是早上 8:35,再过( )分钟才开门呢!



二、判断题。(对的画“√”,错的画“×”)(4分)

1. 秒针在钟面上走一圈是1时。 ( )
2. 200分等于2时。 ( )
3. 小红花了60秒写了一篇作文。 ( )
4. 现在是8时45分,再经过25分就是9时。 ( )

三、选择题。(把正确答案的序号填在括号里)(10分)

1. 1秒可以( )。

A. 读一篇文章                      B. 写一个字                      C. 吃一顿饭


2. 半小时就是( )。

A. 30秒                      B. 50分钟                      C. 30分钟

3. 三名同学跑200米的成绩如右表,( )跑得最快。

姓名	丁丁	明明	小小
成绩	52秒	37秒	43秒

A. 丁丁                      B. 明明                      C. 小小

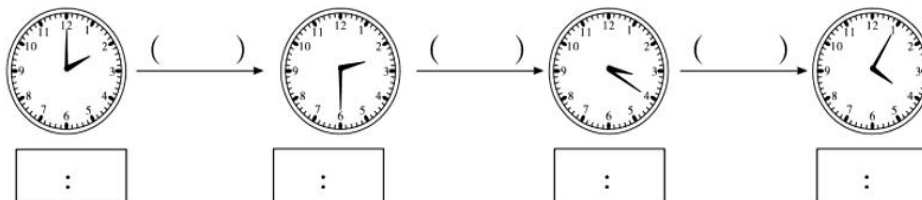
4.  如图,再过10分钟是( )。

A. 7:15                      B. 7:25                      C. 9:15

5. 一辆客车本应该10:25到达,现在要晚点15分钟,( )能到达。

A. 10:10                      B. 10:40                      C. 11:10

四、先写出下面各钟面上的时刻,再算出各经过的时间。(7分)



五、(原创题)新新踢足球。(12分)



1. 新新( )时( )分开始踢球,( )时( )分结束踢球,他踢了( )分钟。

2. 新新踢完球走回家,在( )时( )分回到家中,从足球场回到家的路上用了( )分钟。

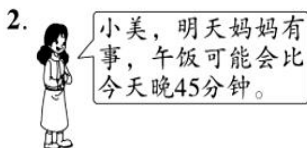
3. 一场足球比赛的时间一般分为两个相等的半场,每半场45分钟,一共是( )小时( )分。

小知识

足球运动最早的起源在中国。在春秋战国时期就出现了“蹴(cù)鞠(jū)”或“塌(tā)鞠”。

六、解决问题。(33分)

1. 欢欢做家庭作业用了35分钟,正好是晚上7时55分完成。欢欢是晚上几时几分开始做家庭作业的?(3分)



你知道小美明天可能什么时候吃午饭吗?(4分)

3. 一部动画片第一集开始和结束的时间如下:



这一集有多长时间?(4分)

4. 王师傅1小时可以做8个零件,他从上午7:30工作到上午11:30,一共可以做多少个零件?(4分)

5. 下面是红星小学三(1)班某天上午的课程安排表。(12 分)

数学	8:00—8:40
美术	8:50—9:30
眼保健操	9:35—9:50
语文	_____
音乐	10:50—11:30

(1) 数学课上了多长时间?

(2) 上午 9:45 三(1)班的同学们在  
( )。

(3) 你能发现上课的规律吗? 请在表中填写出语文课的上课时间。

6. 去科技展览馆的公共汽车每 15 分钟发一辆, 第一辆 6:45 发车。先算一算, 再填一填。(6 分)

发车辆数	第一辆	第二辆	第三辆	第四辆
发车时间	6:45			

附加题。(10 分)

张叔叔的表快了 20 分钟, 王叔叔的表慢了 10 分钟, 他们都按自己的表 8:00 到达公司上班, 谁先到?