

第一周全能测试卷

时、分、秒


时间:90 分钟

满分:100 分

题 号	一	二	三	四	五	六	总 分
得 分							

一、开动脑筋，认真填空。（共 18 分）

1.



(1) 钟面上有()个大格,()个小格。

(2) 时针从 12 起走到 2, 要走()小时;

时针从 3 起走到 6, 走了()小时;

时针从 4 起走到 10, 走了()小时。

(3) 分针从 12 起走到 5, 要走()分;

分针从 1 起走到 4, 走了()分;

分针从 3 起走到 9, 走了()分。

2. 小丽早上 6:20 起床, 6:55 上学, 共用了()分钟。如果第二天她少用了 5 分钟, 可以在(:)上学。

3. 1 时 = ()分 1 分 = ()秒 3 时 = ()分

4 分 = ()秒 240 秒 = ()分 120 分 = ()时

4. (创新题) 在○里填上“>”“<”或“=”。

5 分○500 秒 240 秒○4 分 140 秒○1 分 40 秒

300 秒○6 分 1 时○69 分 2 时 25 分○125 分

二、仔细分辨，合理选择。(共8分)



- 分针从6走到9,就是()。
A. 3 分钟 B. 9 分钟 C. 15 分钟
- 爸爸出差,要坐 9:00 的火车,他提前 5 分钟到了车站,他到达车站时是()。
A. 8:55 B. 9:05 C. 8:05
- 1 分钟能跑()。
A. 3 米 B. 30 米 C. 300 米
- 钟面上时针已经走过 3,分针指着 5,这时是()。
A. 3:50 B. 3:25 C. 3:15

三、连一连。(12分)

4:15

9:05

6:55

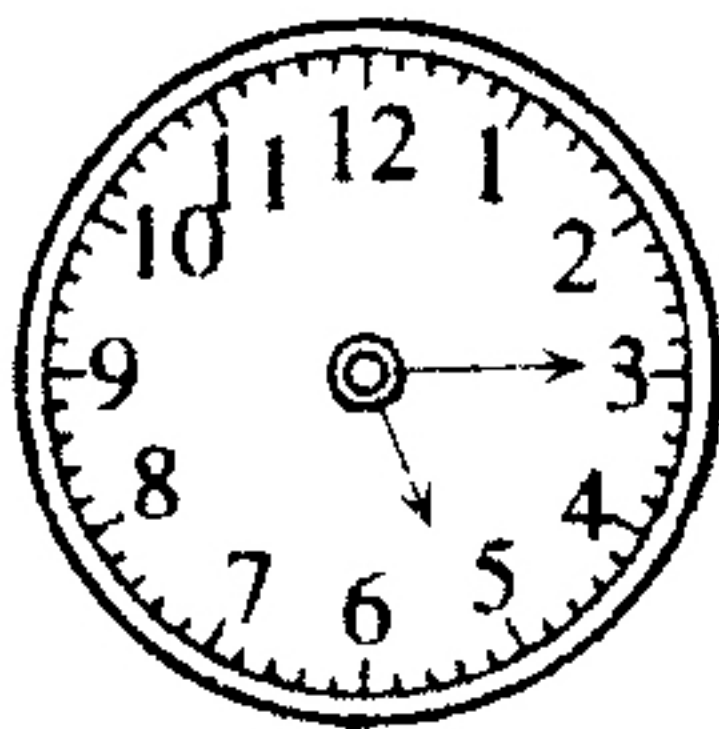
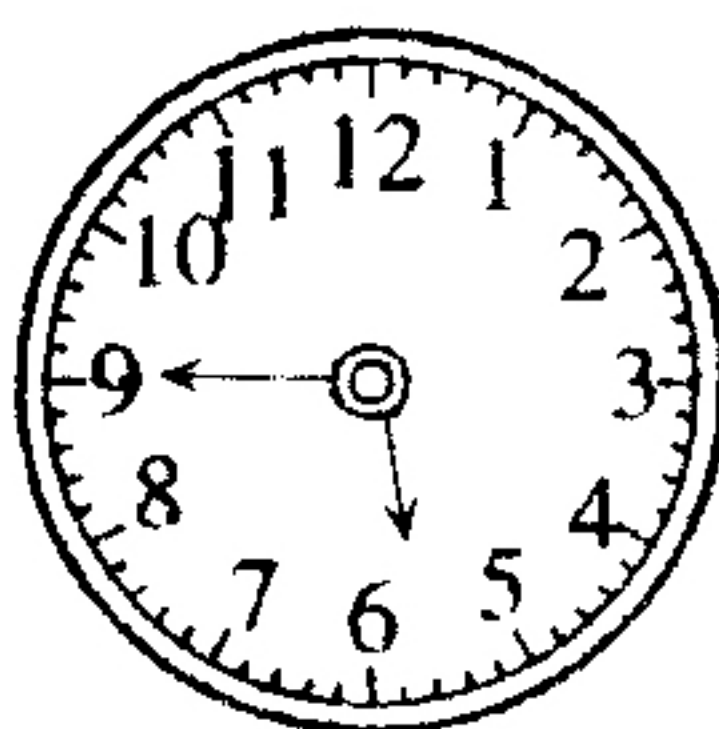
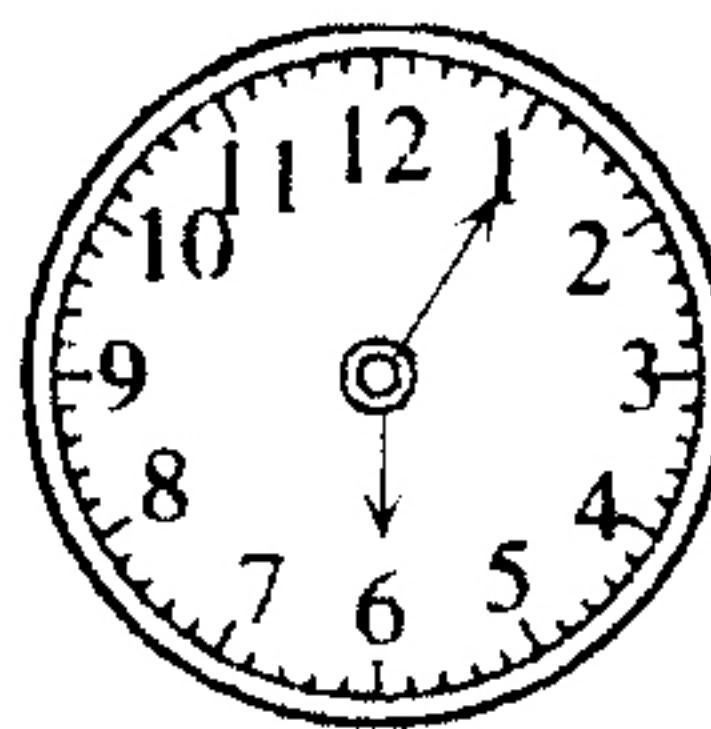





差5分7时

4时15分

9时5分

四、看一看，填一填。(共16分)

1.  $\xrightarrow{(30\text{分})}$  $\xrightarrow{(\quad)}$ 
5:15 : :


2.  $\xrightarrow{(\quad)}$  $\xrightarrow{(\quad)}$ 
: : :

五、走进生活，解决问题。（共38分）

1. 小狗贝贝7时30分从家里出发，8时25分到达它的好友乐乐家，它在路上用了多长时间？（7分）

2. 京京从1楼上到3楼用了20秒，按照这个速度，他从1楼到6楼要用多长时间？（7分）

3. （创新题）丽丽是从什么时间开始画画的？（8分）



4. 小芳姐姐在西郊任教。她每天早晨 7:30 上课,宿舍离学校 25 分钟的路程。小芳姐姐最迟几时几分从宿舍出发? (8 分)

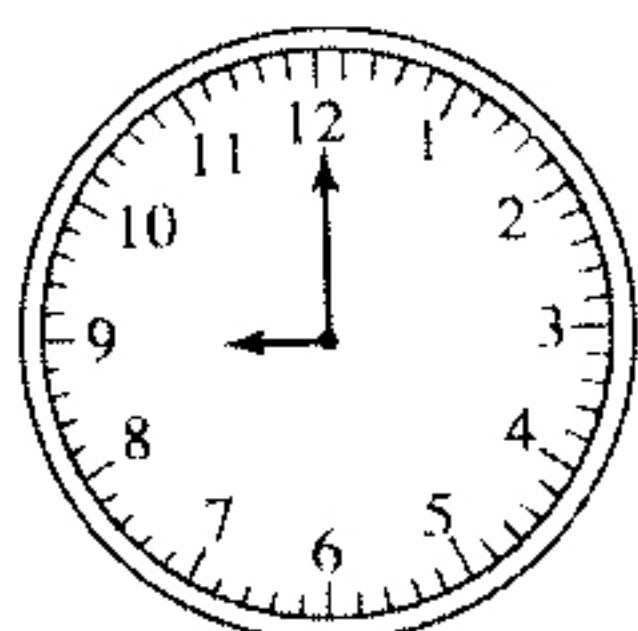


5. 学校组织家长听心理健康讲座,讲座下午 2:30 开始,时间为 1 时 20 分。
(8 分)

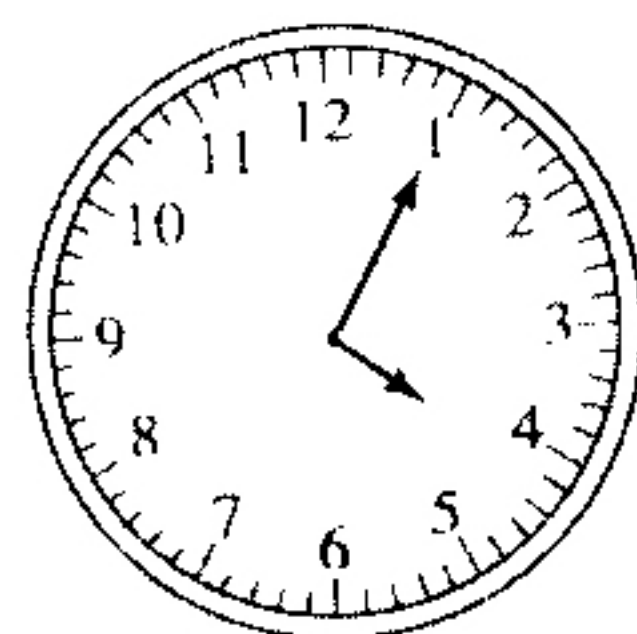


六、智慧课堂。(8 分)

先看钟面上的时刻,再填空。



再过()分就是 9 时 40 分。



再过()分就是 4 时 35 分。