

第一学期

第一单元(大数的认识)测试A卷

题号	一	二	三	四	五	六	总评
自测等级							

一、填空题：

- 在整数数位顺序表中,从个位起,第9位上的计数单位是( ),它的前一位上的计数单位是( ),它们之间的关系是( )。
- 一个数的最高位是十万位,这个数是( )位数。
- 10个一千是( );10个一百万是( );一亿有10个( );七百万有( )个一百万,或者有( )个一万。
- 200609060中,2在( )位上,表示有( )个( );9在( )位上,表示有( )个( )。
- 六亿八千万零九十九写作( ),这个数再加1是( )。
- 地球和太阳之间的平均距离是149600000千米,把它改写成以万作单位的数是( )千米,把它四舍五入到亿位约是( )千米。
- 与345000相邻的两个数是( )和( )。
- 在身份证号码330105198403211368中,“330105”指的是浙江省杭州地区的编码,“19840321”是指这个人出生在1984年3月21日,后四位是其他编号,那么身份证号码是“330105198612071312”的这个人的生日是( )年( )月( )日。
- 截止到2005年2月4日,印度洋海啸死亡人数达二十九万二千二百人,请你写出这个数:( )。
- 在○里填上“>”、“<”或“=”。

- (1) 100000 ○ 99999      (2) 860001 ○ 857000  
(3) 59万 ○ 599999      (4) 20000万 ○ 2亿

二、判断题：

- 21400000000克=214亿克。 ( )
- 我家所在的社区朝晖小区人口达10亿。 ( )
- 我一步走半米,走一亿步就是五千万米。 ( )
- 最小的九位数是111111111。 ( )
- 一个五位数与一个四位数的差是1,这个五位数是10000。 ( )

三、选择题：

- 在2004后面添上( )个0,这个数是20040万。  
A. 3      B. 4      C. 5      D. 6
- 大于25万,小于26万的自然数有( )个。  
A. 0      B. 9999      C. 1万      D. 无数
- 下面四个数中,一个0也不读的数是( )。  
A. 2040030      B. 1030000      C. 200050      D. 2047000000
- 下列各数中,四舍五入后是2亿的数是( )。  
A. 249990000      B. 20001230      C. 2400万      D. 19606789

四、在□里填上最大的数：

23 □ 995 ≈ 23万      25 □ 0080000 ≈ 26亿  
9 □ 99998 < 9989999      385020 > 3 □ 5019

五、按要求用三个6和三个0写出下面各数：

- 最大的数。
- 最小的数。
- 最接近60万的数。
- 一个0也不读的数。
- 只读一个0的数。

六、算一算：(可以口算、笔算或用计算器算)




2004+198=      369+789=      37862-4205=  
125×64=      5×204=      495÷55=  
805+803+801+799+797+795=      1867+53+133+46+101+67-567=




第一单元(测量)测试B卷

题号	一	二	三	四	总评
自测等级					

一、填空题：

- 把下列单位分类,按从小到大的顺序排列。  
千米、克、毫米、吨、分米、米、千克、厘米  
长度单位:( ) 质量单位:( )
- 一袋大米重 100 千克,( )袋大米重 1 吨。  
一头牛重 500 千克,( )头牛重 1 吨。  
操场的一圈长度为 200 米,( )圈是 1 千米。
- 填上适当的单位。

 约长 28( )  每小时约行 90( )  重 2( )

 约重 100( )  厚 1( )  重 250( )

- ( )米 + 23 米 = 50 米  
1 千克 - ( )克 = 400 克
- 65 厘米 - 25 厘米 = ( )毫米  
( )千克 - 350 千克 = 650 千克

二、选择题：

- ( )的质量可用吨作单位。  
A. 一头大象 B. 一个冬瓜 C. 一袋大米 D. 一头肥猪
- 陈虹比李莹高 5( )。  
A. 米 B. 千米 C. 厘米 D. 分米
- 下列小动物中,( )是最轻的,( )最重的。  
A. 小老鼠 B. 小狗 C. 大象 D. 小绵羊
- 用一把 20 厘米长的直尺去量 10 米长的绳子,需要量( )次。  
A. 5 B. 50 C. 500 D. 5000

三、巧填单位：

- 1( ) - 9( ) = 1( )
- 1( ) - 99( ) = 1( )
- 15( ) + 85( ) = 1( )
- 400( ) + 600( ) = 1( )

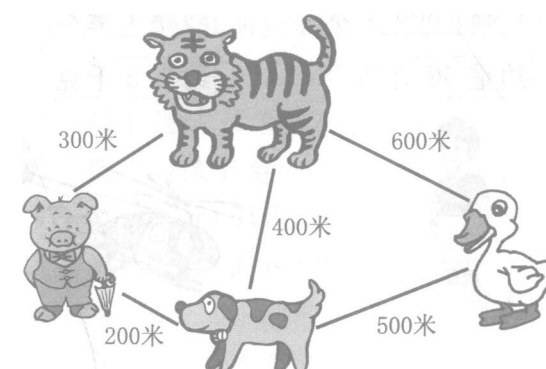
四、应用题：

- 一辆货车的载重量是 3 吨。现有下面 4 个机器零件,这辆货车能一次运完这些零件吗?

450 千克 600 千克 800 千克 750 千克

- 乐购超市运进 1 吨蔬菜,已经卖出 600 千克,还剩多少千克? 卖出的蔬菜比剩下的蔬菜多多少千克?

3.



- 小猪经过小老虎家,到小鸭子家做客,一共走了多少米?
- 小狗从家出发,到小老虎家,可以走几条路? 怎样走最近?

- 一根绳子长 10 米,把绳子剪成每段长为 1 米的小段,一共需要剪多少次?