

第二单元综合测试卷

——位置

(时间:60 分钟 满分:100 分+10 分)


① 考生要写清校名、姓名和班级
② 不在试卷上做任何标识
③ 字迹要清楚,卷面要整洁

注意事项


线

题号	一	二	三	四	五	六	七	总分	附加题
得分									

一 想一想,圈一圈。(18 分)




- (1) 羽毛球在太阳的(上)下)面。
(2) 果汁在伞的(上)下)面。
(3) 羽毛球在果汁的(左)右)面。
(4) 蛋糕在伞的(左)右)面。




- (1) 兔子在猫的(前)后)面,兔子在乌龟的(前)后)面。
(2) 狗的前面是(兔子)乌龟)。
(3) 乌龟在狗的(前)后)面。
(4) 现在是(狗)猫)跑得最快。

二 看一看,填一填。(22 分)



- (1) 水壶在花瓶的(上)面;
(2) 碗在苹果的(下)面;
(3) 杯子在水壶的(左)边;
(4) 花瓶在鱼缸的(右)边。



2. (1) 粉笔盒在教科书的(上)面。


(2) 教科书在粉笔盒的(下)面。

(3)  在  的(后)面。

(4)  在  的(前)面。


3. 上、下楼梯时应靠(右)侧行走。

4. 写字时,我们一般用(右)手拿笔,用(左)手压本子。



三 将正确答案的序号填在括号里。(15 分)

1.



鸟的前面是(①)。

2.



① 左

② 右

3. △在□的右边的是(②)。

① △□

② □△

③

4. ○在□的下边的是(③)。

① □○

② ○□

③

5. ○在△的左边的是(③)。


①



② △○



③ ○△



四 画一画。(20 分)



1.




在  的右边画  ；

在  的上面画  ；


在  的左边画  ；

在  的下面画  。

2. 在女孩左边画一朵花，在女孩的右边画一个()。



3. 在飞机的下面画两朵白云，在小鸟的上面画一朵白云。在公鸡的前面画一朵花，在房子的右边画一棵树。



五 把小朋友们的名字写在相应的位置旁。(8分)

小明的前面是小红，小红的前面是小冬，小冬的左边是小南，小南的后面是小玉，小明的左边是小云，小红的右边是小军，小军的前面是小雪，小平的左边是小明。



(小平)



(小明)



(小云)



(小军)



小红



(小玉)



(小雪)

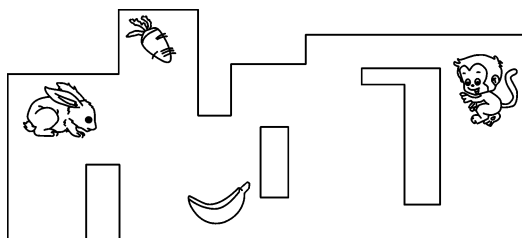


(小冬)




(小南)

六 请帮小动物们找到吃的。(12 分)



1. 先向(右)走,再向(上)走就可以吃到 。
2. 先向(下)走,再向(左)走就可以吃到 。

七 都要靠右走,谁走错了?(5 分)



小丫



智力冲浪(附加题)

小朋友们,你们知道吗? 车辆必须靠右行驶。下面的哪些车辆违反了交通规则? 请把它们圈出来。(10 分)

