



## 第二单元检测

wǒ huì tián yì tián

一、我会填一填。

1. 笔算加减法都要把( )数位( ),都从( )算起。
2. (2018 洛阳)比 56 多 9 的数是( ),比 72 少 40 的数是( )。
3. 在  $\square$  里填上合适的数。

$$56 - 35 = \boxed{\phantom{00}}1$$

$$27 + 43 = \boxed{\phantom{00}}0$$

$$48 - 29 = \boxed{\phantom{00}}9$$

$$75 - 46 = \boxed{\phantom{00}}9$$

$$29 + 44 = \boxed{\phantom{00}}3$$

$$29 + 36 = \boxed{\phantom{00}}5$$

4. 在○里填上“>”“<”或“=”。

$45 - 7 \bigcirc 36$

$50 - 38 \bigcirc 12$

$$55 + 9 \bigcirc 68 - 13$$

$$93 - 85 \bigcirc 18 + 4$$

$64 - 29 \bigcirc 45$

$$90 - 41 + 32 \bigcirc 90$$

5. (2018 衡水) 小黑猫钓了 40 条鱼, 小白猫比小黑猫少钓了 13 条鱼, 两只小猫共钓了( )条鱼。
6. (2018 北京) 饭店买来下面这些蔬菜, 请你估一估, 买这三样最少要带( )张十元钱。



28 元



42 元



18 元

xuǎn yì xuǎn

bǎ zhèng què dá àn de xù hào tián zài kuò hào lǐ

二、选一选。(把正确答案的序号填在括号里)

- [illegible]

① 16

②64

③96



上册 中册 下册

80 元

jì suàn

### 三、计算。

1. 直接写出得数。

$$97 - 6 =$$

$$25 + 10 =$$

$$6 + 46 =$$

$$57 + 20 - 17 =$$

$$36 + 4 =$$

$$63 - 5 =$$

$30 + 12 =$

$$86 - (40 - 4) =$$



2. 用竖式计算。

$29 + 63 =$

$45 - 16 + 28 =$

$64 + (58 - 32) =$

$84 - 59 =$

$62 - 18 - 37 =$

$73 - (28 + 28) =$

jiě jué wèn tí  
四、解决问题。

1.





二(1)班有男生 17 人,  
女生 15 人。

二(2)班有 28 人。



(1) 二(1)班一共有多少人?

(2) 二(1)班比二(2)班多多少人?

2. 买一辆玩具  和一个 , 能节省 10 元钱吗? 应付多少元?



满 80 元减 10 元。



35 元



29 元



47 元

3. 菲菲和乐乐进行百米游泳比赛。乐乐游了多少米?

我离终点还有 15 米。



我比菲菲落后 4 米。



## 第二单元检测

wǒ huì tián yì tián

## 一、我会填一填。

1. 笔算加减法都要把(相同)数位(对齐),都从(个位)算起。
2. (2018 洛阳)比 56 多 9 的数是(65),比 72 少 40 的数是(32)。
3. 在□里填上合适的数。

$56 - 35 = \boxed{2}1$

$27 + 43 = \boxed{7}0$

$48 - 29 = \boxed{1}9$

$75 - 46 = \boxed{2}9$

$29 + 44 = \boxed{7}3$

$29 + 36 = \boxed{6}5$

4. 在○里填上“>”“<”或“=”。

$45 - 7 \bigcirc 36$

$50 - 38 \bigcirc 12$

$55 + 9 \bigcirc 68 - 13$

$93 - 85 \bigcirc 18 + 4$

$64 - 29 \bigcirc 45$

$90 - 41 + 32 \bigcirc 90$

5. (2018 衡水)小黑猫钓了 40 条鱼,小白猫比小黑猫少钓了 13 条鱼,两只小猫共钓了(67)条鱼。
6. (2018 北京)饭店买来下面这些蔬菜,请你估一估,买这三样最少要带(9)张十元钱。



28 元



42 元



18 元

xuǎn yì xuǎn

bǎ zhèng què dá àn de xù hào tián zài kuò hào lǐ

## 二、选一选。(把正确答案的序号填在括号里)

1. (2017 济宁)比 39 多 12 的数是(③)。

①27

②41

③51

2. 小伟身高 89 厘米,比小刚矮 6 厘米,小刚身高(②)厘米。

①83

②95

③87

3. 国庆促销,每套书优惠 16 元。买这套《百科全书》要付(②)元。

①16

②64

③96



上册 中册 下册

80 元

jì suàn

## 三、计算。

1. 直接写出得数。

$97 - 6 = 91$

$25 + 10 = 35$

$6 + 46 = 52$

$57 + 20 - 17 = 60$

$36 + 4 = 40$

$63 - 5 = 58$

$30 + 12 = 42$

$86 - (40 - 4) = 50$



2. 用竖式计算。

$29 + 63 = 92$

$$\begin{array}{r} 29 \\ + 63 \\ \hline 92 \end{array}$$

$45 - 16 + 28 = 57$

$$\begin{array}{r} 45 \\ - 16 \\ \hline 29 \\ + 28 \\ \hline 57 \end{array}$$

$64 + (58 - 32) = 90$

$$\begin{array}{r} 58 \\ - 32 \\ \hline 26 \end{array} \quad \begin{array}{r} 64 \\ + 26 \\ \hline 90 \end{array}$$

$84 - 59 = 25$

$$\begin{array}{r} 84 \\ - 59 \\ \hline 25 \end{array}$$

$62 - 18 - 37 = 7$

$$\begin{array}{r} 62 \\ - 18 \\ \hline 44 \\ - 37 \\ \hline 7 \end{array}$$

$73 - (28 + 28) = 17$

$$\begin{array}{r} 28 \\ + 28 \\ \hline 56 \end{array} \quad \begin{array}{r} 73 \\ - 56 \\ \hline 17 \end{array}$$

jiě jué wèn tí  
四、解决问题。

1.

二(1)班有男生 17 人,  
女生 15 人。

二(2)班有 28 人。



(1) 二(1)班一共有多少人?



$17 + 15 = 32(\text{人})$

答:二(1)班一共有 32 人。

(2) 二(1)班比二(2)班多多少人?

$32 - 28 = 4(\text{人})$

答:二(1)班比二(2)班多 4 人。

2. 买一辆玩具  和一个 , 能节省 10 元钱吗? 应付多少元?

$35 + 47 = 82(\text{元})$

$82 > 80$

$82 - 10 = 72(\text{元})$

答:能节省 10 元钱, 应付 72 元。



满 80 元减 10 元。



35 元



29 元



47 元

3. 菲菲和乐乐进行百米游泳比赛。乐乐游了多少米?

$100 - 15 - 4 = 81(\text{米})$

答:乐乐游了 81 米。

我离终点还有 15 米。

我比菲菲落后 4 米。

