

## 第二单元素质测评试卷

(总分:100 分 时间:60 分钟)

题 号	一	二	三	四	五	六	七	八	九	总 分
得 分										

### 一、填一填。(15 分)

1. 笔算两位数减两位数,要记住三点:①相同数位要( **对齐** );②从( **个** )位减起;③个位上不够减,从( **十** )位退 1。
2. 一个数是 70,另一个数是 24,这两个数的和是( **94** ),差是( **46** )。
3. 明明有 60 元,买学习用品花去 24 元,买玩具花去 18 元,明明还剩( **18** )元。
4. 比 45 少 18 的数是( **27** ),比 23 多 19 的数是( **42** )。
5. 最大的两位数与最小的两位数的差是( **89** )。
6. 在括号里填上适当的数。






$$( \mathbf{65} ) - 25 = 40 \quad ( \mathbf{41} ) - 17 = 24 \quad ( \mathbf{24} ) + 39 = 63$$

$$( \mathbf{77} ) - 29 = 48 \quad 35 + ( \mathbf{8} ) = 43 \quad 90 - ( \mathbf{53} ) = 37$$






### 二、将正确答案的序号填在括号里。(8 分)

1. 明明身高 94 厘米,小欣比明明矮 5 厘米,小欣的身高是( **B** )厘米。  
A. 99                      B. 89                      C. 84
2. 被减数是 59,两个减数都是 16,差是( **C** )。  
A. 43                      B. 32                      C. 27
3. 与  $63-29$  的结果相等的算式是( **B** )。  
A.  $80-54$                 B.  $72-38$                 C.  $28+16$
4. 一辆大客车限坐 64 人,二(1)班有 33 人,二(2)班有 35 人,两个班( **B** )合乘一辆车。  
A. 可以                      B. 不可以

### 三、接力赛。(算一算)(8分)

1.  +9    +28    -35    +21   

26	35	63	28	49
----	----	----	----	----

2.   $-59$    $+31$    $-52$    $+67$  

88 29 60 8 75

四、在 ○ 里填上“>”“<”或“=”。(6 分)

$$80-38 \bigcirc 75-19$$

$$48+12 \bigcirc 65-19$$

$$60 \bigcirc 43+27$$

$$35 \bigcirc 25+9$$

$$18+81 \bigcirc 89$$

$$95-76 \bigcirc (=) 47-28$$

五、下面各题对的画“√”，错的画“×”并改正。（6分）

1.      4   2   改正:

$$\begin{array}{r} + \quad 3 \quad 8 \\ \hline \quad 7 \quad 0 \\ + \quad 1 \quad 8 \\ \hline \quad 8 \quad 8 \end{array}$$

$$\begin{array}{r} 42 \\ + 38 \\ \hline 80 \\ + 18 \\ \hline 98 \end{array}$$





$$(\times)$$





2.            9   0   改正:    .  
              - 3   7                **9 0**  
                                      **- 3 7**  
              6   3                **5 3**  
              + 2   5                **+ 2 5**  
                                      **7 8**  
              4   8




$$\begin{array}{r} \overset{\cdot}{9} \ 0 \\ - \ 3 \ 7 \\ \hline 5 \ 3 \\ + \ 2 \ 5 \\ \hline 7 \ 8 \end{array}$$

 $(\times)$ 

六、把算式与相应的得数连起来。(7分)

  $65+17$ 
  $86-47$ 
  $27+16$ 
  $94-13$

 43
  81
  82
  39

  $62-26+45$ 
  $23+41+18$ 
  $80-20-17$

## 七、用竖式计算。(18分)

$39+27=66$

$$\begin{array}{r} 39 \\ + 27 \\ \hline 66 \end{array}$$

$89-36=53$

$$\begin{array}{r} 89 \\ - 36 \\ \hline 53 \end{array}$$

$43+18+26=87$

$$\begin{array}{r} 43 \\ + 18 \\ \hline 61 \\ + 26 \\ \hline 87 \end{array}$$

$45-21+39=63$

$$\begin{array}{r} 45 \\ - 21 \\ \hline 24 \\ + 39 \\ \hline 63 \end{array}$$


$96-(37-24)=83$

$$\begin{array}{r} 37 \\ - 24 \\ \hline 13 \end{array} \quad \begin{array}{r} 96 \\ - 13 \\ \hline 83 \end{array}$$

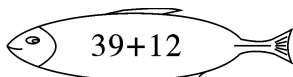
$73+(65-43)=95$

$$\begin{array}{r} 65 \\ - 43 \\ \hline 22 \\ + 73 \\ \hline 95 \end{array}$$

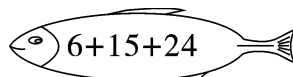
## 八、将下列算式按得数从大到小排列。(填序号)(6分)



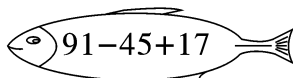
①



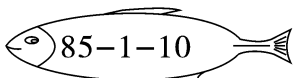
②



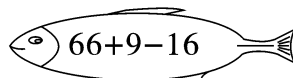
③



④



⑤



⑥

$$\boxed{⑤} > \boxed{④} > \boxed{⑥} > \boxed{②} > \boxed{③} > \boxed{①}$$

## 九、解决问题。(26分)

1. 学校举行体操比赛。



男、女生一共有90人参加。

女生有51人参加。



男生有多少人参加?(5分)

【答案】 $90-51=39$ (人)

答:男生有39人参加。

2. 运了56箱饮料。 运了37箱饮料。



(1) 两车一共运了多少箱饮料? (4 分)

**【答案】** $56+37=93$ (箱)

答: 两车一共运了 93 箱饮料。

(2) 第一辆车比第二辆车多运多少箱饮料? (4 分)

**【答案】** $56-37=19$ (箱)

答: 第一辆车比第二辆车多运 19 箱。

3. 一共要运 80 根萝卜。

剩下的我来运。



小灰兔要运多少根萝卜? (6 分)

**【答案】** $80-25-27=28$ (根)

答: 小灰兔要运 28 根萝卜。

4. 实验小学美术小组有 28 人, 音乐小组比美术小组多 14 人。美术小组和音乐小组一共有多少人? (7 分)

**【答案】** $28+14+28=70$ (人)

答: 美术小组和音乐小组一共有 70 人。