

## 第二单元测试

(时间:40分钟 满分:100分)

### 一、填一填。(19分)

- 55与27的和是( ),( )比280多450。
- 公园里杨树有489棵,柳树有312棵。这个公园里的杨树和柳树大约一共有( )棵。
- 在○里填上“>”“<”或“=”。

$15 + 37 \bigcirc 12 + 31$

$66 - 18 \bigcirc 42 + 5$

$350 + 200 \bigcirc 350 + 20$

$150 + 230 \bigcirc 230 + 150$

$407 + 278 \bigcirc 700$

$342 - 119 \bigcirc 200$

- 算一算,填一填。

		
原价 630 元	原价( )元	原价 75 元
现价 470 元	现价 320 元	现价( )元
便宜( )元	便宜 90 元	便宜 16 元

- 估一估,下列各式的得数分别最接近几百?

$123 + 399 ( )$

$426 + 288 ( )$

$275 + 226 ( )$

$403 + 481 ( )$

$998 - 270 ( )$

$512 - 396 ( )$

- 一艘客轮上原有乘客260人,中途下船190人,又上船170人,现在这艘客轮上有乘客( )人。

### 二、选一选。(将正确答案的序号填在括号里)(10分)

- 下面的算式中,( )的得数比500大。  
A.  $260 + 190$  B.  $290 + 190$  C.  $390 + 210$
- $486 + 217$ 的估算结果是( )。  
A. 600 B. 700 C. 800
- 13比( )少68。  
A. 75 B. 81 C. 55
- 56个十与29个十的差是( )。  
A. 27 B. 270 C. 370
- 下列说法正确的是( )。  
A.  $505 + 197$ 可以用 $500 + 100$ 来估算  
B. 最小的三位数与最小的两位数相差90  
C. 实际的结果一定小于估算的结果

### 三、估一估,连一连。(5分)

$608 - 194$

$124 + 326$

$382 + 241$

$763 - 299$

$934 - 268$

比500小

比600大

### 四、算一算。(22分)

- 口算。(8分)

$50 - 38 =$

$32 + 48 =$

$48 + 26 =$

$47 + 35 =$

$52 - 13 =$

$15 + 66 =$

$81 - 18 =$

$34 - 29 =$

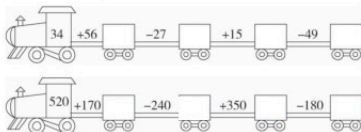
2. 列竖式计算。(6分)

$750 + 160 =$

$760 - 390 =$

$240 + 390 =$

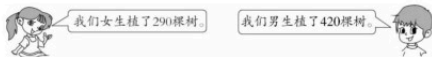
3. 开火车,填一填。(8分)



五、解决问题。(36分)

1. 爷爷今年86岁了,他比小丽大78岁,你知道小丽今年多少岁吗?(6分)

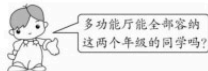
2. 三(1)班的学生积极参加“植树造林,绿化家园”活动。(12分)



(1) 男生比女生多植树多少棵?(6分)

(2) 三(1)班共植树多少棵?(6分)

3. 学校的多功能厅可以同时容纳500人观影,一年级来了283人,二年级来了255人。(6分)



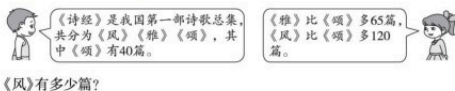
4. 购物。(12分)



(1) 买一部手机和一台电饭煲大约一共需要多少钱?(6分)

(2) 一部手机比一个吹风机大约贵多少钱?(6分)

六、拓展题。(8分) ★★★



《风》有多少篇?