



第二单元检测

一、快乐填空。

1. 在计算 $640 - 320$ 时,其实就是()个十减()个十,也就是()个十,所以结果是()。

2. 在括号里填上合适的数。

$$() + 660 = 830$$

$$() - 570 = 330$$

$$80 + () = 250$$

$$700 - () = 370$$

$$630 - () = 550$$

$$() + 310 = 500$$

3. 在○里填上“>”“<”或“=”。

$$46 + 20 \bigcirc 64 + 20$$

$$680 + 220 \bigcirc 620 + 280$$

$$250 + 360 \bigcirc 25 + 36$$

$$810 - 280 \bigcirc 800 - 280$$

$$98 - 76 \bigcirc 78 - 56$$

$$740 - 370 \bigcirc 740 - 380$$

4. 在估算 $749 + 198$ 时,把 749 看成(),把 198 看成(),结果大约是()。

二、计算题。

1. 直接写出得数。

$$30 + 40 =$$

$$25 + 45 =$$

$$80 - 40 =$$

$$85 - 65 =$$

$$45 + 34 =$$

$$67 + 17 =$$

$$95 - 68 =$$

$$77 - 48 =$$

$$140 + 530 =$$

$$730 - 610 =$$

$$510 + 280 =$$

$$870 - 420 =$$

2. 列竖式计算。

$$760 + 150 =$$

$$930 - 580 =$$

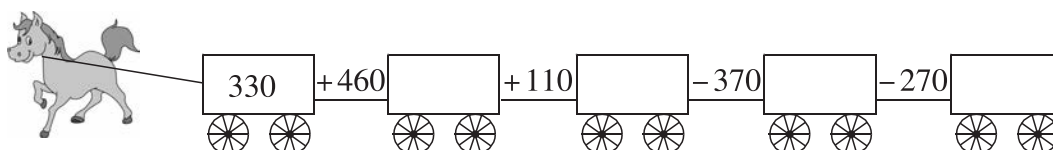

$$620 - 480 =$$

$$830 - 370 =$$

$$280 + 320 =$$

$$800 - 670 =$$

三、小马拉车。





四、把下面算式按得数从大到小的顺序排列。

$$56 + 32 \quad 160 + 320 \quad 450 + 470 \quad 98 - 12 \quad 970 - 880$$

() > () > () > () > ()

五、先估算,再把相应算式的序号填在合适的圈里。

① $822 - 398$

② $367 + 164$


③ $738 - 225$

④ $798 - 301$


⑤ $778 - 209$

⑥ $435 + 111$

结果比 500 大



结果比 500 小



六、解决问题。

1. 商城小学开展捐赠图书活动,三年级一班捐了 61 本图书,三年级二班捐了 35 本图书,两个班一共捐了多少本图书?

2. 暑假期间,妈妈为东东买了一本百科全书,一共有 350 页。东东读了 190 页,还有多少页没有读?

3. 如右图。

(1) 买一台电子秤和一台微波炉,大约要用多少钱?



电子秤 249 元



微波炉 353 元



榨汁机 382 元



电话机 167 元

(2) 王老师买了两样物品,付了 500 元,还找回一些钱,王老师买的是哪两样物品?



第二单元检测

一、快乐填空。

1. 在计算 $640 - 320$ 时,其实就是(**64**)个十减(**32**)个十,也就是(**32**)个十,所以结果是(**320**)。

2. 在括号里填上合适的数。

$$(\text{170}) + 660 = 830$$

$$(\text{900}) - 570 = 330$$

$$80 + (\text{170}) = 250$$

$$700 - (\text{330}) = 370$$

$$630 - (\text{80}) = 550$$

$$(\text{190}) + 310 = 500$$

3. 在○里填上“>”“<”或“=”。

$$46 + 20 \text{ (<) } 64 + 20$$

$$680 + 220 \text{ (=) } 620 + 280$$

$$250 + 360 \text{ (>) } 25 + 36$$

$$810 - 280 \text{ (>) } 800 - 280$$

$$98 - 76 \text{ (=) } 78 - 56$$

$$740 - 370 \text{ (>) } 740 - 380$$

4. 在估算 $749 + 198$ 时,把 749 看成(**750**),把 198 看成(**200**),结果大约是(**950**)。

二、计算题。

1. 直接写出得数。

$$30 + 40 = \text{70}$$

$$25 + 45 = \text{70}$$

$$80 - 40 = \text{40}$$

$$85 - 65 = \text{20}$$

$$45 + 34 = \text{79}$$

$$67 + 17 = \text{84}$$

$$95 - 68 = \text{27}$$

$$77 - 48 = \text{29}$$

$$140 + 530 = \text{670}$$

$$730 - 610 = \text{120}$$

$$510 + 280 = \text{790}$$

$$870 - 420 = \text{450}$$

2. 列竖式计算。

$$760 + 150 = \text{910}$$

$$930 - 580 = \text{350}$$

$$620 - 480 = \text{140}$$

$$\begin{array}{r} 760 \\ + 150 \\ \hline 910 \end{array}$$

$$\begin{array}{r} 930 \\ - 580 \\ \hline 350 \end{array}$$

$$\begin{array}{r} 620 \\ - 480 \\ \hline 140 \end{array}$$

$$830 - 370 = \text{460}$$

$$280 + 320 = \text{600}$$

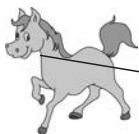
$$800 - 670 = \text{130}$$

$$\begin{array}{r} 830 \\ - 370 \\ \hline 460 \end{array}$$


$$\begin{array}{r} 280 \\ + 320 \\ \hline 600 \end{array}$$

$$\begin{array}{r} 800 \\ - 670 \\ \hline 130 \end{array}$$

三、小马拉车。



$$\begin{array}{ccccccc} 23 & + 45 & 68 & - 19 & 49 & + 24 & 73 & - 35 & 38 \end{array}$$



$$\begin{array}{ccccccc} 330 & + 460 & 790 & + 110 & 900 & - 370 & 530 & - 270 & 260 \end{array}$$



四、把下面算式按得数从大到小的顺序排列。

$$56 + 32 \quad 160 + 320 \quad 450 + 470 \quad 98 - 12 \quad 970 - 880$$

$$(450 + 470) > (160 + 320) > (970 - 880) > (56 + 32) > (98 - 12)$$

五、先估算,再把相应算式的序号填在合适的圈里。

① $822 - 398$

② $367 + 164$


③ $738 - 225$

④ $798 - 301$


⑤ $778 - 209$

⑥ $435 + 111$

结果比 500 大



结果比 500 小



六、解决问题。

1. 商城小学开展捐赠图书活动,三年级一班捐了 61 本图书,三年级二班捐了 35 本图书,两个班一共捐了多少本图书?

$$61 + 35 = 96(\text{本})$$

答:两个班一共捐了 96 本图书。

2. 暑假期间,妈妈为东东买了一本百科全书,一共有 350 页。东东读了 190 页,还有多少页没有读?

$$350 - 190 = 160(\text{页})$$

答:还有 160 页没有读。

3. 如右图。

- (1) 买一台电子秤和一台微波炉,大约要用多少钱?

249 看成 250, 353 看成 350

$$250 + 350 = 600(\text{元})$$

答:大约要用 600 元钱。



电子秤 249 元



微波炉 353 元



榨汁机 382 元



电话机 167 元

- (2) 王老师买了两样物品,付了 500 元,还找回一些钱,王老师买的是哪两样物品?

电子秤 249 元, $249 < 250$, 电话机 167 元, $167 < 170$, $250 + 170 = 420(\text{元})$, 420 不超过 500

答:买的是电子秤和电话机。