


第二单元测试卷

时间:90 分钟 满分:100 分


题号	一	二	三	四	五	总分
得分						

一、填一填。(每空 2 分,共 10 分)

- 站在不同的位置上观察物体,最多可以看到物体的()个面。
- ()看不见桌子上的电脑。(填名字)



- 姐姐看到的是(),哥哥看到的是(),弟弟看到的是()。(填序号)



二、选一选。(18 分)

- 小鸟看到的是哪幅图?()



A




B



C

2. 下面是三名同学从不同方向看到的小汽车。豆豆看到的是()。



A



B



C

3. 慧慧看到的是哪幅图? ()



慧慧



A




B



C

4. 奇奇看到的是图形()。



奇奇



A



B



C

5. 图()是从上面看到的。



A




B



C

6. 在C点位置看到的是图形()。



C

B

A



A



B



C

三、按要求画一画。(16分)


1. 小童看到的是哪幅图?画“√”。乐乐看到的是哪幅图?画“○”。



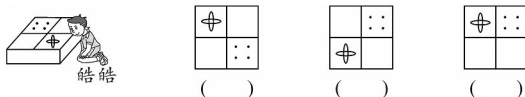
2. 小猪看到的是哪幅图?在正确答案的 ☐ 里画“√”。



3. 爸爸从窗内看到的情景会是下面哪幅图?在括号里画“√”。



4. 找出皓皓从上面看到的图形,在()里画“□”。




四、看图连一连。(44分)

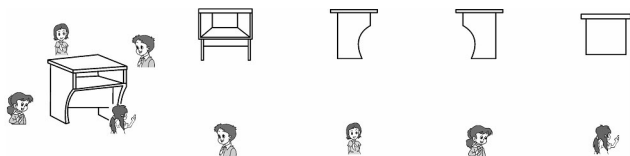
1. 右面的图分别是哪个小朋友看到的?



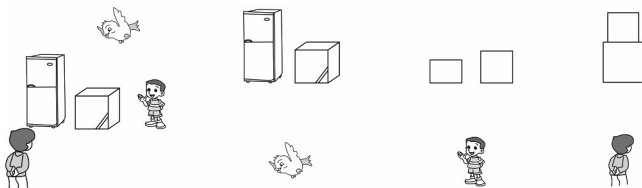
2. 下面的房子各是哪个小动物看到的？连一连。



3. 下面的图分别是谁看到的？连一连。



4. 下面这三幅图分别是谁看到的？想一想，连一连。



五、请说出下面三张照片分别是在房子的哪一面拍的。（12分）



()面

()面

()面

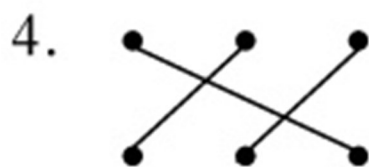
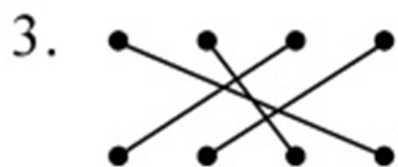
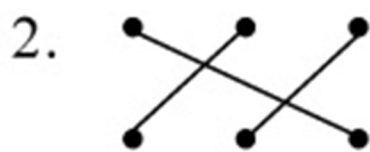
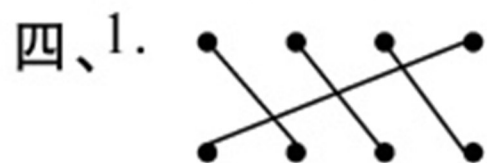
第二单元测试卷

一、1. 3 2. 小红 3. ① ③ ②

二、1. A 2. A 3. A 4. C 5. A 6. A

三、1. (√)(○)() 2. ☐ ☐ ☒

3. (3)(√) 4. () (□) ()



五、(前) (右) (后)