


第三单元 (1~5的认识和加减法) 测试B卷















自我评价

家长评价

教师评价

一 我来数一数,填一填。(每空1分,共14分)



二 我来涂一涂。(每题2分,共6分)



三 我会画。(每题 2 分,共 8 分)



3



4



2



5



1

四 我来数一数,填一填。(每题 4 分,共 12 分)



() 个

从左数



第() 个

从右数




第() 个

五 我会看算式画圆圈。(每题 5 分,共 15 分)


$$2+2$$




$$5-2$$





$$1+3$$



六 我会看图列算式。(每题 5 分,共 10 分)



$$5 - 2 = \square$$



$$4 - \square = \square$$


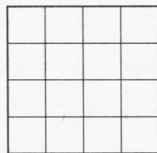


七 我会解决问题。(每题 5 分,共 35 分)

- 小明家住在五楼,从一楼到五楼要走()层楼梯。
- 一张全家福中有 3 个大人排成一行,每两个大人之间有一个小孩。
照片中一共有()个小孩。

3. 5 人坐一桌吃饭,座位够吗?



4. 5 个小正方形可以拼成哪些不同形状的图形?请你涂一涂。




5. 红红得了 5 颗星星,方方得的星星比红红少 4 颗,亮亮得的星星比方方多 3 颗,亮亮得了()颗星星。

6. 小刚做了 4 面红旗,小力再做 1 面就和小刚做的一样多了,小力做了()面红旗。

7. 一根绳子对折 2 次后从每个折口处及中间剪断,这根绳子被剪成了()段。

1. 数一数,填一填。



(1) \square 比 \star 多 () 个, () 比 \square 少 2 个。

(2) 再添上 () 个 \star , \star 就和 \triangle 同样多了。

2. 根据各图形代表的数字在括号里填数。

$$\bigcirc = 2$$

$$\triangle = 1$$

$$\square = 3$$

$$\bigcirc + \square = (\quad)$$

$$\square - \bigcirc = (\quad)$$


$$\triangle + \square = (\quad)$$

$$(\quad) + \bigcirc = \square$$

3. 小丽去商店买文具。一共有 5 种文具,每种她都喜欢,但是妈妈只允许她买 2 件不同的文具,她可以怎么买?有多少种不同的买法?



①



②



③



④



⑤